

ՄԻԱՄՆԱԿԱՆ ՔՆՆՈՒԹՅՈՒՆ

2026

ՀՈՒԼԻՍ

ԱՇԽԱՐՀԱԳՐՈՒԹՅՈՒՆ

ԹԵՍՏ 4

Խմբի համարը

Նստարանի համարը

Հարգելի՛ դիմորդ

Խորհուրդ ենք տալիս առաջադրանքները կատարել ըստ հերթականության: Ուշադիր կարդացե՛ք յուրաքանչյուր առաջադրանք և պատասխանների առաջարկվող տարբերակները: Եթե Ձեզ չի հաջողվում որևէ առաջադրանքի անմիջապես պատասխանել, ժամանակը խնայելու նպատակով կարող եք այն բաց թողնել և դրան անդրադառնալ ավելի ուշ:

Ձեր առջև դրված թեստ-գրքույկի էջերի դատարկ մասերը ազատորեն կարող եք օգտագործել սևագրության համար: **Թեստ-գրքույկը չի ստուգվում: Ստուգվում է միայն պատասխանների ձևաթուղթը:**

Առաջադրանքները կատարելուց հետո չմոռանաք պատասխանները ուշադիր և խնամքով նշել պատասխանների ձևաթղթում: Պատասխանների ձևաթղթի ճիշտ լրացումից է կախված Ձեր քննական միավորը:

Մաղթում ենք հաջողություն:

1

Աշվածներից ո՞ր աշխարհագրական մշակույթի բաղադրիչ չէ:

- 1) աշխարհագրական մտածողությունը
- 2) պատմական հետազոտության մեթոդները
- 3) աշխարհագրության լեզուն
- 4) աշխարհի աշխարհագրական պատկերը

2

Քանի՞ փուլ ունի դաշտային հետազոտության մեթոդը.

- 1) 3
- 2) 4
- 3) 5
- 4) 2

3

Հորիզոնի ո՞ր կողմի ազիմուտն է 270°:

- 1) արևելյան
- 2) հյուսիսային
- 3) արևմտյան
- 4) հարավային

4

Միջին լայնությունները քարտեզի վրա պատկերելու համար առավել հաճախ ո՞ր պրոյեկցիան են կիրառում:

- 1) ազիմուտային
- 2) գլանային
- 3) կոնային
- 4) հասարակածային

5

Բնութագրումով որոշել վարկածը.

Ելակետ ընդունելով այդ վարկածը՝ գիտնականները եզրակացնում են, որ Երկրի վրա կուտակված հսկայածավալ ջուրն արտահոսել է ընդերքից, Երկրի տաքացումը՝ սկսվել կենտրոնից: Ո՞րն է այդ վարկածը:

- 1) երկնաքարային
- 2) պատահարային
- 3) խորքային գրավիտացիոն
- 4) միզամածային

6

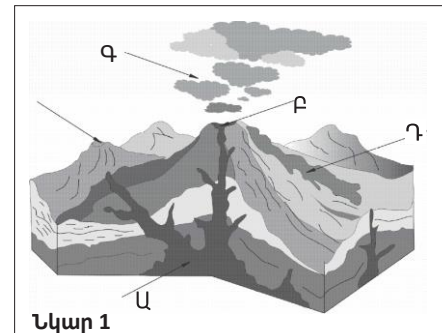
Ո՞ր պնդումն է ճիշտ:

- 1) Միջօրեականի վրա տվյալ պահին դիտված ժամանակը կոչվում է դեկրետային ժամանակ:
- 2) Ամսաթվի փոփոխման գիծն անցնում է գլխավոր միջօրեականով:
- 3) Դելիի գոտիական ժամանակն առաջ է Երևանի գոտիական ժամանակից:
- 4) Օրվա նույն ժամը կարող է լինել միայն նույն գուգահեռականի վրա:

7

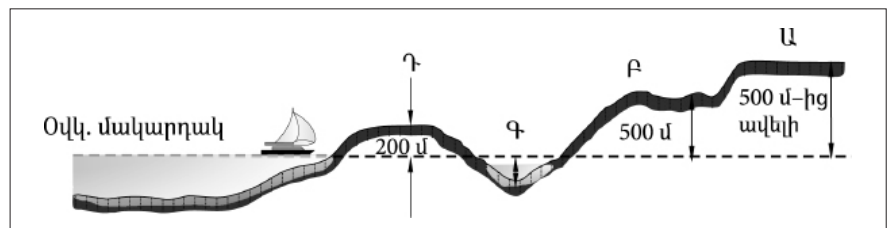
Նկար 1-ում ո՞ր տառով է նշված հրաբխի մղանցքը:

- 1) Բ
- 2) Գ
- 3) Դ
- 4) Ա



8

Նկար 2-ում ո՞ր հարթավայրն է նշված Դ տառով:

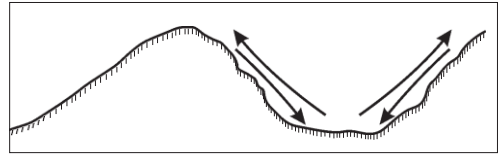


- 1) բարձրավայր
- 2) ցածրավայր
- 3) դաշտավայր
- 4) սարահարթ

9

Ո՞ր քամիներն են պատկերված նկար 3-ում:

- 1) մուսսոններ
- 2) պասսատներ
- 3) լեռնահովտային քամիներ
- 4) բրիզներ

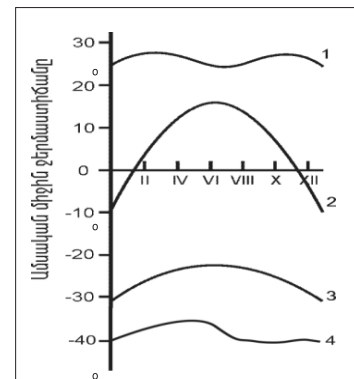


նկար 3

10

Նկար 4-ում ո՞ր թվով է նշված օդի ջերմաստիճանի տարեկան ընթացքի կորը բարեխառն լայնություններում:

- 1) 2
- 2) 3
- 3) 4
- 4) 1



Նկար 4

11

Համաշխարհային օվկիանոսի վերաբերյալ ո՞ր պնդումն է ճիշտ:

- 1) Առավել մեծ աղիություն ունեն հասարակածային գոտու ջրերը:
- 2) Ցունամիի առաջացման հիմնական պատճառը մշտական ուղղություն ունեցող քամիներն են:
- 3) Լուսնի ձգողական ուժի հետևանքով օրական երկու անգամ օվկիանոսի ջրի մակարդակի իջեցումը կոչվում է տեղատվություն:
- 4) Օվկիանոսի այն հատվածը, որը ներթափանցել է ցամաքի մեջ, կոչվում է նեղուց:

12

Գետի ակունքի բացարձակ բարձրությունը 2500 մ է, գետաբերանինը՝ 1600 մ, երկարությունը՝ 150 կմ: Գետի թեքությունը կլինի.

- 1) 6 մ/կմ
- 2) 15 մ/կմ
- 3) 8 մ/կմ
- 4) 12 մ/կմ

13

Մթնոլորտի ո՞ր շերտն է ֆիլտրում ուլտրամանուշակագույն ճառագայթների մեծ մասը.

- 1) վերնոլորտը
- 2) օզոնի շերտը
- 3) ջերմոլորտը
- 4) ներքնոլորտը

14

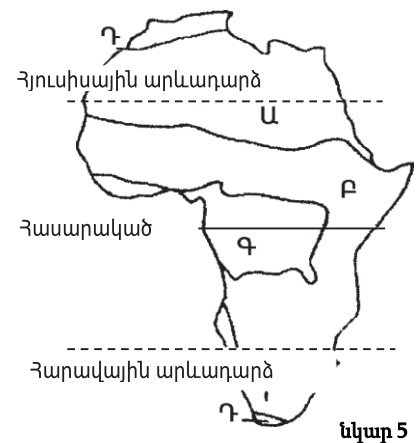
Նշվածներից որի՞ միավորն է արտահայտվում տոկոսներով.

- 1) հարաբերական խոնավություն
- 2) օդի ջերմաստիճան
- 3) բացարձակ խոնավություն
- 4) մթնոլորտային ճնշում

15

Նկար 5-ում ո՞ր թվով է պատկերված հասարակածային խոնավ անտառների զոնան:

- 1) Բ
- 2) Գ
- 3) Դ
- 4) Ա



16

Տայգայի բնական զոնան հիմնականում ո՞ր հողերի վրա է տարածվում:

- 1) կարմրագորշ
- 2) պոդզոլային
- 3) դարչնագույն
- 4) լատերիտային

17 Քարտեզ 1-ում Բ տառով նշված կետի անունը նշված է:

- 1) Բերինգի
- 2) Ջիբլարթարի
- 3) Թորրեսի
- 4) Մալակկայի

18 Քարտեզ 1-ում Ա տառով նշված կետի անունը նշված է:

- 1) Մինգապուր
- 2) Ադեն
- 3) Մումբայ
- 4) Չենայ



Քարտեզ 1

19

Աֆրիկայի վերաբերյալ պնդումներից ո՞րն է ճիշտ:

- 1) Կլիման ձևավորող գլխավոր գործոնը ռելիեֆն է:
- 2) Մայրցամաքի վրա ձևավորվում է մթնոլորտային ճնշման չորս մարզ՝ երկու բարձր, երկու ցածր:
- 3) Կանարյան սառը հոսանքը մեծ դեր է խաղացել Սահարա անապատի առաջացման գործում:
- 4) Արևմուտքում գտնվող Կամերուն գործող հրաբուխը մայրցամաքի ամենախոնավ շրջանն է:

20

Ո՞ր գետն է երկու անգամ հատում հասարակածը:

- 1) Կոնգո
- 2) Նեղոս
- 3) Նիգեր
- 4) Օրանժ

21

Ո՞ր պնդումն է ճիշտ.

- 1) Հյուսիսային Ամերիկան Գրենլանդիայից բաժանվում է Բերինգի նեղուցով:
- 2) Հյուսիսային Ամերիկայում Միսսուրի գետը հորդանում է ձմռանը:
- 3) Հյուսիսային Ամերիկայում ամենամեծ տարածում ունի անապատների և կիսաանապատների զոնան:
- 4) Հյուսիսային Ամերիկայի հյուսիսային մասի մակերևույթի ձևավորման վրա մեծ ազդեցություն են թողել սառցադաշտերը:

22

Հյուսիսային Ամերիկայում չեն ապրում.

- 1) կարիբուն ու խոյացույրը
- 2) սպիտակ արջն ու լեմինգը
- 3) որմզդեղն ու բիզոնը
- 4) լաման ու նանդու ջայլամը

23

Ո՞ր պնդումն է սխալ:

- 1) Բրազիլական և Գվիանական սարահարթերի հնագույն հիմքի բյուրեղային ապարները հարուստ են երկաթի և մանգանի պաշարներով:
- 2) Կարիբյան ծովի ափերին և Անդերի հյուսիսային մասերի միջլեռնային ձկվածքներում կան նավթի հարուստ պաշարներ:
- 3) Լա Պլատայի դաշտավայրը շատ հարուստ է ոսկու պաշարներով:
- 4) Անդերը հարուստ է հատկապես պղնձի պաշարներով:

24

Ո՞ր գետը Հարավային Ամերիկայում չէ:

- 1) Յանգոի
- 2) Պարանա
- 3) Օրինոկո
- 4) Ամազոն

25

Ո՞ր ծովը Ավստրալիայի ափերը չի ողողում:

- 1) Կորալյան
- 2) Թասմանի
- 3) Արաֆուրյան
- 4) Բոֆորտի

26

Ո՞ր պնդումն է սխալ:

- 1) Անտարկտիդային ամենամոտ մայրցամաքը Հարավային Ամերիկան է:
- 2) Ատարկտիդան ամբողջությամբ ընկած է հարավային բևեռային շրջագծի և Հարավային բևեռի միջև:
- 3) Անտարկտիդան Հրո երկիր կղզեխմբից բաժանվում է Դրեյկի լայն ու փոթորկոտ նեղուցով:
- 4) Անտարկտիկան մայրցամաք է, իսկ Անտարկտիդան՝ աշխարհամաս:

27

Քաղաքական քարտեզի ձևավորման նորագույն ժամանակաշրջանի կարևոր իրադարձությունն չէ:

- 1) ԽՍՀՄ-ի կազմավորումը
- 2) ԱՄՆ-ի կազմավորումը
- 3) ԽՍՀՄ-ի փլուզումը
- 4) ՆԱՏՕ-ի և ՎՊԵ-ի ստեղծումը

28

Ո՞ր պնդումն է սխալ:

- 1) Լեռնագրական սահմանները գլխավորապես անցնում են բնական սահմաններով, հիմնականում՝ լեռնաշղթաներով ու գետերի հունով:
- 2) Երկրաչափական սահմանն ուղիղ գիծ է, որը միացնում է պետական սահմանի որոշակի կետեր՝ առանց հաշվի առնելու տեղանքի ռելիեֆային պայմանները:
- 3) Աշխարհագրական (աստղագիտական) սահմանը կարող է համընկնել այս կամ այն միջօրեականի կամ զուգահեռականի հետ:
- 4) Սահմանարկումը տեղանքում պետական սահմանի անցկացումն է, նրա աշխարհագրական կոորդինատների որոշումը, սահմանանշանների միջոցով սահմանագծի անցկացումը:

29

Ո՞ր պնդումն է ճիշտ.

- 1) Միասնական պետության վարչատարածքային միավորներն ունեն որոշակի քաղաքական ինքնավարություն:
- 2) Խորհրդարանական հանրապետությունում երկրի նախագահն ընտրվում է ոչ թե անմիջապես ժողովրդի, այլ խորհրդարանի կողմից:
- 3) Աշխարհի երկրների ճնշող մեծամասնության վարչատարածքային կառուցվածքը դաշնային է:
- 4) Միապետություններում երկրի օրենսդիր ու գործադիր իշխանությունների գործունեությունը ղեկավարում է նախագահը:

30

Ընտրել պետությունների ճիշտ շարքն՝ ըստ դրանց տարածքի մակերեսի աճման հաջորդականության.

- 1) ԱՄՆ, Չինաստան, Կանադա, Ռուսաստան
- 2) Ավստրալիա, Հնդկաստան, Բրազիլիա, Կանադա
- 3) Կանադա, Չինաստան, ԱՄՆ, Բրազիլիա
- 4) Բրազիլիա, Ավստրալիա, Սուդան, Ղազախստան

31

Ո՞ր երկիրն ունի 100 մլն-ից պակաս բնակիչ

- 1) Ֆրանսիա
- 2) Հնդկաստան
- 3) Ճապոնիա
- 4) Պակիստան

32

Բնակչության շարժի հետևանքով ներգաղթողների ու արտագաղթողների տարբերությունը կոչվում է.

- 1) բնակչության բնական աճ
- 2) բնակչության վերարադրություն
- 3) բնակչության մեխանիկական շարժ
- 4) բնակչության կազմ

33

Կյանքի միջին տևողությունը առավելապես պայմանավորված չէ.

- 1) բուժսպասարկման մակարդակով
- 2) ուրբանիզացիայի մակարդակով
- 3) բարձր մահացությամբ
- 4) բնակչության ցածր կենսամակարդակով

34

Հնդեվրոպական լեզվաընտանիքի լեզվախումբ է.

- 1) թուրքականը
- 2) սեմականը
- 3) գերմանականը
- 4) չինականը

35

Ո՞ր պնդումն է ճիշտ.

- 1) Ծանր գունավոր մետաղների ձուլումը կողմնորոշվում է դեպի հումքի բազաները:
- 2) Պողպատի ձուլման ձեռնարկությունները կառուցվում են գիտական կենտրոնների մոտ:
- 3) Ջրաէլեկտրակայանները հիմնականում կառուցվում են հարթավայրային գետերի վրա:
- 4) Աէկ-ներն ապահովում են աշխարհում արտադրվող էլեկտրաէներգիայի կեսից ավելին:

36

Նյութական արտադրության ո՞ր ճյուղն է առավել նյութատար ու տեղաբաշված է հանքի մոտ:

- 1) էլեկտրաէներգետիկա
- 2) սննդի արդյունաբերություն
- 3) մեքենաշինություն
- 4) վառելիքի արդյունահանում

37

«Հանքավայր-հանքատեսակ» գույգերից ընտրել ճիշտը.

- 1) Մագադան-գազ
- 2) Նորիլսկ-երկաթ
- 3) Սամոտլոր-նավթ
- 4) Սուրգուտ-ածուխ

38

Ընտրել «պետություն-մայրաքաղաք» համապատասխանությունների ճիշտ շարքը:

- | | |
|-------------|--------------|
| 1. Ուկրաինա | ա. Ջագրեբ |
| 2. Բուղարիա | բ. Սոֆիա |
| 3. Խորվաթիա | գ. Բուխարեստ |
| 4. Ռումինիա | դ. Կիև |

- 1) 1-գ, 2-դ, 3-բ, 4-ա
- 2) 1-դ, 2-բ, 3-ա, 4- գ
- 3) 1-դ, 2-գ, 3-բ, 4-ա
- 4) 1-բ, 2-ա, 3-դ, 4-գ

39

Կենտրոնական Ասիայի տրված պետություններից ո՞րն ունի ելք դեպի Կասպից ծով:

- 1) Տաջիկստան
- 2) Ղազախստան
- 3) Ղրղզստան
- 4) Ուզբեկստան

40

«Մշակարույս-մշակող առաջատար երկիր» գույգերից ընտրել ճիշտը:

- 1) մանիոկ-Նիգերիա
- 2) սուրճ-Մարոկկո
- 3) կակաո-Ալժիր
- 4) գետնանուշ-Թունիս

41

Ո՞ր կղզեխումբն է գտնվում Օվկիանիայում:

- 1) Միկրոնեզիա
- 2) Ճապոնական
- 3) Կուրիլյան
- 4) Ֆիլիպիններ

42

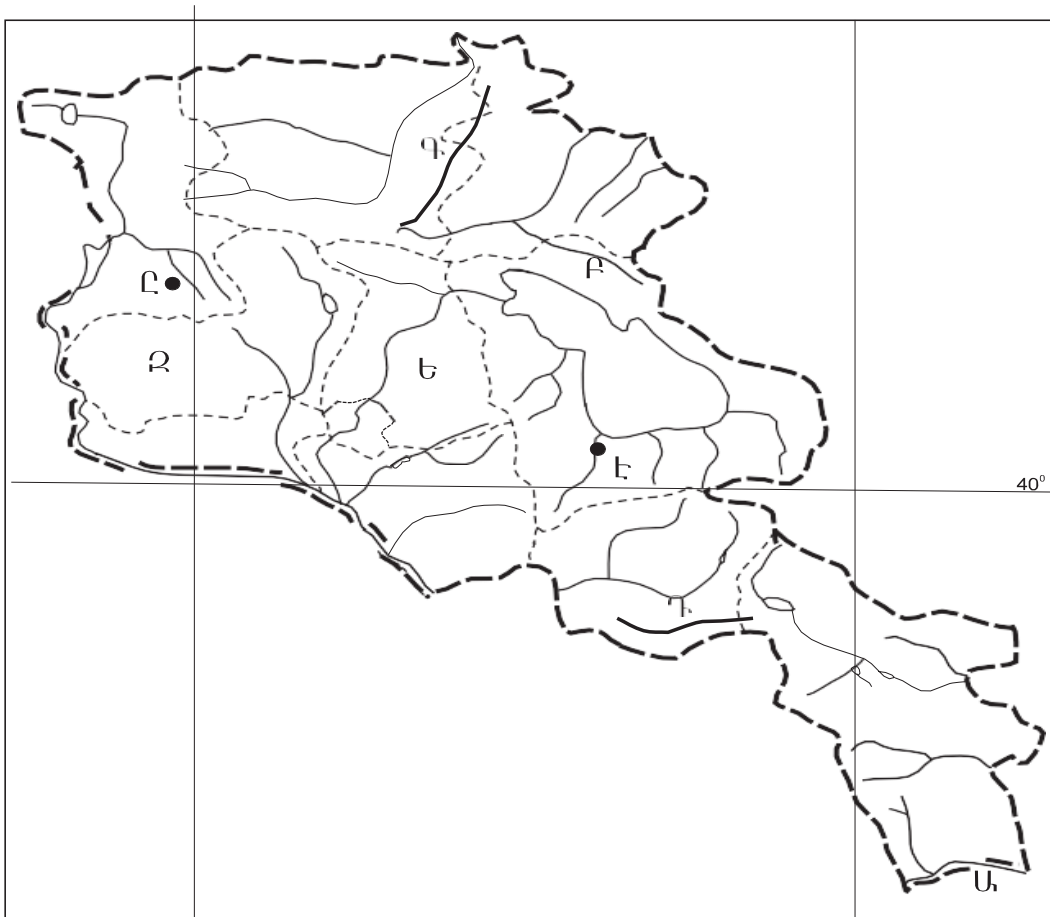
ԱՄՆ-ի ո՞ր քաղաքն է գտնվում Խաղաղ օվկիանոսի ափին:

- 1) Դեթրոյթ
- 2) Նյու Յորք
- 3) Հյուսթոն
- 4) Լոս Անջելես

43

Լատինական Ամերիկայում խոշոր եղջերավոր անասնապահության զարգացմամբ ո՞ր երկիրն է առաջատար:

- 1) Արգենտինա
- 2) Ուրուգվայ
- 3) Վենեսուելա
- 4) Պարագվայ



քարտեզ 2

44 Քարտեզ 2-ում Մարտունի քաղաքը ո՞ր տարով է նշված.

- 1) Բ
- 2) Դ
- 3) Ը
- 4) Ե

45 Քարտեզ 2-ում Կոտայքի մարզը ո՞ր տարով է նշված.

- 1) Ս
- 2) Գ
- 3) Ե
- 4) Զ

46 Լեռնագրական ո՞ր մարզը Միջնաշխարհի մեջ չի մտնում.

- 1) Հայկական հրաբխային բարձրավանդակ
- 2) Ներքին Տավրոս
- 3) Միջլեռնային գոգավորություններ
- 4) Զագրոսի լեռներ

47

ՀՀ Լոռու մարզի վերաբերյալ ո՞ր պնդումն է ճիշտ.

- 1) Քաղաքների թվով հանրապետությունում առաջինն է՝ ութ քաղաք:
- 2) Ամենացածրադիր քաղաքը Վանաձորն է:
- 3) Ամենափոքր քաղաքը Տաշիրն է:
- 4) Բնակչության թվաքանակով զիջում է միայն Սյունիքի մարզին:

48

Ո՞ր քաղաքներն են գտնվում Սյունիքի մարզում:

- 1) Սևան և Գավառ
- 2) Գյումրի և Վանաձոր
- 3) Սիսիան և Գորիս
- 4) Մարտունի և Վարդենիս

49

Գեղարքունիքի մարզի վերաբերյալ ո՞ր պնդումն է ճիշտ.

- 1) Հարավում տարածվում են աղուտներ:
- 2) Հողաբուսական ծածկույթը չի ենթարկվում վերընթաց գոտիականության:
- 3) Հողածածկույթում տիրապետում են լեռնային սևահողերը:
- 4) Հողածածկույթում շատ են կիսաանապատային գորշ հողերը:

50

Նշվածներից ո՞ր լեռնագագաթն է ամենաբարձրը Արցախի լեռնաշղթայում:

- 1) Մայմեխ
- 2) Քաշաթաղ
- 3) Մեծ Քիրս
- 4) Գոմշասար

51

Բնական և մարդածին այն օբյեկտները, որոնք ունեն եզակիություն, պատմական կամ գեղարվեստական արժեք, գեղագիտական գրավչություն, առողջարարական-կազդուրիչ նշանակություն և կարող են օգտագործվել հանգստի ու զբոսաշրջության կազմակերպման համար, կոչվում են.

- 1) ռեկրեացիոն ռեսուրսներ
- 2) հանքային ռեսուրսներ
- 3) կենսաբանական ռեսուրսներ
- 4) հողային ռեսուրսներ

52

Երկրի նավթի հետախուզված պաշարները կազմում են մոտ 24 մլն մ³, իսկ բնակչության թիվը՝ 3 մլն մարդ: Որքա՞ն կկազմի ռեսուրսաապահովվածությունը 1 բնակչի հաշվով:

- 1) 6 մ³/մարդ
- 2) 7 մ³/մարդ
- 3) 8 մ³/մարդ
- 4) 5 մ³/մարդ

53 Շրջակա միջավայրի վրա առավել շատ բացասական ազդեցություն է թողնում.

- 1) սարքաշինությունը
- 2) կոնյակի արտադրությունը
- 3) այլումինաձուլությունը
- 4) կարի արտադրությունը

54 Կենդանիների պահպանության միջոցառում է.

- 1) ճահիճների և ճահճակալած հողերի չորացումը
- 2) կլիմայավարժեցումը
- 3) առաջավոր ագրոտեխնիկայի կիրառումը
- 4) արոտաշրջանառությունը

55 Ո՞ր պնդումն է ճիշտ.

- 1) Օդում մեծ քանակությամբ փոշու առկայության պատճառով խոշոր քաղաքներում օդի ջերմաստիճանն ավելի ցածր է, քան դրանցից դուրս:
- 2) Թթվային անձրևների առաջացման միակ պատճառը Արեգակի ուլտրամանուշակագույն ճառագայթներն են:
- 3) Օզոնային շերտի քայքայումը բնորոշ է միայն Բարեխառն գոտուն:
- 4) Ջերմոցային էֆեկտը պայմանավորված է մթնոլորտում ջրային գոլորշու և ածխաթթու գազի քանակի ավելացմամբ:

56 Տրված են աշխարհի նշանավոր լճեր: Նշել մնացորդային ծագում ունեցող լճերը.

- | | |
|--------------|-------------------|
| 1) Իսիկ Կուլ | 5) Մեոյալ |
| 2) Վեներն | 6) Մեծ արջի |
| 3) Մեծ աղի | 7) Արալյան |
| 4) Կասպից | 8) Մեծ ստրուկների |

57 Գրել այն երկրների համարները, որոնք ելք ունեն դեպի ծով.

- | | |
|------------|-------------|
| 1) Չադ | 5) Մեքսիկա |
| 2) Պերու | 6) Ավստրիա |
| 3) Չեխիա | 7) Լիբանան |
| 4) Եգիպտոս | 8) Պարագվայ |

58 Գրել այն երկրների համարները, որոնք առաջատար են ձկնային տնտեսությունների զարգացվածությամբ.

- | | |
|--------------|--------------|
| 1) Գերմանիա | 5) Ուկրաինա |
| 2) Հնդկաստան | 6) Լեհաստան |
| 3) Պերու | 7) Բոլիվիա |
| 4) Չինաստան | 8) Ինդոնեզիա |

59

Գրել այն երկրների համարները, որոնք գտնվում են Լատինական Ամերիկայում:

- | | |
|--------------|--------------|
| 1) Ճապոնիա | 5) Իտալիա |
| 2) Նիգերիա | 6) Ֆրանսիա |
| 3) Էկվադոր | 7) Չիլի |
| 4) Արգենտինա | 8) Կոլումբիա |

60

Գրել այն երկրների համարները, որոնք ԵՄ կազմում են.

- | | |
|--------------|-------------|
| 1) Բուլղարիա | 5) Գերմանիա |
| 2) Ավստրալիա | 6) Իրաք |
| 3) Դանիա | 7) Բրազիլիա |
| 4) Հունաստան | 8) Թուրքիա |

61

Գրել այն ջրեկների համարները, որոնք մտնում են Որոտանի կասկադի մեջ.

- | | |
|-------------|------------|
| 1) Տաթևի | 5) Սևանի |
| 2) Արգելի | 6) Արզնիի |
| 3) Երևանի | 7) Շամբի |
| 4) Քանաքեռի | 8) Այրումի |

62

Արաքսի ձախակողմյան տրված վտակների համարները դասավորել հյուսիսից հարավ ուղղությամբ:

- 1) Հրազդան
- 2) Ախուրյան
- 3) Արփա

63

ՀՀ տրված լճերի համարները դասավորել արևմուտքից արևելք ուղղությամբ.

- 1) Քարի
- 2) Արփի
- 3) Սև

(64-65). Աշտարակ քաղաքում օրվա ընթացքում չափել են օդի ջերմաստիճանը և ստացել են -1° , -4° , -6° , -2° , $+7^\circ$, $+16^\circ$, $+10^\circ$, $+4^\circ$ ցուցանիշները:

64 Որոշել օդի ջերմաստիճանի տատանման օրական լայնույթը (ամպլիտուդ):

65 Որոշել օդի օրական միջին ջերմաստիճանը:

66 Վայրի աշխարհագրական կոորդինատներն են՝ հս. լ. $45^\circ 30'$ և արմ. ե. 80° : Որոշել Արեգակի ճառագայթների անկման անկյունը դեկտեմբերի 22-ի կեսօրին:

67

Որոշել միևնույն միջօրեականի վրա գտնվող երկու կետերի միջև հեռավորությունը (կմ-ով), եթե դրանցից մեկը հվ. լ. 17° -ի վրա է, իսկ մյուսը՝ հվ. լ. 36° -ի:

68

Երկրի բնակչության թիվը 2,8 մլն մարդ է, բնակչության միջին խտությունը՝ 70 մարդ/կմ²: Որքա՞ն է երկրի տարածքի մակերեսը:

69

Ֆրանսիայի վերաբերյալ տրված պնդումներից որո՞նք են ճիշտ, որո՞նք՝ սխալ.

- 1) Էլեկտրաէներգիայի մեծ մասը բաժին է ընկնում աեկներին:
- 2) Արդյունաբերության առաջատար ճյուղերից է թեթև արդյունաբերությունը:
- 3) Գյուղատնտեսության առաջատար ճյուղը անասնապահությունն է:
- 4) ՀՆԱ-ի մեծությամբ առաջինն է Արևմտյան Եվրոպա տարածաշրջանում:
- 5) Տնտեսությունը զարգացման հետինդուստրիալ փուլում է:
- 6) Հարուստ է նավթի պաշարներով:

70

ՀՀ Տավուշի մարզի վերաբերյալ տրված պնդումներից որո՞նք են ճիշտ, որո՞նք՝ սխալ.

- 1) ՀՀ փայտամշակման փայտամշակման խոշորագույն կոմբինատը Իջևանում է:
- 2) ՀՀ-ում ծխախոտի մշակության գլխավոր շրջաններից է:
- 3) Մարզի ընդերքում կան մարմարի, բենթոնիտային կավի և ածխի պաշարներ:
- 4) ՀՀ խաղողագործական չորս շրջաններից մեկն է:
- 5) Խոզաբուծությունը թույլ է զարգացած:
- 6) Թեթև արդյունաբերության ենթաճյուղերից առավել զարգացած է տեքստիլը: