

ՄԻԱՄՆԱԿԱՆ ՔՆՆՈՒԹՅՈՒՆ

2021

ԱՇԽԱՐՀԱԳՐՈՒԹՅՈՒՆ

ԹԵՍՏ 4

Խմբի համարը

Նստարանի համարը

Հարգելի՛ դիմորդ

Խորհուրդ ենք տալիս առաջադրանքները կատարել ըստ հերթականության: Ուշադիր կարդացե՛ք յուրաքանչյուր առաջադրանք և պատասխանների առաջարկվող տարբերակները: Եթե Ձեզ չի հաջողվում որևէ առաջադրանքի անմիջապես պատասխանել, ժամանակը խնայելու նպատակով կարող եք այն բաց թողնել և դրան անդրադառնալ ավելի ուշ:

Ձեր առջև դրված թեստ-գրքույկի էջերի դատարկ մասերը ազատորեն կարող եք օգտագործել սևագրության համար: ***Թեստ-գրքույկը չի ստուգվում: Ստուգվում է միայն պատասխանների ձևաթուղթը:***

Առաջադրանքները կատարելուց հետո չմոռանաք պատասխանները ուշադիր և խնամքով նշել պատասխանների ձևաթղթում: Պատասխանների ձևաթղթի ճիշտ լրացումից է կախված Ձեր քննական միավորը:

Մաղթում ենք հաջողություն:

1) Երկրների, տարածաշրջանների բնությունն ու հասարակությունն իրենց բաղադրիչներով համալիր ուսումնասիրում է.

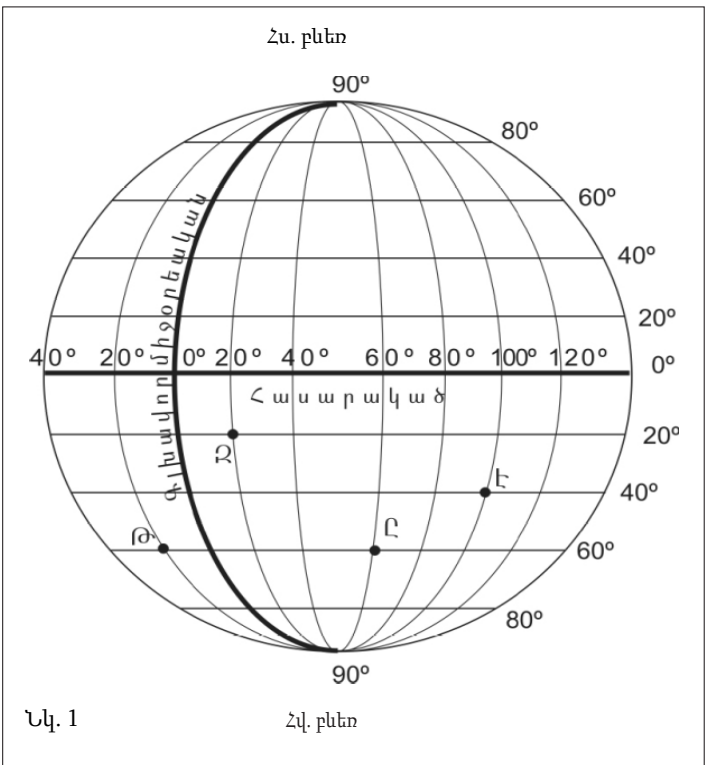
- 1) երկրաբանությունը
- 2) երկրաձևաբանությունը
- 3) երկրագրությունը
- 4) երկրաբնապահպանությունը

2) Կողմնորոշված կողմնացույցի մագնիսական սլաքը հորիզոնի ո՞ր կողմն է ցույց տալիս.

- 1) արևմտյան
- 2) հյուսիսային
- 3) արևելյան
- 4) հարավային

3) Նկար 1.- ում Ջ տառով նշված կետի աշխարհագրական կոորդինատները որո՞նք են:

- 1) հս. լ. 20° արմ. ե. 20°
- 2) հվ. լ. 20° արմ. ե. 20°
- 3) հս. լ. 20°արլ. ե. 20°
- 4) հվ. լ. 20° արլ. ե. 20°



4) Երկրի օրական պտույտի հետևանք է.

- 1) մուսսոնների առաջացումը
- 2) ժամերի տարբերությունը
- 3) երկնքի ամպամածությունը
- 4) պասսատների առաջացումը

5

Եթե տեղագրական քարտեզում հորիզոնականները խիտ դասավորություն ունեն, ապա այդ տեղամասում.

- 1) լեռնալանջը մեղմաթեք է
- 2) լեռնալանջը զառիթափ է
- 3) լեռնալանջը բուսագուրկ է
- 4) լեռնալանջը բացակայում է

6

1 : 7 000 000 մասշտաբի քարտեզում երկու կետերի հեռավորությունը 8 սմ է: Դրանց իրական հեռավորությունը կլինի.

- 1) 56 կմ
- 2) 560 կմ
- 3) 5600 կմ
- 4) 5,6 կմ

7

Բնութագրումով որոշել Երկրի շերտը.

Երկրի ամենավերին և ամենաբարակ շերտն է: Այն կազմված է համեմատաբար թեթև ապարներից: Այդ շերտն է.

- 1) ստորին միջնապատյանը
- 2) երկրակեղևը
- 3) վերին միջնապատյանը
- 4) Երկրի միջուկը

8

Ո՞ր պնդումն է սխալ.

- 1) Շատ գեյզերներ կան Կամչատկա թերակղզում:
- 2) Երկրի ընդերքում այն տեղը, որտեղ առաջանում են ապարաշերտերի կտրուկ տեղաշարժեր, կոչվում է երկրաշարժի օջախ:
- 3) Գեյզերների տաք ջրերը մարդիկ օգտագործում են ջերմոցները և բնակարանները տաքացնելու համար:
- 4) Հանգած հրաբուխներ են Վեզուվը և Կրակատաուն:

9

Ի՞նչ գազ է արտազատվում լուսասինթեզի ժամանակ.

- 1) թթվածին
- 2) ազոտ
- 3) օդոն
- 4) ածխաթթու գազ

10

Ո՞ր գոնայում են ապրում փիղը և ընձուղտը.

- 1) սավաննա
- 2) տափաստան
- 3) խառը անտառ
- 4) անապատ

11) Գետի անկումը 800 մ է, երկարությունը՝ 200 կմ: Որքա՞ն է գետի միջին թեքությունը.

- 1) 4 մ/կմ
- 2) 6 մ/կմ
- 3) 8 մ/կմ
- 4) 2 մ/կմ

12) Ո՞ր պնդումն է ճիշտ.

- 1) Հասարակածային գոտու գետերը հորդանում են ամռանը:
- 2) Սառցադաշտային սնում ունեցող գետերը հորդանում են աշնանը:
- 3) Միջերկրածովյան կլիմա ունեցող վայրերում գետերը հորդանում են ձմռանը:
- 4) Մուսսոնային կլիմա ունեցող վայրերում գետերը հորդանում են ձմռանը:

13) Բնութագրումով որոշել բնական զոնան.

Այս բնական զոնան տարածվում է մեծամասամբ հյուսիսային կիսագնդում և ընդգրկում է Հյուսիսային Ամերիկայի և Եվրասիայի հյուսիսային շրջաններն ու նրանց հարող կղզիները: Կլիման մերձարկտիկական է: Ծառեր գրեթե չեն աճում, և տարածված են մամուռներն ու քարաքոսներ: Ո՞ր բնական զոնան է.

- 1) սավաննա
- 2) տունդրա
- 3) տայգա
- 4) սառցային

14) Տափաստանների բնական զոնան հիմնականում ո՞ր հողերի վրա է տարածվում.

- 1) կարմրագորշ
- 2) դարչնագույն
- 3) կարմրադեղին
- 4) սևահողերի

15) Ո՞ր լեռն է ամենաբարձրը Անտարկտիդայում.

- 1) Էլբրուս
- 2) Էրեբուս
- 3) Վինսոն
- 4) Մոնբլան

16) Ո՞ր պնդումն է ճիշտ.

- 1) Մուրեյ գետը սկիզբ է առնում Էյր լճից:
- 2) Ավստրալիայի ներքին շրջաններում տեղումներն առատ են:
- 3) Ավստրալիայում սառցադաշտեր չկան:
- 4) Մեծ ջրբաժան լեռնաշղթան ունի հրաբխային ծագում:

17

Հարավային Ամերիկայի արևմտյան ափով ո՞ր ծովային հոսանքն է անցնում:

- 1) Գվիանական
- 2) Բրազիլական
- 3) Ֆոլկլենդյան
- 4) Պերուական

18

Ընտրել Հարավային Ամերիկայի հարթավայրերի և դրանց բնութագրիչների համապատասխանությունների ճիշտ շարքը.

ա. Պատագոնիա
բ. Բրազիլական
գ. Լա Պլատայի
դ. Ամազոնի

1. Տափարակ հարթավայր է, ունի թեքություն դեպի արևելք, առավելապես տարածվում են խոնավ հասարակածային անտառներ:
2. Մարահարթ է, կիսաանապատ, տարածվում է բարեխառն գոտում:
3. Ընդարձակ հարթավայր է, կան պլատֆորմի կարծր բյուրեղային հիմքի մերկացած տեղամասեր՝ վահաններ, տարածվում են սավաննաներ՝ կամպոս:
4. Տափարակ հարթավայր է, ունի թեքություն դեպի հարավ, նրա միջով է հոսում Պարանա գետը:

- 1) ա-3, բ-1, գ-2, դ-4
- 2) ա-2, բ-3, գ-4, դ-1
- 3) ա-3, բ-2, գ-4, դ-1
- 4) ա-2, բ-3, գ-1, դ-4

19

Ո՞ր պնդումն է սխալ.

- 1) Հյուսիսային Ամերիկայի փոքր մասը հարավային կիսագնդում է:
- 2) Հյուսիսային Ամերիկան Հարավային Ամերիկային միանում է Պանամայի պարանոցով:
- 3) Հյուսիսային Ամերիկան Եվրասիայից բաժանվում է Բերինգի նեղուցով:
- 4) Հյուսիսային Ամերիկան ամբողջությամբ արևմտյան կիսագնդում է:

20

Ո՞ր գույգն է սխալ.

- 1) Կալիֆոռնիա թերակղզի — Կալիֆոռնիական ծոց
- 2) Ալյասկա թերակղզի — Ալյասկայի ծոց
- 3) Ֆլորիդա թերակղզի — Ֆլորիդայի նեղուց
- 4) Լաբրադոր թերակղզի — Լաբրադորի նեղուց

21

Աֆրիկայի վերաբերյալ ո՞ր պնդումն է սխալ:

- 1) Աֆրիկայի հիմքում ընկած է Գոնդվանա հնագույն խոշոր ցամաքի մասը կազմող Աֆրիկական պլատֆորմը:
- 2) Աֆրիկայի մակերևույթում տիրապետում են սարահարթերը:
- 3) Աֆրիկայում ամենաբարձր ջերմաստիճանը գրանցվել է հասարակածային գոտում:
- 4) Կապի և Դրակոնյան լեռները հին, քայքայված լեռներ են:

22

Աֆրիկայի վերաբերյալ ո՞ր պնդումն է ճիշտ.

- 1) Կլիման ձևավորող գլխավոր գործոնը ռելիեֆն է:
- 2) Մայրցամաքի վրա ձևավորվում է մթնոլորտային ճնշման 4 մարզ՝ երկու բարձր, երկու ցածր:
- 3) Կանարյան սառը հոսանքը մեծ դեր է խաղացել Սահարա անապատի առաջացման գործում:
- 4) Արևմուտքում գտնվող Կամերուն գործող հրաբուխը մայրցամաքի ամենախոնավ շրջանն է:

23

Եվրասիայի կլիմայի վերաբերյալ ո՞ր պնդումն է սխալ.

- 1) Տարածքում ձևավորվում են օդային զանգվածների բոլոր չորս հիմնական տիպերը:
- 2) Տարածքի մեծ մասի կլիման ձևավորվել է բարեխառն օդային զանգվածների ազդեցությամբ:
- 3) Մայրցամաքի հյուսիսն ամբողջ տարին անտարկտիկական ցուրտ և չոր օդային զանգվածների ազդեցության տակ է:
- 4) Մայրցամաքը տարածվում է հյուսիսային կիսագնդի բոլոր կլիմայական գոտիներում:

24

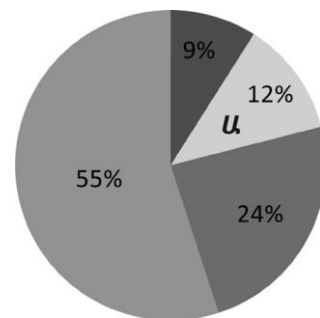
Քաղաքական քարտեզի ձևավորման նորագույն ժամանակաշրջանի առաջին փուլի կարևոր իրադարձություն չէ.

- 1) Ավստրո-Հունգարիայի փլուզումը
- 2) ԱՄՆ-ի կազմավորումը
- 3) Օսմանյան կայսրության փլուզումը
- 4) ԽՍՀՄ-ի կազմավորումը

25

Դիագրամում տրված է երկրագնդի բնակչության բաշխումն ըստ բարձրության գոտիների: Ո՞ր բարձրության գոտուն է համապատասխանում Ա տառը.

- 1) 200-500 մ
- 2) 500-1000 մ
- 3) 1000-2000 մ
- 4) մինչև 200 մ



26

Պետության բնակչության թիվը 200 մլն մարդ է, գյուղական բնակչության թիվը՝ 50 մլն: Ուրբանիզացման մակարդակը կլինի.

- 1) 50%
- 2) 40%
- 3) 25%
- 4) 75%

27

Ո՞ր պնդումն է սխալ.

- 1) ՀՏ-ի տարածքային միավորները վերագրային ընկերություններն են:
- 2) ՀՏ-ն մինչև 19-րդ դարի վերջը ուներ միակենտրոն բնույթ, այժմ բազմակենտրոն է:
- 3) ՀՏ-ի զարգացման փուլերից է արդյունաբերականը:
- 4) Համաշխարհային տնտեսությունն (ՀՏ) աշխարհի բոլոր երկրների ազգային տնտեսությունների փոխկապակցված ամբողջությունն է:

28

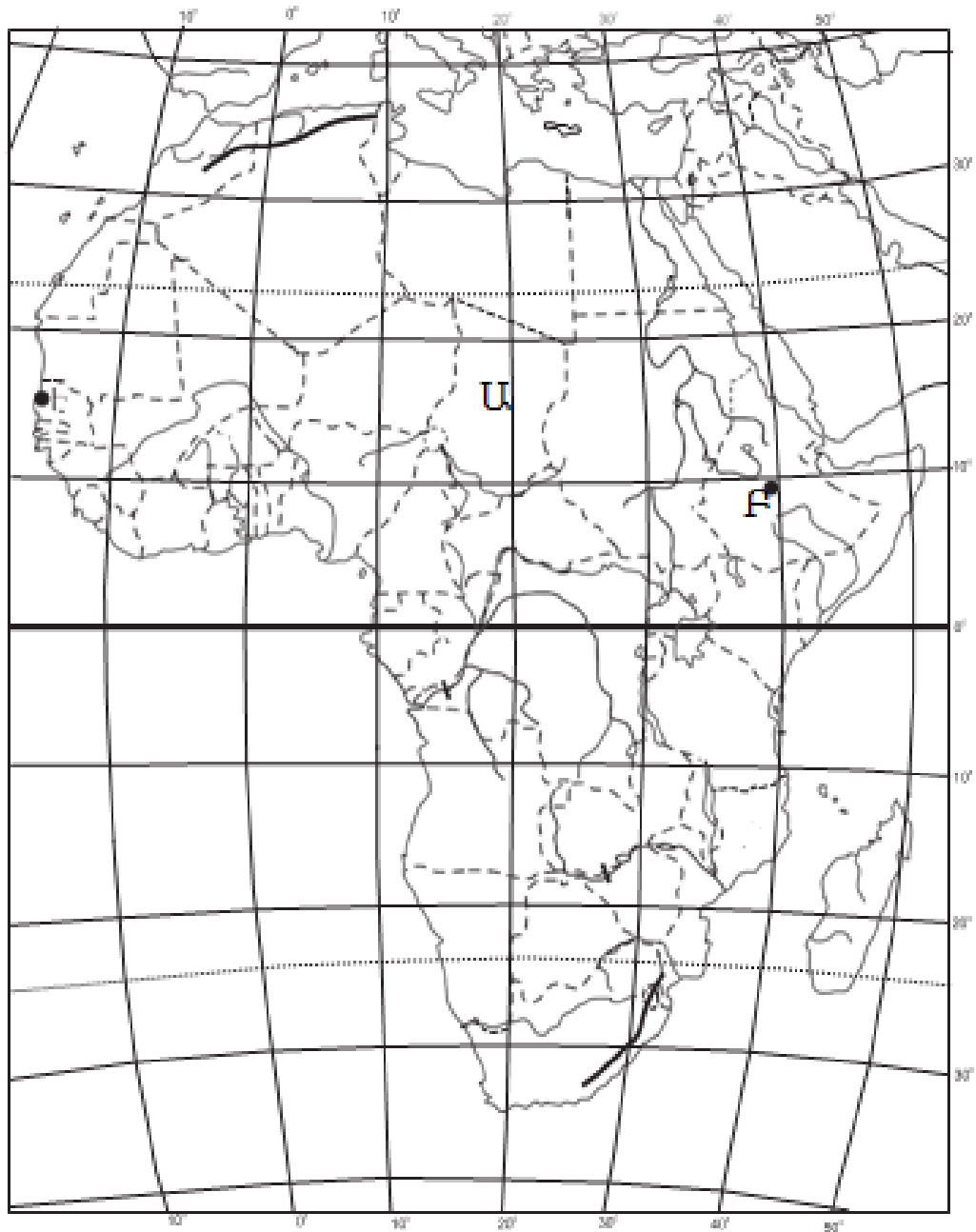
Համաշխարհային տնտեսության ճյուղերից ո՞րն է առաջատար աշխատողների թվով.

- 1) ծառայությունների ոլորտը
- 2) գյուղատնտեսությունը
- 3) տեղեկատվական ոլորտը
- 4) արդյունաբերությունը

29

Ո՞ր պնդումն է սխալ.

- 1) Թեթև և սննդի արդյունաբերության տեղաբաշխումը համատարած է, քանի որ բոլոր երկրներում էլ կա:
- 2) Թեթև և սննդի արդյունաբերությունը հիմնականում թողարկում է սպառման արտադրանք:
- 3) Թեթև և սննդի արդյունաբերությունը տնտեսության նորագույն ճյուղերն են:
- 4) Համաշխարհային թեթև և սննդի արդյունաբերության հիմնական հումքային բազան գյուղատնտեսությունն է:



քարտեզ 1

30 Ո՞ր պետությունն է քարտեզ 1-ում նշված Ա տառով.

- 1) Քենիա
- 2) Չադ
- 3) Լիբիա
- 4) ՀԱՀ

31 Ո՞ր մայրաքաղաքն է քարտեզ 1-ում նշված B տառով.

- 1) Կահիրե
- 2) Անտանանարիվու
- 3) Ռաբաթ
- 4) Ադիս Աբեբա

32

Կենտրոնական Ասիա տարածաշրջանի վերաբերյալ ո՞ր պնդումն է սխալ.

- 1) Բնակչության մեծ մասը խոսում է թյուրքական լեզվախմբի մեջ մտնող լեզուներով:
- 2) Բարձր է բնակչության միջին խտությունը:
- 3) Գերիշխող կրոն է մահմեդականությունը:
- 4) Բոլոր երկրները չունեն ելք դեպի ծով:

33

Հարավարևմտյան Ասիայի վերաբերյալ ո՞ր պնդումն է ճիշտ.

- 1) Այստեղ են առաջացել քրիստոնեություն և բուդդայականություն կրոնները:
- 2) Երկրների մեծ մասի բնակչության կազմում գերակշռում են կանայք:
- 3) Բարձր է բնակչության բնական աճը:
- 4) Տարածաշրջանի մեջ են մտնում Արաբական և Հինդուստան թերակղզիները:

34

Ո՞ր մշակաբույսի աճեցմամբ է Իտալիան աշխարհում առաջատար.

- 1) սուրճի
- 2) խաղողի
- 3) ցորենի
- 4) կակաոյի

35

Ո՞ր պետությունները Լատինական Ամերիկայում չեն.

- 1) Կանադան և Շվեդիան
- 2) Կուբան և Ուրուգվայը
- 3) Արգենտինան և Չիլին
- 4) Կոլումբիան և Պերուն

36

Ավստրալիայի վերաբերյալ ո՞ր պնդումն է սխալ.

- 1) Աշխարհում առաջատարներից է ալյումինի հումքի՝ բոքսիտների արդյունահանմամբ և արտահանմամբ:
- 2) Երկրում մշակվող գլխավոր հացահատիկային մշակաբույսը ցորենն է:
- 3) Բնակչությունը հիմնականում կենտրոնացած է հարավարևմտյան շրջաններում:
- 4) Գառան մսի արտադրությամբ աշխարհում առաջինն է:

37

«Օգտակար հանածո — հանքավայր» զույգերիցընտրել սխալը.

- 1) պղինձ — Անդերի լեռներ
- 2) գազ — Հյուսիսային ծով
- 3) երկաթ — Պարսից ծոց
- 4) քարածուխ — Ռուրի ավազան

38

Ռուսաստանի Դաշնության վերաբերյալ ո՞ր պնդումն է ճիշտ.

- 1) Բնակչության թվաքանակով աշխարհի երրորդ պետությունն է Չինաստանից և Հնդկաստանից հետո:
- 2) Ըստ պետական կարգի՝ նախագահական հանրապետություն է:
- 3) Երկրի տարածքում բնակվող մեծաթիվ ժողովուրդներից են չուվաշները:
- 4) «Ժողովրդագրական պայթյունը» կանխելու նպատակով երկիրը վարում է բնակչության աճի կրճատման ժողովրդագրական քաղաքականություն:

39

Հյուսիսային Եվրոպա տարածաշրջանի վերաբերյալ ո՞ր պնդումն է սխալ.

- 1) Աչքի է ընկնում բնակչության բարձր բնական աճով:
- 2) Բոլոր երկրներն ունեն ելք դեպի Համաշխարհային օվկիանոս:
- 3) Տարաբնակեցման ցանցում գերակշռում են քաղաքային բնակավայրերը:
- 4) Հարուստ է սառցադաշտային ծագման լճերով:

40

Բնութագրումով որոշել պետությունը.

Եվրոպական այս պետության անունը թարգմանաբար նշանակում է սառցե երկիր: Սակայն այն բացառիկ հարուստ է գեյզերներով: Երկրաջերմային էներգիան լայնորեն կիրառվում է բնակարանների և ջերմոցների ջեռուցման համար: Ո՞րն է այդ պետությունը.

- 1) Ֆինլանդիան
- 2) Իսլանդիան
- 3) Նորվեգիան
- 4) Իռլանդիան

41

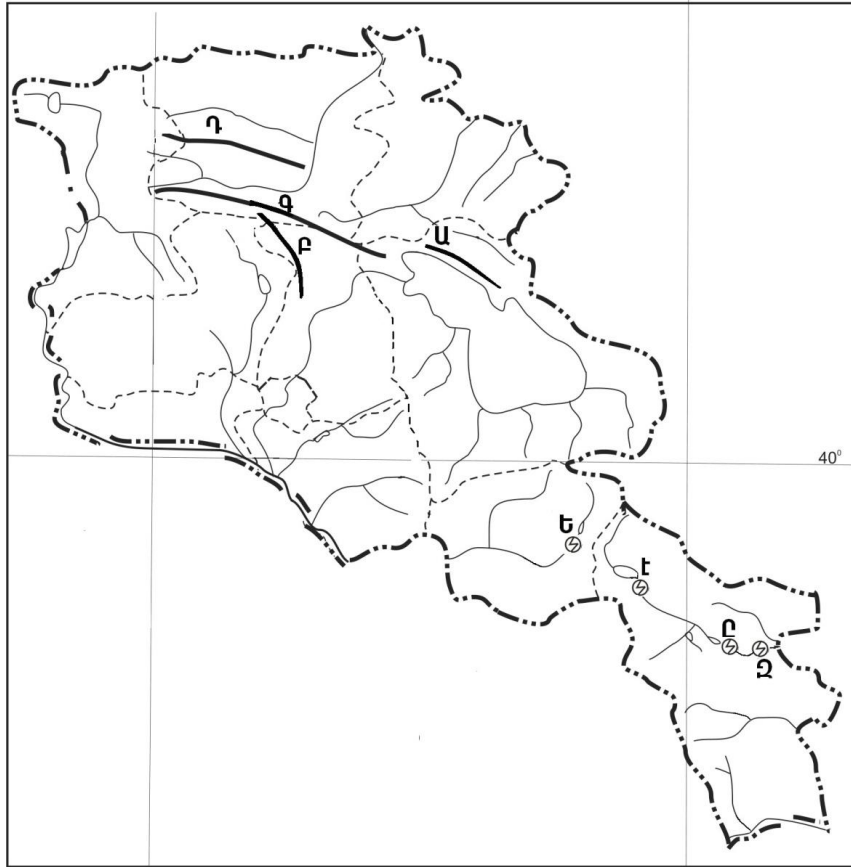
Հայկական պար լեռնաշղթայի վրա է.

- 1) Քարի լիճը
- 2) Կապուտան լիճը
- 3) Պարզ լիճը
- 4) Գայլատու լիճը

42

Ո՞ր լեռնաշղթան ՀՀ հարավում չէ:

- 1) Վայքի
- 2) Վիրահայոց
- 3) Մեղրու
- 4) Զանգեզուրի



քարտեզ 2

43 Քարտեզ 2-ում Ծաղկունյաց լեռնաշղթան ո՞ր տառով է նշված.

- 1) Բ
- 2) Գ
- 3) Դ
- 4) Ա

44 Քարտեզ 2-ում Սպանդարյանի ջրային էլեկտրակայանը ո՞ր տառով է նշված.

- 1) Ե
- 2) Է
- 3) Ը
- 4) Զ

45 Ո՞ր պնդումն է սխալ.

- 1) Քաջարան և Ախթալա քաղաքները զարգացել են իրենց մոտակայքում գտնվող հանքային հարստությունների առկայության և շահագործման շնորհիվ:
- 2) Մեծամորը և Ծաղկաձորը միագործառության քաղաքներ են:
- 3) Գյումրի և Վանաձոր քաղաքները վարչական, գիտակրթական ու մշակութային կենտրոններ են, արդյունաբերական, երկաթուղային ու ավտոխճուղային ճանապարհների հանգույց:
- 4) Արտաշատ և Արմավիր քաղաքները ցեմենտի արտադրության կենտրոններ են:

46

ՀՀ ո՞ր բնակավայրը առողջարանային չէ:

- 1) Ագարակը
- 2) Դիլիջանը
- 3) Արզնին
- 4) Հանքավանը

47

Ո՞ր պնդումն է սխալ.

- 1) ՀՀ տնտեսությունն ունի բազմաճյուղային կառուցվածք:
- 2) ՀՀ ՀՆԱ-ի կառուցվածքում ամենամեծը տրանսպորտի և կապի բաժինն է:
- 3) ՀՀ-ն անցումային տնտեսություն ունեցող երկիր է:
- 4) ՀՀ տնտեսությունը մեծապես կախված է ներմուծվող էներգակիրներից:

48

Երկաթուղային կայարաններ են.

- 1) Մարալիկը և Արթիկը
- 2) Գավառը և Մարտունին
- 3) Վայքը և Եղեգնաձորը
- 4) Գորիսը և Սիսիանը

49

Վայոց ձորի մարզի վերաբերյալ ո՞ր պնդումն է սխալ.

- 1) Մարզի զարգացման գործում մեծ դեր ունի առողջարանային տնտեսությունը:
- 2) Գյուղատնտեսական նշանակության հողերի մեծ մասն արոտավայրեր են:
- 3) Գյուղատնտեսության առաջատար ճյուղերն են թռչնաբուծությունը և խոզաբուծությունը:
- 4) Ցածրադիր գոտու ոռոգելի հողերում տարածված է խաղողագործությունը և պտղաբուծությունը:

50

Լոռու մարզում արդյունաբերության ո՞ր ենթաճյուղը զարգացած չէ.

- 1) պղնձաձուլությունը
- 2) քիմիական արդյունաբերությունը
- 3) պանրի արտադրությունը
- 4) գինու-կոնյակի արտադրությունը

51

Ո՞ր պնդումն է ճիշտ.

- 1) Ջերմոցային էֆեկտի ազդեցության մեծացումը պայմանավորված է մթնոլորտում մեթանի և ածխաթթու գազի քանակի ավելացմամբ:
- 2) Օզոնային շերտի քայքայումը բնորոշ է միայն բարեխառն գոտուն:
- 3) Թթվային անձրևների առաջացման միակ պատճառն Արեգակի ուլտրամանուշակագույն ճառագայթներն են:
- 4) Օդում մեծ քանակությամբ փոշու առկայության պատճառով խոշոր քաղաքներում օդի ջերմաստիճանն ավելի ցածր է, քան դրանցից դուրս:

52

Էլեկտրակայանների տեսակներից ո՞րն է ամենաշատն աղտոտում մթնոլորտը.

- 1) ջերմային
- 2) հողմային
- 3) արևային
- 4) ջրային

53

Ընդերքի ռեսուրսների որոշ տեսակներ խնայելու արդյունավետ միջոցառում է.

- 1) շահագործվող հանքավայրերում պոչամբարների ստեղծումը
- 2) մետաղների փոխարինումը սինթետիկ նյութերով
- 3) փակ եղանակով արդյունահանման փոխարինումը բաց եղանակով
- 4) անընդհատ նոր հանքավայրերի շահագործումը

54

Ո՞ր պնդումն է ճիշտ.

- 1) Կոնսումենտները սննդառության շղթայի այն օղակն են, որոնք անօրգանական նյութերից սինթեզում են օրգանական նյութեր:
- 2) Արգելոցը ցամաքի կամ ջրային տարածքի տեղամաս է, որտեղ պահպանվում են բնական միջավայրի կամ կենդանի օրգանիզմների մեկ կամ մի քանի տեսակներ:
- 3) Շրջակա միջավայրի մոնիթորինգը բնական միջավայրի վիճակի և դրա մարդածին փոփոխությունների դիտարկումն է, գնահատումն ու վերահսկումն է:
- 4) Անտառապատ տարածքների կրճատման հետևանք է թթվային անձրևների առաջացումը:

55

Ո՞ր պնդումն է ճիշտ.

- 1) Պարենային հիմնախնդիրը բնորոշ է մեծամասամբ զարգացած երկրներին:
- 2) Զարգացող երկրների մեծ մասի տնտեսության մեջ գերակշռողը ծառայությունների ոլորտն է:
- 3) Սովյալների և թերսնվողների գոտին ձգվում է առավելապես հյուսիսային կիսագնդի բարեխառն լայնություններում:
- 4) Մարդկային զարգացման համաթվի գլխավոր բաղադրիչներն են երկարակեցությունը, կրթվածությունը և կենսամակարդակը:

56

Գրել այն ապարների համարները, որոնք ունեն հրային ծագում.

- | | |
|--------------|-------------|
| 1) գնեյս | 5) կվարց |
| 2) գրանիտ | 6) օբսիդիան |
| 3) բազալտ | 7) կավիճ |
| 4) կերակրիաղ | 8) տուֆ |

57

Տրված են աշխարհի նշանավոր գետեր: Գրել անձրևային սնում ունեցող գետերի համարները.

- | | |
|------------|--------------|
| 1) Պարանա | 5) Սիրդարյա |
| 2) Մեկոնգ | 6) Կոնգո |
| 3) Մակենգի | 7) Կոլումբիա |
| 4) Օրինոկո | 8) Օբ |

58

Տրված են ծովային հոսանքներ: Գրել Ատլանտյան օվկիանոսի ծովային հոսանքների համարները.

- | | |
|--------------|--------------|
| 1) Սոգամբիկի | 5) Կուրո Սիո |
| 2) Այասկայի | 6) Սոմալիի |
| 3) Գվինեական | 7) Բենգելյան |
| 4) Գվիանական | 8) Գոլֆստրիմ |

59

Գրել այն լեզվախմբերի համարները, որոնք չեն մտնում հնդեվրոպական լեզվաընտանիքի մեջ.

- | | |
|---------------|----------------|
| 1) իրանական | 5) ռոմանական |
| 2) սեմական | 6) գերմանական |
| 3) հայկական | 7) թյուրքական |
| 4) սլավոնական | 8) քարթվելական |

60

Գրել այն երկրների համարները, որոնք մերձծովային են.

- | | |
|--------------|--------------|
| 1) Շվեյցարիա | 5) Բելգիա |
| 2) Մոնղոլիա | 6) Մոլդովա |
| 3) Բոլիվիա | 7) Հունգարիա |
| 4) Ալժիր | 8) Շվեդիա |

61

Գրել ՀՀ այն էլեկտրակայանների համարները, որոնք ջրային չեն.

- | | |
|-------------|-------------|
| 1) Տաթևի | 5) Քանաքեռի |
| 2) Շամբի | 6) Արզնիի |
| 3) Սևանի | 7) Մեծամորի |
| 4) Վանաձորի | 8) Ձորագետի |

62

Հայկական լեռնաշխարհի տրված գետերի համարները դասավորել դրանց հոսքի ուղղության արևմուտքից արևելք, հյուսիսից հարավ, հարավից հյուսիս հաջորդականությամբ.

1. Ճորոխ 2. Արաքս 3. Ախուրյան

63 Տրված են տարբեր բացարձակ բարձրություն ունեցող հարթավայրեր: Դասավորել բարձրության նվազման կարգով.

1. սարահարթ 2. ցածրավայր. 3. բարձրավայր 4. դաշտավայր

64 Վայրի աշխարհագրական կոորդինատներն են՝ հվ. լ. 38° , արլ. ե. 147° : Որոշել տվյալ վայրի ժամային գոտին:

65 Լեռան ստորոտին մթնոլորտային ճնշումը 680 մմ է, իսկ օդի ջերմաստիճանը՝ $+25^\circ\text{C}$: Լեռան գագաթին օդի ջերմաստիճանը $+10^\circ\text{C}$ է (հաշվարկը կատարել 5°C -ով). Որոշել մթնոլորտային ճնշումը լեռան գագաթին:

66 Ինչքա՞ն է կետրաէներգիա կարելի է ստանալ 3 տ նավթի այրումից (ջերմային գործակիցը՝ 1,5):

67

Պետության բնակչության թիվը 1 մլն է: Մեկ տարվա ընթացքում ծնվածների թիվը 25 000 մարդ է, իսկ մահացածների թիվը՝ 10 000 մարդ: Որոշել բնակչության բնական աճի գործակիցը (%):

68

Երկրի նավթի պաշարները կազմում են 6,8 մլրդ տ, տարեկան հանույթը՝ 170 մլն տ: Որքա՞ն է ռեսուրսապահովվածությունը:

69

Ճապոնիայի վերաբերյալ տրված պնդումներից որո՞նք են ճիշտ, որո՞նք՝ սխալ.

- 1) Ավտոճանապարհային ցանցի համար բնորոշ են արագընթաց լայնահուն մայրուղիները:
- 2) Բեռնաշրջանառության մեջ մեծ է գետային տրանսպորտի բաժինը:
- 3) Արտահանման մեջ գերակշռում են մեքենաներն ու սարքավորումները:
- 4) Տնտեսության զարգացման մակարդակով առաջինն է Արևելյան Ասիայում:
- 5) Թույլ է ապահովված հումքի և վառելիքի սեփական պաշարներով:
- 6) Արդյունաբերության առաջատար ճյուղը թեթև արդյունաբերությունն է:

70

ՀՀ անասնապահության վերաբերյալ տրված պնդումներից որո՞նք են ճիշտ, որո՞նք՝ սխալ.

- 1) Խոշոր եղջերավոր անասնաբուծությունը մյուս ճյուղերի համեմատ խիստ անհամաչափ է տեղաբաշխված:
- 2) Անասնապահության համախառն արտադրանքի մեծ մասը բաժին է ընկնում մանր եղջերավոր անասնապահությանը:
- 3) Խոզաբուծությունն առավել զարգացած է Գեղարքունիքի և Շիրակի մարզերում:
- 4) Թռչնաբուծական ֆաբրիկաներն առավելապես տեղաբաշխված են խոշոր քաղաքների կամ արդյունաբերական կենտրոնների մոտակայքում:
- 5) Ոչխարաբուծությունն առավել զարգացած է նախալեռնային և լեռնային շրջաններում:
- 6) Արոտավայրերի գերբեռնվածությունը և գերարածեցումը բնապահպանական հիմնախնդիրներ են առաջացնում: