

ՄԻԱՄՆԱԿԱՆ ՔՆՆՈՒԹՅՈՒՆ

2015

ՖԻԶԻԿԱ

ԹԵՍՏ 3

Խմբի համարը

Նստարանի համարը

Հարգելի՛ դիմորդ

Խորհուրդ ենք տալիս առաջադրանքները կատարել ըստ հերթականության: Ուշադիր կարդացե՛ք յուրաքանչյուր առաջադրանքի պահանջը և պատասխանների առաջարկվող տարբերակները: Եթե Ձեզ չի հաջողվում որևէ առաջադրանքի անմիջապես պատասխանել, ժամանակը խնայելու նպատակով կարող եք այն բաց թողնել և դրան անդրադառնալ ավելի ուշ:

Ձեր առջև դրված թեստ-գրքույկի էջերի դատարկ մասերը ազատորեն կարող եք օգտագործել սևագրության համար: **Թեստ-գրքույկը չի ստուգվում: Ստուգվում է միայն պատասխանների ձևաթուղթը:**

Առաջադրանքները կատարելուց հետո չմոռանաք պատասխանները ուշադիր և խնամքով նշել պատասխանների ձևաթղթում: Պատասխանների ձևաթղթի ճիշտ լրացումից է կախված Ձեր քննական միավորի ճշտությունը:

Ցանկանում ենք հաջողություն:

Ա մակարդակ

1

Ի՞նչ է նշանակում լուծել մեխանիկայի հիմնական խնդիրը:

- 1) Որոշել մարմնի կոորդինատները և արագությունը ժամանակի սկզբնական պահին:
- 2) Պարզել մարմնի շարժման պատճառը:
- 3) Գտնել մարմնի դիրքը որոշող մեծության կամ մեծությունների կախումը ժամանակից:
- 4) Գտնել այն գծի հավասարումը, որով շարժվում է մարմինը:

2

Ո՞ր ֆիզիկական մեծությունը միավորների ՄՀ-ում ունի m/v^2 չափայնություն:

- 1) Արագացումը:
- 2) Անկյունային արագությունը:
- 3) Արագությունը:
- 4) Տեղափոխությունը:

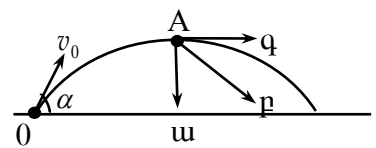
3

Ո՞րն է X առանցքով ուղղաձիծ հավասարաչափ փոփոխական շարժում կատարող նյութական կետի կոորդինատի՝ ժամանակից կախումն արտահայտող ճիշտ բանաձևը:

- 1) $x = x_0 + v_{0x}t + \frac{a_x t^2}{2}$:
- 2) $x = \frac{a_x t}{2}$:
- 3) $x = x_0 + v_{0x}t$:
- 4) $x = x_0 + v_{0x}t^2$:

4

Ինչպե՞ս է ուղղված հորիզոնի նկատմամբ անկյան տակ նետված մարմնի արագացումը հետագծի ամենավերին A կետում: Օղի դիմադրությունն անտեսել:



- 1) q սլաքի ուղղությամբ:
- 2) Արագացումը զրո է:
- 3) u սլաքի ուղղությամբ:
- 4) p սլաքի ուղղությամբ:

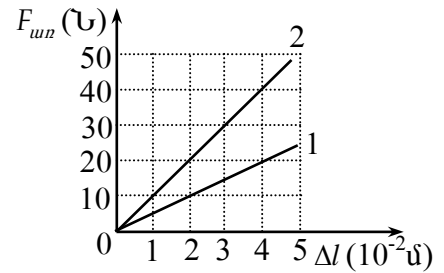
5

Ինչպե՞ս է փոխվում դադարի վիճակում գտնվող մարմնի արագության մոդուլը, եթե նրա վրա ազդող ուժերի համագործը գրոյից տարբեր հաստատուն մեծություն է:

- 1) Միշտ նվազում է:
- 2) Աճում է գծային օրենքով:
- 3) Ժամանակի ընթացքում չի փոխվում:
- 4) Աճում է քառակուսային օրենքով:

6

Նկարում պատկերված են երկու զսպանակների առաձգականության ուժի մոդուլի՝ երկարացումից կախումն արտահայտող գրաֆիկները: Որքա՞ն է զսպանակների կոշտությունների k_2/k_1 հարաբերությունը:



- 1) 3:
- 2) 4:
- 3) 1:
- 4) 2:

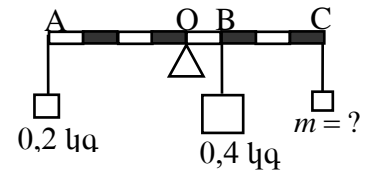
7

Մարմնի վրա մի կետում կիրառված են F մոդուլով երեք ուժեր, որոնք մի հարթության մեջ են և միմյանց հետ կազմում են 120° անկյուն: Որքա՞ն է այդ ուժերի համագործը:

- 1) F :
- 2) 0:
- 3) $3F$:
- 4) $2F$:

8

Ի՞նչ զանգվածով բեռ պետք է կախել ձողի C կետից, որպեսզի այն լինի հավասարակշռության վիճակում:



- 1) 0,4 կգ:
- 2) 0,8 կգ:
- 3) 0,1 կգ:
- 4) 0,2 կգ:

9

Հորիզոնական հարթության վրա փոքր միատուլ դրված կանոնավոր ուղղանկյուն հատվածակողմը շրջելով դրեցին մեծ միատի վրա: Ինչպե՞ս փոխվեց հատվածակողմի ճնշումը հարթության վրա:

- 1) Մնաց նույնը:
- 2) Բոլոր պատասխանները հնարավոր են:
- 3) Մեծացավ:
- 4) Փոքրացավ:

10

Ջրով լցված բաժակում լողացող սառույցը հալվեց: Ինչպե՞ս փոխվեց ջրի մակարդակը բաժակում:

- 1) Մնաց նույնը:
- 2) Պատասխանը պայմանավորված է սառցի զանգվածով:
- 3) Բարձրացավ:
- 4) Իջավ:

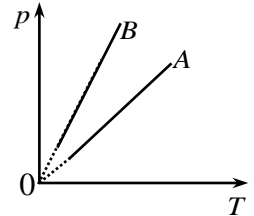
11

Ո՞ր ֆիզիկական մեծության չափման միավորն է 1 մոլը:

- 1) Մոլեկուլների թվի:
- 2) Մոլեկուլի զանգվածի:
- 3) Նյութի քանակի:
- 4) Գազի զանգվածի:

12

Հավասար ծավալներով A և B անոթներում պարունակվող նույն իդեալական գազի ճնշման կախումը բացարձակ ջերմաստիճանից արտահայտված է գրաֆիկներով: Ո՞ր գազի զանգվածն է ավելի մեծ:



- 1) Հավասար են, քանի որ անոթների ծավալները հավասար են:
- 2) Հավասար են, քանի որ անոթներում նույն գազն է:
- 3) A անոթում պարունակվող գազինը:
- 4) B անոթում պարունակվող գազինը:

13

Ինչպե՞ս է կախված իդեալական գազի մոլեկուլների քառասային շարժման միջին կինետիկ էներգիան T բացարձակ ջերմաստիճանից:

- 1) Ուղիղ համեմատական է \sqrt{T} -ին:
- 2) Հակադարձ համեմատական է \sqrt{T} -ին:
- 3) Ուղիղ համեմատական է T -ին:
- 4) Հակադարձ համեմատական է T -ին:

14

Գազին հաղորդում են Q ջերմաքանակ և այն, ընդարձակվելով, կատարում է A' աշխատանք: Որքա՞ն է գազի ներքին էներգիայի փոփոխությունը:

- 1) $Q - A'$:
- 2) $Q + \frac{3}{2} A'$:
- 3) Q :
- 4) A' :

15

Ինչպե՞ս կփոխվի գլանում՝ մխոցի տակ, ջրի հագեցած գոլորշու ճնշումը, եթե այն սեղմենք՝ հաստատուն պահելով ջերմաստիճանը:

- 1) Ճնշումը կմնա անփոփոխ:
- 2) Ճնշումն սկզբում կաճի, իսկ հետո կնվազի:
- 3) Ճնշումն անընդհատ կաճի:
- 4) Ճնշումն անընդհատ կնվազի:

16

Հավելիս բյուրեղային մարմնի ջերմաստիճանը չի փոխվում: Ինչի՞ վրա է ծախսվում այդ դեպքում նրան հաղորդած ջերմաքանակը:

- 1) Հաղորդվում է շրջապատին:
- 2) Ջերմաքանակ հաղորդելիս մարմնի ջերմաստիճանն անպայման պետք է աճի:
- 3) Մարմնի մասնիկների կինետիկ էներգիայի մեծացման:
- 4) Մարմնի մասնիկների փոխազդեցության պոտենցիալ էներգիայի մեծացման:

17

Ո՞րն է նախադասության սխալ շարունակությունը:
Հեղուկի մակերևութային լարվածության գործակիցը կախված է՝

- 1) հեղուկի ջերմաստիճանից:
- 2) հեղուկի ազատ մակերևույթի մակերեսից:
- 3) հեղուկի տեսակից:
- 4) հեղուկում խառնուրդների առկայությունից:

18

Ինչի՞ց է կախված համասեռ ձողի կոշտությունը:

- 1) Միայն նյութի տեսակից:
- 2) Չողի երկարությունից, լայնական հատույթի մակերեսից և նյութի տեսակից:
- 3) Միայն ձողի երկարությունից:
- 4) Միայն ձողի երկարությունից և նյութի տեսակից:

19

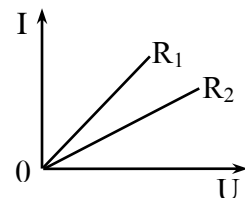
Հաստատուն հոսանքի դեպքում հաղորդիչներից ո՞րն է ավելի մեծ դիմադրությամբ օժտված՝ պղնձե հոծ ձողը, թե՞ նույն արտաքին տրամագիծն ունեցող պղնձե խողովակը: Երկուսի երկարություններն էլ նույնն են:

- 1) Խողովակի դիմադրությունն ավելի մեծ է:
- 2) Հնարավոր չէ հարցին միարժեք պատասխանել:
- 3) Հավասար են:
- 4) Չողի դիմադրությունն ավելի մեծ է:

20

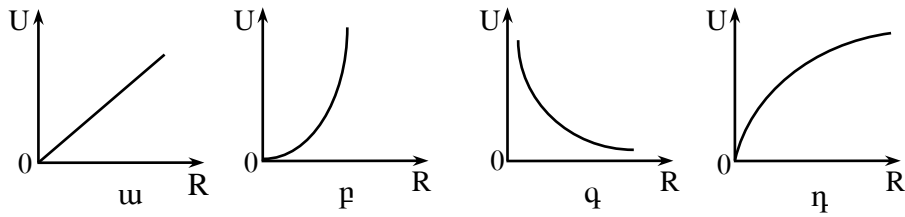
Նկարում պատկերված են հոսանքի ուժի՝ լարումից կախման գրաֆիկները R_1 և R_2 դիմադրություններ ունեցող երկու հաղորդիչների համար:
Ո՞րն է այդ դիմադրությունների միջև ճիշտ առնչությունը:

- 1) $R_1 = R_2$:
- 2) Գրաֆիկներից եզրակացություն անել հնարավոր չէ:
- 3) $R_1 > R_2$:
- 4) $R_1 < R_2$:



21

Ո՞ր գրաֆիկն է արտահայտում փակ շղթայում հաստատուն հոսանքի աղբյուրի սեղմակներում լարման կախումն արտաքին դիմադրությունից:



- 1) q:
- 2) η:
- 3) u:
- 4) p:

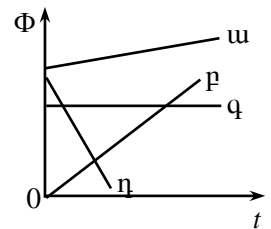
22

Լիցքավորված մասնիկը շրջանագծային ուղեծրով պտտվում է համասեռ մագնիսական դաշտում: Ինչպե՞ս կփոխվի մասնիկի պտտման պարբերությունը, եթե նրա արագության մոդուլը փոքրացնենք երկու անգամ:

- 1) Կմնա նույնը:
- 2) Կմեծանա 4 անգամ:
- 3) Կմեծանա 2 անգամ:
- 4) Կփոքրանա 2 անգամ:

23

Նկարում պատկերված են փակ շրջանակով մագնիսական հոսքի՝ ժամանակից կախումն արտահայտող գրաֆիկներ: Ո՞ր գրաֆիկի դեպքում է շրջանակում մակաձվում մոդուլով առավելագույն էլՇՈւ:



- 1) q:
- 2) η:
- 3) u:
- 4) p:

24

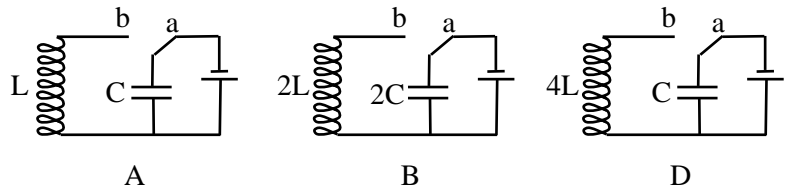
Հավասարաչափ նվազող ինդուկցիայով մագնիսական դաշտում R դիմադրությամբ հաղորդիչ օղակում մակաձվում է I հոսանք: Որքա՞ն է մեկ վայրկյանում մագնիսական հոսքի փոփոխությունը կոնտուրում:

- 1) IR^2 :
- 2) 0:
- 3) IR :
- 4) I^2R :

25

Ո՞ր տատանողական կոնտուրների էլեկտրամագնիսական տատանումների հաճախությունները կհամընկնեն, երբ բանալին *a* դիրքից տեղափոխենք *b* դիրքը:

- 1) A և B կոնտուրներում:
- 2) B և D կոնտուրներում:
- 3) Բոլոր կոնտուրներում:
- 4) Ոչ մի կոնտուրում:



26

R դիմադրությունով անցնող փոփոխական հոսանքի լայնության շարժերը I_0 է, իսկ նրա ծայրերին կիրառված լարման լայնության շարժերը՝ U_0 : Որքա՞ն է նրա վրա անջատված միջին հզորությունը:

- 1) $\frac{I_0 U_0}{2}$:
- 2) $\frac{I_0}{\sqrt{2}} U_0$:
- 3) $I_0 U_0$:
- 4) $2I_0 U_0$:

27

Ինչպիսի՞ն է առարկայի պատկերը հարթ հայելում:

- 1) Ուղիղ, կեղծ, փոքրացված:
- 2) Շրջված, իրական, մեծացված:
- 3) Ուղիղ, իրական, նույն չափի:
- 4) Ուղիղ, կեղծ, նույն չափի:

28

Փոխվո՞ւմ են արդյոք լույսի ալիքի երկարությունը և հաճախությունը վակուումից ջուր անցնելիս:

- 1) Ալիքի երկարությունը փոքրանում է, հաճախությունը չի փոխվում:
- 2) Ալիքի երկարությունը մեծանում է, հաճախությունը չի փոխվում:
- 3) Ալիքի երկարությունը փոքրանում է, հաճախությունը՝ մեծանում:
- 4) Ալիքի երկարությունը մեծանում է, հաճախությունը՝ փոքրանում:

29

Կարմիր գույնի ալիքի երկարությունը ջրում հավասար է կանաչ գույնի ալիքի երկարությանը՝ օդում: Ի՞նչ գույնի լույս կտեսնի մարդը ջրի մեջ, եթե ջուրը լուսավորենք կարմիր գույնի լույսով:

- 1) Սպիտակ:
- 2) Կախված է ջրի բեկման ցուցիչից:
- 3) Կանաչ:
- 4) Կարմիր:

30 Ո՞ր պայմանի դեպքում կողիտվի լույսի երկու ալիքների ինտերֆերենց:

- 1) Երբ նույնն են լայնությունները և սկզբնական փուլերը:
- 2) Երբ նույնն են հաճախությունները, և հաստատուն է սկզբնական փուլերի տարբերությունը:
- 3) Երբ լայնությունները հավասար են:
- 4) Երբ սկզբնական փուլերը նույնն են:

31 Դիֆրակտային ցանցի թափանցիկ շերտի լայնությունը a է, իսկ անթափանց խազի լայնությունը՝ b : Որքա՞ն է ցանցի d պարբերությունը:

- 1) $d = a + b$:
- 2) $d = a - b$:
- 3) $d = \frac{1}{2}(a + b)$:
- 4) $d = \frac{1}{2}(a - b)$:

32 Քանի՞ անգամ կփոխվի ձողի երկարությունը, եթե այն շարժվի իր երկայնքով ուղղված $0,6c$ արագությամբ:

- 1) Կմեծանա 1,6 անգամ:
- 2) Կփոքրանա 1,6 անգամ:
- 3) Կմեծանա 1,25 անգամ:
- 4) Կփոքրանա 1,25 անգամ:

33 Ո՞րն է ν հաճախությամբ ֆոտոնի իմպուլսի ճիշտ բանաձևը:

- 1) $\frac{h\nu}{c}$:
- 2) $\frac{hc}{\nu}$:
- 3) $h\nu$:
- 4) $\frac{h\nu}{c^2}$:

34 Լազերային ճառագայթման միջին հզորությունը P է, իսկ ալիքի երկարությունը՝ λ : Որքա՞ն է յուրաքանչյուր վայրկյանում ճառագայթված ֆոտոնների միջին թիվը:

- 1) $\frac{Pc}{\lambda}$:
- 2) $\frac{P\lambda}{hc}$:
- 3) $\frac{P}{\lambda}$:
- 4) $\frac{P\lambda}{c}$:

35 Ռեզերֆորդի փորձերում h° ուժի ազդեցությանը են շեղվում α -մասնիկները:

- 1) Էլեկտրամագնիսական:
- 2) Թույլ փոխազդեցության:
- 3) Գրավիտացիոն:
- 4) Սիջուկային:

36 Ռ՞րն է նախադասության ճիշտ շարունակությունը:
Ատոմը կլանում է...

- 1) միայն որոշակի էներգիայով ֆոտոններ:
- 2) միայն մեկ այլ ատոմի կողմից ճառագայթած ֆոտոն:
- 3) միայն տեսանելի լույսի ֆոտոններ:
- 4) կամայական էներգիայով ֆոտոն:

37 Ատոմը E_3 էներգիական մակարդակից E_1 մակարդակ անցնելիս ճառագայթում է λ_1 ալիքի երկարությամբ ֆոտոն, իսկ E_2 -ից E_1 մակարդակ անցնելիս՝ λ_2 ալիքի երկարությամբ ֆոտոն: Ի՞նչ ալիքի երկարությամբ ֆոտոն կճառագայթի ատոմը E_3 մակարդակից E_2 մակարդակ անցնելիս:

- 1) $\frac{\lambda_1 \lambda_2}{\lambda_2 - \lambda_1}$:
- 2) $\frac{\lambda_1 \lambda_2}{\lambda_2 + \lambda_1}$:
- 3) $\lambda_1 + \lambda_2$:
- 4) $\lambda_1 - \lambda_2$:

38 Ի՞նչի՞ շնորհիվ ատոմի միջուկը չի տրոհվում առանձին նուկլոնների:

- 1) Նուկլոնների միջև գործող կուլոնյան ուժերի շնորհիվ:
- 2) Նուկլոնների միջև գործող միջուկային ուժերի շնորհիվ:
- 3) Նուկլոնների միջև գործող գրավիտացիոն ուժերի շնորհիվ:
- 4) Նուկլոնների միջև գործող թույլ փոխազդեցության ուժերի շնորհիվ:

39 Ի՞նչ միջուկ է առաջանում ${}^A_Z X$ միջուկի α տրոհման արդյունքում:

- 1) ${}^{A-4}_{Z-2} Y$:
- 2) ${}^A_Z Y$:
- 3) ${}^A_{Z+1} Y$:
- 4) ${}^A_{Z-1} Y$:

40

Մասնիկների n° խումբն է կազմված քվարկներից:

- 1) Էլեկտրոն, պրոտոն, նեյտրոն:
- 2) Պրոտոն, նեյտրոն, π մեզոն:
- 3) Էլեկտրոն, պրոտոն, նեյտրոն, π մեզոն, նեյտրինո:
- 4) Էլեկտրոն, պրոտոն, նեյտրոն, π մեզոն:

41

Քանի՞ անգամ է ջրածնի ատոմում միջուկից $0,5 \cdot 10^{-10}$ մ հեռավորության վրա

Էլեկտրաստատիկ դաշտի լարվածությունը մեծ ուժեղ ամպրոպի պարպման 10^5 Վ/մ լարվածությունից: Էլեկտրոնի լիցքի մոդուլը $1,6 \cdot 10^{-19}$ Ալ է, Կուլոնի օրենքում համեմատականության գործակիցը՝ $9 \cdot 10^9$ Նմ²/Ալ²: Պատասխանը բազմապատկել 10^{-4} -ով:

42

Ի՞նչ ջերմաստիճանում էր որոշակի զանգվածով իդեալական գազը, եթե հաստատուն ճնշման տակ 22 Կ-ով տաքացնելիս նրա ծավալը մեծացավ 2 անգամ:

43

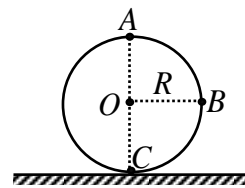
12 Վ ԷԼՇՈւ և 1 Օմ ներքին դիմադրությամբ հոսանքի աղբյուրին միացված է 5 Օմ դիմադրությամբ լանպ: Որքա՞ն է հոսանքի ուժը շղթայում:

44

Որքա՞ն մանուշակագույն լույսի ալիքներ են տեղավորվում մեկ սանտիմետրում: Օդում մանուշակագույն լույսի ալիքի երկարությունը $4 \cdot 10^{-7}$ մ է: Պատասխանը բազմապատկել 10^{-3} -ով:

45

m զանգվածով մարմինը ուղղահիվ հարթության մեջ կատարում է R շառավղով շրջանագծային շարժում (նկ. 1): AOB անկյունը 90° է: Հաստատե՛ք կամ ժխտե՛ք հետևյալ պնդումները:



Նկ. 1

1. Ծանրության ուժի կատարած աշխատանքը A կետից B կետ տեղափոխվելիս հավասար է B կետից C կետ տեղափոխվելիս կատարած աշխատանքին:
2. A կետից C կետ տեղափոխվելիս մարմնի պոտենցիալ էներգիայի փոփոխությունը $-2Rmg$ է:
3. Մեկ պտույտ կատարելիս ծանրության ուժի աշխատանքը $2\pi Rmg$ է:
4. A կետից C կետ տեղափոխվելիս ծանրության ուժի կատարած աշխատանքը $2Rmg$ է:
5. C կետից A կետ տեղափոխվելիս ծանրության ուժի կատարած աշխատանքը դրական է:
6. A կետից B կետ տեղափոխվելիս ծանրության ուժի կատարած աշխատանքը mgR է:

Բ մակարդակ

(46-47) Տվյալ մետաղի վրա ընկնող լույսի ալիքի երկարությունը $4,8 \cdot 10^{-7}$ մ է, իսկ ֆոտոէֆեկտի կարմիր սահմանը $6,6 \cdot 10^{-7}$ մ է: Պլանկի հաստատունը $6,6 \cdot 10^{-34}$ Ջվ է, լույսի արագությունը վակուումում՝ $3 \cdot 10^8$ մ/վ, էլեկտրոնի զանգվածը՝ $9 \cdot 10^{-31}$ կգ:

46

Որքա՞ն է էլեկտրոնների էլքի աշխատանքը մետաղից: Պատասխանը բազմապատկեք 10^{19} -ով:

47

Որքա՞ն է ֆոտոէլեկտրոնի առավելագույն արագությունը: Պատասխանը բազմապատկեք 10^{-5} -ով:

(48-49) 10 սմ երկարությամբ մաթեմատիկական ճոճանակը փոքր անկյունով շեղում են հավասարակշռության դիրքից և բաց թողնում: Ազատ անկման արագացումը 10 մ/վ² է:

48

Որքա՞ն է ճոճանակի ներդաշնակ տատանումների շրջանային հաճախությունը:

49

Քանի՞ անգամ ճոճանակի կինետիկ էներգիան կընդունի իր առավելագույն արժեքը $6,28$ վ-ի ընթացքում:

(50-51) Անոթում, որտեղ կա 0°C ջերմաստիճանի 5 կգ սառույց, ավելացնում են 80°C -ի 2 կգ ջուր: Անոթի ջերմունակությունն անտեսել: Սառույցի հալման ջերմաստիճանը 0°C է, հալման տեսակարար ջերմությունը՝ 336 կՋ/կգ, իսկ ջրի տեսակարար ջերմունակությունը՝ 4200 Ջ/կգ·Կ:

50

Ի՞նչ զանգվածով սառույց կմնա անոթում ջերմային հավասարակշռություն հաստատվելուց հետո:

51

Ի՞նչ ջերմաստիճան կհաստատվի անոթում (ըստ Կելվինի սանդղակի):

(52-53) Ջրի էլեկտրոլիզի ժամանակ գուռով անցավ 5000 Կլ լիցք: Գազային ունիվերսալ հաստատունը 8,3 Ջ/մոլ·Կ է:

52

Որքա՞ն թթվածին անջատվեց: Թթվածնի էլեկտրաքիմիական համարժեքը $829 \cdot 10^{-10}$ կգ/Կլ է: Պատասխանը բազմապատկեք 10^7 -ով:

53

Որքա՞ն է անջատված թթվածնի ջերմաստիճանը (ըստ Կելվինի), եթե $2,0725 \cdot 10^5$ Պա ճնշման տակ այն զբաղեցնում է $3,32 \cdot 10^{-4}$ մ³ ծավալ: Թթվածնի մոլային զանգվածը $32 \cdot 10^{-3}$ կգ/մոլ է:

(54-55) Լույսի ճառագայթը թափանցիկ դիէլեկտրիկից անցնում է օդ: Այդ միջավայրերի սահմանի համար լրիվ անդրադարձման սահմանային անկյունը 30° է:

54 Որքա՞ն է դիէլեկտրիկի բեկման ցուցիչը:

55 Որքա՞ն է լույսի տարածման արագությունն այդ դիէլեկտրիկում, եթե օդում $3 \cdot 10^8$ մ/վ է: Պատասխանը բազմապատկեք 10^{-7} -ով:

(56-58) Երկու բացասական լիցքավորված մասնիկներ մտնում են 0,2 Տլ ինդուկցիայով համասեռ մագնիսական դաշտ՝ ինդուկցիայի գծերին ուղղահայաց: Մասնիկներից առաջինի լիցքի մոդուլը երկու անգամ մեծ է երկրորդի լիցքի մոդուլից: Երկու մասնիկներն էլ շարժվում են շրջանագծի աղեղներով, առաջինը՝ 0,4 մ շառավղով, երկրորդը՝ 0,2 մ: Երկու մասնիկներն այնուհետև մտնում են էլեկտրաստատիկ դաշտ, որտեղ, անցնելով 128 Վ պոտենցիալների տարբերություն, երկուսի արագությունները փոքրանում են 3 անգամ:

56

Մագնիսական դաշտում շարժվելիս քանի՞ անգամ է առաջին մասնիկի իմպուլսը մեծ երկրորդ մասնիկի իմպուլսից:

57

Որքա՞ն է երկրորդ մասնիկի վերջնական արագությունը: Պատասխանը բազմապատկեք 10^{-2} -ով:

58

Որքա՞ն է առաջին մասնիկի վերջնական արագությունը: Պատասխանը բազմապատկեք 10^{-2} -ով:

(59-61) Անշարժ ճախարակի վրայով գցված թելի ծայրերից կախված է երկու բեռ՝ յուրաքանչյուրը 1 կգ զանգվածով: Բեռներից մեկի վրա դրված է 0,5 կգ զանգվածով մարմին: Սկզբում համակարգը պահում են դադարի վիճակում, այնուհետև բաց են թողնում: Ճախարակի և թելի զանգվածները և շփումն անտեսել: Ազատ անկման արագացումը 10 մ/վ^2 է:

59 Որքա՞ն է բեռների շարժման արագացումը:

60 Ի՞նչ ուժով է մարմինը շարժման ընթացքում ճնշում բեռի վրա:

61 Որքա՞ն է թելի լարման ուժը:

(62-65) $F_1 = 20$ սմ և $F_2 = 40$ սմ կիզակետային հեռավորություններով հավաքող բարակ ոսպնյակները, որոնց գլխավոր օպտիկական առանցքները համընկնում են, գտնվում են իրարից $b = 1,5$ մ հեռավորության վրա: Առաջին ոսպնյակի առջևում, նրանից $d_1 = 25$ սմ հեռավորության վրա, տեղադրված է $h = 2$ սմ բարձրությամբ առարկան:

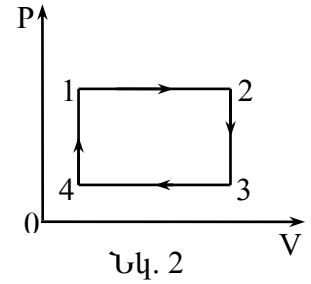
62 Առաջին ոսպնյակից ի՞նչ հեռավորության վրա կստացվի առարկայի պատկերն այդ ոսպնյակում:

63 Երկրորդ ոսպնյակից ի՞նչ հեռավորության վրա կստացվի առարկայի պատկերը ոսպնյակների համակարգում:

64 Որքա՞ն կլինի պատկերի բարձրությունն առաջին ոսպնյակում: Պատասխանը բազմապատկել 10^2 -ով:

65 Որքա՞ն կլինի պատկերի բարձրությունը ոսպնյակների համակարգում: Պատասխանը բազմապատկել 10^2 -ով:

(66-69) Ջերմային մեքենայի գլանում 1 մոլ միատոմ իդեալական գազի հետ ընթացող պրոցեսը պատկերված է նկ. 2-ում: 4-1 և 2-3 պրոցեսներն իզոխոր են, իսկ 1-2 և 3-4 պրոցեսները՝ իզոբար: Հայտնի է, որ $T_4=300$ Կ, $T_2=500$ Կ, $T_3=400$ Կ: Գազային ունիվերսալ հաստատունը $8,3$ Ջ/մոլ·Կ է:



66 Քանի՞ անգամ է գազի ճնշումը 2 վիճակում մեծ 4 վիճակում գազի ճնշումից: Պատասխանը բազմապատկել 10^2 -ով:

67 Որքա՞ն է գազի ջերմաստիճանը 1 վիճակում:

68 Մեկ ցիկլի ընթացքում ջեռուցչից ստացած ջերմաքանակը քանի՞ անգամ է մեծ մեքենայի կատարած աշխատանքից:

69 Ի՞նչ ջերմաքանակ է մեքենան տալիս սառնարանին մեկ ցիկլի ընթացքում:

Շ ու ն ա կ ու թ յ ա մ ր հ ա ր թ օ դ ա յ ի ն կ ո ն դ ե ն ս ա տ ր ը մ հ ա ց վ ու մ է Ս լ ա ր մ ա ն հ ա ս տ ա տ ու ն հ ո ս ա ն ք ի ա դ ր յ ու թ ի ն: Հ ա ս տ ա տ ե՛ ք կ ա մ ժ խ ս տ ե՛ ք հ ե տ կ յ ա լ պ ն դ ու մ ն եր ը:

1. Շրջադիրների միջև հեռավորությունը փոքրացնելիս դաշտի լարվածությունը կմեծանա:
2. Շրջադիրների միջև դիէլեկտրիկ մտցնելիս էլեկտրական դաշտի էներգիան կփոքրանա:
3. Կոնդենսատորի թիթեղների միջև ստեղծված էլեկտրական դաշտը համասեռ է:
4. Կոնդենսատորի թիթեղների արտաքին մասում դաշտը բացակայում է:
5. Շրջադիրների միջև հեռավորությունը մեծացնելիս լարումը կփոքրանա:
6. Շրջադիրների միջև դիէլեկտրիկ մտցնելիս շրջադիրների լիցքը կմեծանա: