

ՄԻԱՄՆԱԿԱՆ ՔՆՆՈՒԹՅՈՒՆ

2015

ՖԻԶԻԿԱ

ԹԵՍՏ 5

Խմբի համարը

Նստարանի համարը

Հարգելի՛ դիմորդ

Խորհուրդ ենք տալիս առաջադրանքները կատարել ըստ հերթականության: Ուշադիր կարդացե՛ք յուրաքանչյուր առաջադրանքի պահանջը և պատասխանների առաջարկվող տարբերակները: Եթե Ձեզ չի հաջողվում որևէ առաջադրանքի անմիջապես պատասխանել, ժամանակը խնայելու նպատակով կարող եք այն բաց թողնել և դրան անդրադառնալ ավելի ուշ:

Ձեր առջև դրված թեստ-գրքույկի էջերի դատարկ մասերը ազատորեն կարող եք օգտագործել սևագրության համար: ***Թեստ-գրքույկը չի ստուգվում: Ստուգվում է միայն պատասխանների ձևաթուղթը:***

Առաջադրանքները կատարելուց հետո չմոռանաք պատասխանները ուշադիր և խնամքով նշել պատասխանների ձևաթղթում: Պատասխանների ձևաթղթի ճիշտ լրացումից է կախված Ձեր քննական միավորը:

Ցանկանում ենք հաջողություն:

Ա մակարդակ

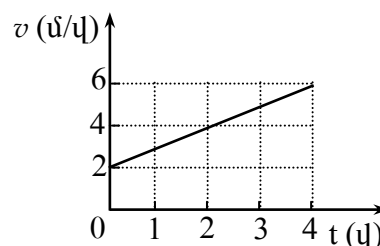
1 Ո՞րն է նախադասության ճիշտ շարունակությունը:

Հաշվարկման համակարգը կազմված է ...

- 1) կոորդինատային համակարգից և ուսումնասիրվող մարմնից:
- 2) հաշվարկման մարմնից, նրա հետ կապված կոորդինատային համակարգից և ուսումնասիրվող մարմնից:
- 3) հաշվարկման մարմնից, նրան կապված կոորդինատային համակարգից և ժամանակը չափող սարքից:
- 4) կոորդինատային համակարգից և ժամանակը չափող սարքից:

2 Նկարում պատկերված է ուղղագիծ շարժվող ավտոմեքենայի արագության մոդուլի՝ ժամանակից կախումն արտահայտող գրաֆիկը:
Որքա՞ն է ավտոմեքենայի արագացման մոդուլը:

- 1) 1 մ/վ^2 :
- 2) 4 մ/վ^2 :
- 3) 6 մ/վ^2 :
- 4) 16 մ/վ^2 :

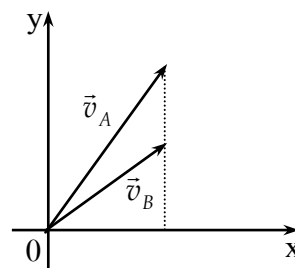


3 Մարմնի արագության պրոյեկցիան ներկայացված է $v_x = 2 + t$ հավասարմամբ, որտեղ մեծություններն արտահայտված են ՄՀ-ի համապատասխան միավորներով: Ի՞նչ բանաձևով է որոշվում տեղափոխության պրոյեկցիան այդ շարժման դեպքում:

- 1) $S_x = 2 + t^2$:
- 2) $S_x = 2 + \frac{t^2}{2}$:
- 3) $S_x = \frac{t^2}{2}$:
- 4) $S_x = 2t + \frac{t^2}{2}$:

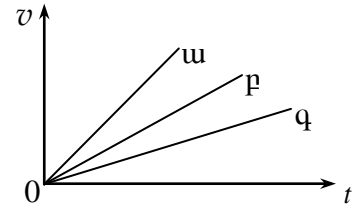
4 A և B մարմինները նետել են հորիզոնի նկատմամբ տարբեր անկյան տակ՝ տարբեր սկզբնական արագություններով, ինչպես ցույց է տրված նկարում:
Թռիչքի առավելագույն բարձրությունում ո՞ր մարմնի արագությունը կլինի ավելի մեծ: Օղի դիմադրությունն անտեսել:

- 1) A մարմնի:
- 2) B մարմնի:
- 3) Հավասար են:
- 4) Հարցին հնարավոր չէ միանշանակ պատասխան տալ:



5

Նկարում պատկերված են հաշվարկման իներցիալ համակարգում ժամանակից՝ արագության մոդուլի կախումն արտահայտող գրաֆիկները տարբեր մարմինների համար, որոնք շարժվում են միևնույն ուժի ազդեցությամբ: Ըստ գրաֆիկի՝ ո՞ր մարմնի զանգվածն է ամենամեծը:



- 1) ա:
- 2) բ:
- 3) գ:
- 4) Բոլոր մարմինների զանգվածները հավասար են:

6

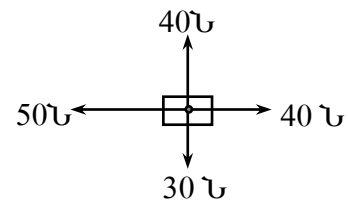
Ո՞ր մարմինների միջև են գործում գրավիտացիոն ուժերը:

- 1) Կամայական մարմինների:
- 2) Միայն նյութական կետերի:
- 3) Միայն նյութական կետերի և զնդած մարմինների:
- 4) Միայն նյութական կետերի և համասեռ զնդերի:

7

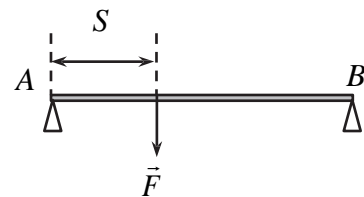
Ի՞նչ ուղղություն ունի նկարում պատկերված մարմնի վրա ազդող չորս ուժերի \vec{R} համագործը:

- 1) \vec{R} ←
- 2) \vec{R} ↙
- 3) \vec{R} ↓
- 4) \vec{R} ↘



8

Երկու հենարանների վրա դրված L երկարությամբ AB անկշիռ ձողի A ծայրից s հեռավորությամբ կետում ձողին ուղղահայաց ազդում է F ուժը: Որքա՞ն է B հենարանի հակազդեցության ուժը:



- 1) $\frac{F(L-s)}{L}$:
- 2) $\frac{FL}{s}$:
- 3) $\frac{Fs}{L}$:
- 4) $\frac{FL}{s-L}$:

9

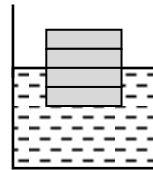
Միևնույն ճնշման ուժն առաջին դեպքում ազդում է S մակերեսի վրա, իսկ երկրորդ դեպքում՝ 3 անգամ մեծ մակերեսի վրա: Ո՞ր դեպքում է ճնշումն ավելի մեծ և քանի՞ անգամ:

- 1) Առաջին դեպքում և 3 անգամ:
- 2) Երկրորդ դեպքում և 3 անգամ:
- 3) Առաջին դեպքում և 9 անգամ:
- 4) Երկրորդ դեպքում և 9 անգամ:

10

Յուրաքանչյուրը d հաստությամբ չորս միատեսակ նրբատախտակներից հավաքված չորսուն լողում է ջրում՝ կիսով չափ ընկղմվելով նրա մեջ: Որքանո՞վ կփոքրանա ընկղման խորությունը, եթե չորսուից հեռացնենք նրբատախտակներից մեկը:

- 1) $0,5d$ -ով:
- 2) d -ով:
- 3) $1,5d$ -ով:
- 4) $2d$ -ով:



11

Որտե՞ղ ավելի շատ մոլեկուլ կա՝ մեկ մոլ ջրածնում, թե՞ մեկ մոլ ջրում:

- 1) Մեկ մոլ ջրածնում:
- 2) Մեկ մոլ ջրում:
- 3) Մոլեկուլների թվերը հավասար են:
- 4) Պատասխանը կախված է ջրի ագրեգատային վիճակից:

12

Ո՞րն է իդեալական գազի p ճնշման ճիշտ արտահայտությունը՝ կախված մոլեկուլների ջերմային շարժման \bar{E} միջին կինետիկ էներգիայից և n կոնցենտրացիայից:

- 1) $p = n\bar{E}$:
- 2) $p = \frac{\bar{E}}{n}$:
- 3) $p = \frac{2}{3}n\bar{E}$:
- 4) $p = \frac{n}{\bar{E}}$:

13

Ո՞րն է նախադասության ճիշտ շարունակությունը:

Եթե երկու իդեալական գազերի ջերմաստիճանները հավասար են, ապա հավասար են նաև դրանց...

- 1) մասնիկների քառասային շարժման միջին կինետիկ էներգիաները:
- 2) մասնիկների քառասային շարժման միջին արագությունները:
- 3) ճնշումները:
- 4) խտությունները:

14

Ինչպե՞ս է արտահայտվում ջերմադինամիկայի առաջին օրենքն իդեալական գազի իզոթերմ սեղմման դեպքում: A -ն արտաքին ուժերի կատարած աշխատանքն է, Q -ն՝ գազից շրջապատին հաղորդված ջերմաքանակը, ΔU -ն՝ գազի ներքին էներգիայի փոփոխությունը:

- 1) $\Delta U = A$:
- 2) $Q = A$:
- 3) $Q = \Delta U$:
- 4) $\Delta U = -A$:

15

Օդում պարունակվող ջրի գոլորշու ճնշումը p է, իսկ նույն ջերմաստիճանի ջրի հագեցած գոլորշու ճնշումը՝ p_0 : Ո՞րն է օդի հարաբերական φ խոնավության ճիշտ բանաձևը:

- 1) $\varphi = \frac{p}{p_0} \cdot 100\%$:
- 2) $\varphi = \frac{p - p_0}{p_0} \cdot 100\%$:
- 3) $\varphi = \frac{p_0}{p} \cdot 100\%$:
- 4) $\varphi = \frac{p}{p_0 - p} \cdot 100\%$:

16

Ի՞նչ ազդեգատային վիճակում է ջուրը 0°C ջերմաստիճանում:

- 1) Միայն հեղուկ:
- 2) Միայն պինդ:
- 3) Հնարավոր է լինի թե պինդ վիճակում, թե հեղուկ:
- 4) Միայն գազային:

17

Ի՞նչ միավորով է չափվում մակերևութային լարվածության գործակիցը միավորների ՄՀ-ում:

- 1) 1 Ն/մ^2 :
- 2) 1 Ն/մ :
- 3) 1 Ջ/մ^3 :
- 4) 1 Ջ/մ :

18

Ի՞նչ ֆիզիկական հատկությամբ է միաբյուրեղը տարբերվում ամորֆ մարմնից:

- 1) Անիզոտրոպությամբ:
- 2) Թափանցիկությամբ:
- 3) Ամրությամբ:
- 4) Էլեկտրահաղորդականությամբ:

19

Ո՞ր պնդումն է սխալ:

- 1) Ամպերաչափի դիմադրությունը պետք է շատ փոքր լինի այն տեղամասի դիմադրությունից, որին միացված է:
- 2) Ամպերաչափը միացնում են շղթայի տեղամասին հաջորդաբար:
- 3) Ամպերաչափը միացնում են շղթայի տեղամասին զուգահեռ:
- 4) Ամպերաչափը նախատեսված է հոսանք չափելու համար:

20

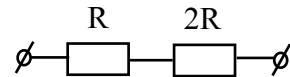
Նկարում պատկերված շղթայի ծայրերին կիրառված է U_0 լարում: Որքա՞ն է $2R$ դիմադրության ծայրերին լարման անկումը:

1) $3U_0$:

2) U_0 :

3) $\frac{U_0}{3}$:

4) $\frac{2U_0}{3}$:



21

Ե՞րբ է հաստատուն հոսանքի աղբյուր պարունակող փակ շղթայի արտաքին տեղամասում անջատված հզորությունն ընդունում իր առավելագույն արժեքը: Արտաքին տեղամասի դիմադրությունը R է, հոսանքի աղբյուրի ներքին դիմադրությունը՝ r :

1) $r \leq R$:

2) $R = 2r$:

3) $R = r$:

4) $r \ll R$:

22

m զանգվածով և q լիցքով մասնիկը v արագությամբ մտնում է համասեռ մագնիսական դաշտ՝ նրա ինդուկցիայի գծերի նկատմամբ α անկյան տակ: Որքա՞ն է մագնիսական դաշտի ինդուկցիայի մոդուլը, եթե պարուրագծի շառավիղը, որով շարժվում է մասնիկը, R է:

1) $\frac{mv \cos \alpha}{qR}$:

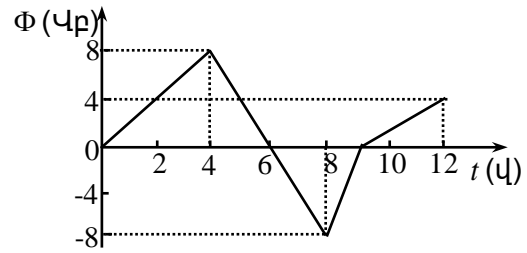
2) $\frac{mv \sin \alpha}{qR}$:

3) $\frac{mv}{qR \sin \alpha}$:

4) $\frac{mv}{qR}$:

23

Նկարում պատկերված է շրջանակ թափանցող մագնիսական հոսքի՝ ժամանակից կախումն արտահայտող գրաֆիկը: Ժամանակի n° միջակայքում շրջանակում մակածված էլԸՈւ-ի մոդուլը կունենա ամենամեծ արժեքը:



- 1) 0-4 վ միջակայքում:
- 2) 4-8 վ միջակայքում:
- 3) 8-9 վ միջակայքում:
- 4) 9-12 վ միջակայքում:

24

Ի՞նչ էներգիայով է օժտված տատանողական կոնտուրն այն պահին, երբ կոնդենսատորի լիցքն առավելագույնն է:

- 1) Միայն էլեկտրական դաշտի էներգիայով:
- 2) Միայն մագնիսական դաշտի էներգիայով:
- 3) Էլեկտրական և մագնիսական դաշտերի էներգիաներով:
- 4) Էներգիայով օժտված չէ:

25

Տատանողական կոնտուրում ազատ էլեկտրամագնիսական տատանումների հաճախությունը ν է, կոճի ինդուկտիվությունը՝ L : Ո՞ր բանաձևով կարելի է հաշվել կոնտուրի կոնդենսատորի էլեկտրաոնակությունը:

- 1) $C = \frac{1}{4\pi^2 L \nu^2}$:
- 2) $C = \frac{1}{2\pi^2 \sqrt{L \nu}}$:
- 3) $C = 4\pi^2 L \nu^2$:
- 4) $C = 2\pi^2 \sqrt{L \nu}$:

26

Ո՞րն է նախադասության ճիշտ շարունակությունը:

Փոփոխական սինուսոիդական հոսանքի ուժի գործող արժեքը ...

- 1) $\sqrt{2}$ անգամ փոքր է հոսանքի ուժի լայնութային արժեքից:
- 2) $\sqrt{2}$ անգամ մեծ է հոսանքի ուժի լայնութային արժեքից:
- 3) Հավասար է հոսանքի ուժի լայնութային արժեքին:
- 4) Չրո է:

27

Առարկայի հեռավորությունը հարթ հայելուց d է: Որքա՞ն է առարկայի և պատկերի միջև l հեռավորությունը:

- 1) $l = d$:
- 2) $l = 2d$:
- 3) $l < d$:
- 4) $l > 2d$:

28 Նո՞ւյնն է արդյոք հավաքող բարակ ոսպնյակի կիզակետային հեռավորությունը կարմիր և կապույտ ճառագայթների համար:

- 1) Կարմիրի համար ավելի մեծ է:
- 2) Կապույտի համար ավելի մեծ է:
- 3) Նույնն է:
- 4) Պատասխանը կախված է ապակու տեսակից:

29 Ո՞ր երևույթն է ապացուցում լույսի ալիքային բնույթը:

- 1) Լույսի բեկումը:
- 2) Լույսի ուղղագիծ տարածումը:
- 3) Լույսի անդրադարձումը:
- 4) Լույսի ինտերֆերենցը:

30 Ո՞րն է լույսի կոհերենտ ալիքների ինտերֆերենցային մաքսիմումի պայմանը: Δ -ն ալիքների ընթացքի տարբերությունն է, λ -ն՝ ալիքի երկարությունը, m -ն ամբողջ թիվ է:

- 1) $\Delta = m\lambda$:
- 2) $\Delta = \left(m + \frac{1}{2}\right)\lambda$:
- 3) $\Delta = \frac{1}{2}m\lambda$:
- 4) $\Delta = \frac{\lambda}{m}$:

31 Երկայնակա՞ն, թե՞ լայնական է լուսային ալիքը:

- 1) Լայնական է:
- 2) Երկայնական է:
- 3) Հնարավոր է լինի երկայնական կամ լայնական:
- 4) Ո՛չ երկայնական է, ո՛չ լայնական:

32 Ո՞ր ֆիզիկական մեծությունը կախված չէ հաշվարկման համակարգի ընտրությունից:

- 1) Վակուումում էլեկտրամագնիսական ալիքի տարածման արագությունը:
- 2) Մարմնի գծային չափերը:
- 3) Երկու մարմինների միջև հեռավորությունը:
- 4) Երկու պատահարների միջև ժամանակահատվածը:

33 Ֆոտոնի իմպուլսը p է: Որքա՞ն է նրա էներգիան:

- 1) $E = pc$:
- 2) $E = \frac{p}{c}$:
- 3) $E = \frac{p}{c^2}$:
- 4) $E = pc^2$:

34

Մեկուսացված էլեկտրաչեզոք ցինկե քիթերը լուսավորում են անդրմանուշակագույն ճառագայթումով: Ի՞նչ նշանի լիցք է ձեռք բերում քիթերը:

- 1) Դրական:
- 2) Բացասական:
- 3) Չի լիցքավորվում:
- 4) Կամայական նշանի լիցք:

35

Ո՞ր նախադասությունն է ճիշտ արտահայտում Բորի առաջին կանխադրույթը:

- 1) Ատոմը կազմված է միջուկից և նրա շուրջը պտտվող էլեկտրոններից:
- 2) Էլեկտրոնը միջուկի շուրջ կարող է պտտվել միայն որոշակի ստացիոնար ուղեծրերով, որոնցով շարժվելիս այն չի ճառագայթում:
- 3) Էլեկտրոնն ատոմում մի ստացիոնար վիճակից մյուսին անցնելիս ճառագայթում կամ կլանում է ֆոտոն:
- 4) Ատոմում դրական լիցքը կենտրոնացված է նրա միջուկում:

36

Ո՞րն է նախադասության ճիշտ շարունակությունը:

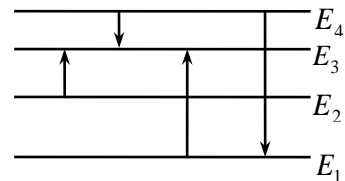
Համաձայն Թոմսոնի մոդելի՝ ատոմը ...

- 1) կազմված է դրական լիցքավորված միջուկից, որի շուրջը պտտվում են էլեկտրոններ:
- 2) գունդ է, որի ներսում կան պրոտոններ և էլեկտրոններ:
- 3) էլեկտրաչեզոք գունդ է, որի ներսում կան էլեկտրոններ:
- 4) դրական լիցքավորված գունդ է, որի ներսում կան էլեկտրոններ:

37

Նկարում պատկերված է ատոմի էներգիական մակարդակների դիագրամը: Ո՞ր անցման դեպքում է ատոմի ճառագայթած ալիքի հաճախությունն առավելագույնը:

- 1) $E_2 \rightarrow E_3$:
- 2) $E_4 \rightarrow E_3$:
- 3) $E_1 \rightarrow E_3$:
- 4) $E_4 \rightarrow E_1$:



38

Ի՞նչ միջուկ է առաջանում ${}^{14}_7\text{N} + {}^4_2\text{He} \rightarrow ? + {}^1_1\text{H}$ ռեակցիայի հետևանքով, երբ ազոտի միջուկը ռմբակոծվում է α -մասնիկով:

- 1) ${}^{17}_8\text{O}$:
- 2) ${}^{16}_8\text{O}$:
- 3) ${}^{19}_9\text{F}$:
- 4) ${}^{20}_{10}\text{Ne}$:

39

Որքա՞ն է այն միջուկի կարգաթիվը, որը ստացվում է Z կարգաթիվ ունեցող միջուկի α տրոհման հետևանքով:

- 1) $Z - 1$:
- 2) $Z - 2$:
- 3) $Z - 4$:
- 4) $Z + 1$:

40

Փոխազդեցության ժամանակ նուկլոններն ի՞նչ մասնիկներ են փոխանակում միջուկում:

- 1) Էլեկտրոններ:
- 2) π -մեզոններ:
- 3) Մյուոններ:
- 4) Նեյտրինոներ:

41

Որքանով կավելանա 8000 Պա ճնշման տակ իդեալական գազի ճնշումը, եթե գազի ջերմաստիճանը 37°C -ից իզոխոր կերպով բարձրացվի մինչև 68°C :

42

Որքա՞ն է հոսանքի աղբյուրի ԷԼՇՈւ-ն, եթե կողմնակի ուժերը հոսանքի աղբյուրում 10 Կլ լիցքը մի բևեռից մյուսը տեղափոխելիս կատարում են 20 Ջ աշխատանք:

43

Որքա՞ն է դիֆրակտային ցանցի հաստատունը, եթե այն 1 մմ-ի վրա ունի 500 նրբագիծ: Պատասխանը բազմապատկել 10^6 -ով:

44

Որքա՞ն է ներգիս է կորցնում ատոմը, երբ էլեկտրոնը մի ստացիոնար ուղեծրից մյուսին անցնելիս ճառագայթում է $5 \cdot 10^{14}$ Հց հաճախությամբ ֆոտոն: Պլանկի հաստատունը $6,6 \cdot 10^{-34}$ Ջվ է: Պատասխանը բազմապատկել 10^{20} -ով:

45

v_0 արագությամբ շարժվող m զանգվածով գունդը բախվում է նույն զանգվածով անշարժ գնդին և նրա հետ շարժվում համատեղ: Հաստատե՞ք կամ ժխտե՞ք հետևյալ պնդումները:

1. Հարվածի հետևանքով համակարգի ընդհանուր իմպուլսը չի փոխվում:
2. Բախումից հետո գնդերը շարժվում են $v_0 / 2$ արագությամբ:
3. Բախումից հետո համակարգի իմպուլսը $2mv_0$ է:
4. Բախման արդյունքում համակարգի մեխանիկական էներգիան չի փոխվում:
5. Բախումից հետո համակարգի ընդհանուր կինետիկ էներգիան $mv_0^2 / 4$ է:
6. Բախման հետևանքով սկզբնական կինետիկ էներգիայի կեսը փոխակերպվում է գնդերի ներքին էներգիայի:

Բ մակարդակ

(46-47) Օդից ջուր անցնելիս 1 կձց հաճախությամբ ձայնային ալիքի երկարությունը մեծացավ 0,66 մ-ով: Ձայնի արագությունն օդում ընդունել 340 մ/վ:

46 Որքա՞ն է ձայնի ալիքի երկարությունը ջրում:

47 Որքա՞ն է ձայնի արագությունը ջրում:

(48-49) 1000 Ջ/կգ·Կ տեսակարար ջերմունակություն ունեցող 0,5 կգ զանգվածով գազը 10 Կ-ով տաքացնելիս նրա ներքին էներգիան աճեց 1000 Ջ-ով:

48 Ի՞նչ ջերմաքանակ է հաղորդվել գազին:

49 Որքա՞ն է գազի կատարած աշխատանքը:

(50-51) Շղթայի տեղամասը կազմված է 2 մ երկարությամբ և 0,048 մ² կտրվածքի մակերեսով պողպատե հաղորդալարից և նրան հաջորդաբար միացված 1 մ երկարությամբ, 0,021 մ² կտրվածքի մակերեսով նիկելինե հաղորդալարից: Պողպատի տեսակարար դիմադրությունը $12 \cdot 10^{-8}$ Օմ·մ է, իսկ նիկելինինը՝ $42 \cdot 10^{-8}$ Օմ·մ:

50 Որքա՞ն է տեղամասի ընդհանուր դիմադրությունը:

51 Որքա՞ն լարում է անհրաժեշտ կիրառել տեղամասի ծայրերին՝ 0,6 Ա հոսանք ստանալու համար:

(52-53) Առարկայի հեռավորությունը հավաքող բարակ ոսպնյակից 0,2 մ է, իսկ նրա իրական պատկերի հեռավորությունը ոսպնյակից՝ 0,8 մ:

52 Որքա՞ն է ոսպնյակի կիզակետային հեռավորությունը: Պատասխանը բազմապատկեք 10^2 -ով:

53 Որքա՞ն է պատկերի խոշորացումը:

(54-55) Մետաղը 0,5 մկմ ալիքի երկարությամբ մանուշակագույն լույսով լուսավորելիս նրանից պոկված էլեկտրոնները արգելակվում են 2 Վ լարման դեպքում: Պլանկի հաստատունը $6,6 \cdot 10^{-34}$ Ջվ է, էլեկտրոնի լիցքի մոդուլը՝ $1,6 \cdot 10^{-19}$ Կլ, լույսի արագությունը վակուումում՝ $3 \cdot 10^8$ մ/վ:

54

Որքա՞ն է մետաղի ելքի աշխատանքը: Պատասխանը բազմապատկեք 10^{21} - ով:

55

Որքա՞ն կլինի արգելակող լարումը, եթե մետաղը լուսավորվի 0,66 մկմ ալիքի երկարություն ունեցող կարմիր գույնի լույսով: Պատասխանը բազմապատկեք 10- ով:

(56-58) Սպորտային ավտոմեքենան մոդուլով հաստատուն 25 մ/վ արագությամբ շարժվում է ուռուցիկ կամրջով, որը 125 մ շառավղով շրջանագծի աղեղ է: Ազատ անկման արագացումը 10 մ/վ^2 է:

56 Որքա՞ն է ավտոմեքենայի կենտրոնածիգ արագացումը:

57 Ավտոմեքենայի կշիռը քանի՞ անգամ է փոքր նրա ծանրության ուժից, երբ այն անցնում է կամրջի վերին ամենաբարձր կետով:

58 Որքա՞ն է ավտոմեքենայի ճնշման ուժը, որ նա գործադրում է կամրջի վրա, երբ մեքենան կամրջի կորության կենտրոնին միացնող ուղիղն ուղղաձիգի հետ կազմում է 60° անկյուն:

(59-61) Տատանողական կոնտուրի կոճի ինդուկտիվությունը $0,3$ Հն է, իսկ հոսանքի ուժի տատանումների լայնույթը՝ $4 \cdot 10^{-2}$ Ա:

59 Որքա՞ն է տատանողական կոնտուրի լրիվ էներգիան: Պատասխանը բազմապատկեք 10^5 - ով:

60 Որքա՞ն է կոճի մագնիսական դաշտի էներգիան, երբ հոսանքի ուժի ակնթարթային արժեքը 2 անգամ փոքր է լայնութայինից: Պատասխանը բազմապատկեք 10^5 - ով:

61 Որքա՞ն է կոնդենսատորի էլեկտրական դաշտի էներգիան, երբ հոսանքի ուժի ակնթարթային արժեքը 2 անգամ փոքր է լայնութայինից: Պատասխանը բազմապատկեք 10^5 - ով:

(62-65) 6 լ տարողությամբ անոթում գտնվում է $2 \cdot 10^5$ Պա ճնշմամբ, 250 Կ ջերմաստիճանի միատոմ իդեալական գազ, իսկ 2 լ տարողությամբ անոթում՝ $4 \cdot 10^5$ Պա ճնշմամբ 500 Կ ջերմաստիճանի նույնպիսի գազ: Անոթները ջերմամեկուսացված են:

62 Որքա՞ն է առաջին և երկրորդ անոթներում գազի մոլեկուլների թվերի հարաբերությունը:

63 Ի՞նչ ճնշում կհաստատվի անոթներում, եթե դրանք միացվեն իրար: Պատասխանը բազմապատկել 10^{-4} -ով:

64 Որքա՞ն կլինի ջերմաստիճանն անոթներում, դրանք իրար միացնելուց հետո: Պատասխանը բազմապատկել 10-ով:

65 Անոթներն իրար միացնելուց հետո որքա՞ն է մոլեկուլների կոնցենտրացիայի հարաբերությունը, մինչ իրար միացնելն առաջին անոթում մոլեկուլների կոնցենտրացիային:

(66-69) Հավաքող բարակ ոսպնյակից 10 սմ հեռավորությամբ գտնվող առարկայի իրական պատկերը ստացվում է 4 սմ բարձրությամբ: Երբ այդ առարկան գտնվում է ոսպնյակից 15 սմ հեռավորությամբ, նրա պատկերն ստացվում է 2 սմ բարձրությամբ:

66 Որքա՞ն է առարկայի բարձրությունը: Պատասխանը բազմապատկել 10^2 -ով:

67 Որքա՞ն է պատկերի հեռավորությունը ոսպնյակից՝ առաջին դեպքում: Պատասխանը բազմապատկել 10-ով:

68 Որքա՞ն է պատկերի հեռավորությունը ոսպնյակից՝ երկրորդ դեպքում: Պատասխանը բազմապատկել 10^3 -ով:

69 Որքա՞ն է ոսպնյակի կիզակետային հեռավորությունը: Պատասխանը բազմապատկել 10^2 -ով:

R շառավղով հաղորդիչ գունդը լիցքավորված է q լիցքով: Հաստատե՞ք կամ ժխտե՞ք հետևյալ պնդումները:

1. Լիցքը հավասարաչափ կրաշխվի գնդի ամբողջ ծավալով:
2. Գնդի ներսում՝ կենտրոնից r ($r < R$) հեռավորության վրա, դաշտի լարվածությունը՝

$$E = k \frac{q}{r^2} :$$
3. Գնդի ներսում լիցքը բացակայում է:
4. Գնդի ստեղծած էլեկտրական դաշտի ուժագծերն ուղղահայաց են գնդի մակերևույթին:
5. Գնդի ստեղծած էլեկտրական դաշտի համապոտենցիալ մակերևույթները համակենտրոն գնդաձևեր են:
6. Գնդի ստեղծած էլեկտրական դաշտի լարվածությունը գնդի մակերևույթից h հեռավորության վրա՝ $E = k \frac{q}{h^2} :$