

ՄԻԱՄՆԱԿԱՆ ՔՆՆՈՒԹՅՈՒՆ

2015

ԱՇԽԱՐՀԱԳՐՈՒԹՅՈՒՆ

ԹԵՍՏ 4

Խմբի համարը

Նստարանի համարը

Հարգելի՛ դիմորդ

Խորհուրդ ենք տալիս առաջադրանքները կատարել ըստ հերթականության: Ուշադիր կարդացե՛ք յուրաքանչյուր առաջադրանքի պահանջը և պատասխանների առաջարկվող տարբերակները: Եթե Ձեզ չի հաջողվում որևէ առաջադրանքի անմիջապես պատասխանել, ժամանակը խնայելու նպատակով կարող եք այն բաց թողնել և դրան անդրադառնալ ավելի ուշ:

Ձեր առջև դրված թեստ-գրքույկի էջերի դատարկ մասերը ազատորեն կարող եք օգտագործել սևագրության համար: ***Թեստ-գրքույկը չի ստուգվում: Ստուգվում է միայն պատասխանների ձևաթուղթը:***

Առաջադրանքները կատարելուց հետո չմոռանաք պատասխանները ուշադիր և խնամքով նշել պատասխանների ձևաթղթում: Պատասխանների ձևաթղթի ճիշտ լրացումից է կախված Ձեր քննական միավորը:

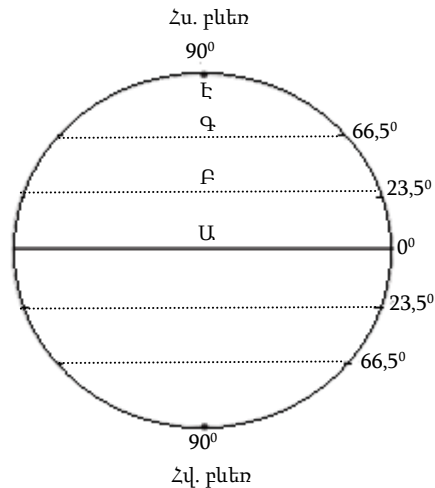
Ցանկանում ենք հաջողություն:

Ա մակարդակ

1

Նկարում n° ր տառով է պատկերված հյուսիսային բևեռային շրջագիծը.

- 1) Գ
- 2) Է
- 3) Ա
- 4) Բ



2

Եթե քարտեզի թվային մասշտաբը $1 : 250\,000\,000$ է, ապա դրա անվանական մասշտաբը կլինի.

- 1) 1 սմ–ում՝ 25 կմ
- 2) 1 սմ–ում՝ 2,5 կմ
- 3) 1 սմ–ում՝ 250 կմ
- 4) 1 սմ–ում՝ 2500 կմ

3

Երկու կետերի հեռավորությունը $1 : 3\,000\,000$ մասշտաբի քարտեզում 12 սմ է: Կետերի միջև իրական հեռավորությունը կլինի.

- 1) 400 կմ
- 2) 460 կմ
- 3) 300 կմ
- 4) 360 կմ

4

Ω° ր պնդումն է ճիշտ.

- 1) Ամենաերկար միջօրեականը գլխավոր կամ զրոյական միջօրեականն է:
- 2) Հավասարանկյուն պրոյեկցիայում աղավաղվում են միայն անկյունները, իսկ օբյեկտների մակերեսները և գծերի երկարությունները չեն աղավաղվում:
- 3) Երկրի գնդաձևության շնորհիվ նույն պահին նրա մակերևույթի տարբեր աշխարհագրական լայնություններում Արեգակի ճառագայթներն ընկնում են տարբեր անկյան տակ:
- 4) Երկրագունդը էլիպսաձև է և հասարակածից ավելի շատ է սեղմված, քան բևեռներից:

5

Մեկ խորանարդ մետր օդում պարունակվող ջրային գոլորշիների քանակը՝ արտահայտված գրամներով, կոչվում է.

- 1) բացարձակ խոնավություն
- 2) չհագեցած օդ
- 3) հագեցած օդ
- 4) հարաբերական խոնավություն

6

Բնութագրումով որոշել օդային զանգվածի տիպը.

Այդ օդային զանգվածները ձևավորվում են մթնոլորտային բարձր ճնշման գոտիներում՝ ձյան և սառույցների վրա: Այդ պատճառով դրանք մշտապես սառն են, չոր ու թափանցիկ: Ո՞ր օդային զանգվածներն են.

- 1) արևադարձային
- 2) հասարակածային
- 3) արկտիկական (անտարկտիկական)
- 4) բարեխառն

7

Արեգակից ստացվող ջերմության քանակը կախված է.

- 1) օվկիանոսներից և ծովերից տվյալ վայրի ունեցած հեռավորությունից
- 2) տվյալ վայրի բուսապատվածության աստիճանից
- 3) գերիշխող քամիներից
- 4) լեռնալանջերի դիրքադրությունից

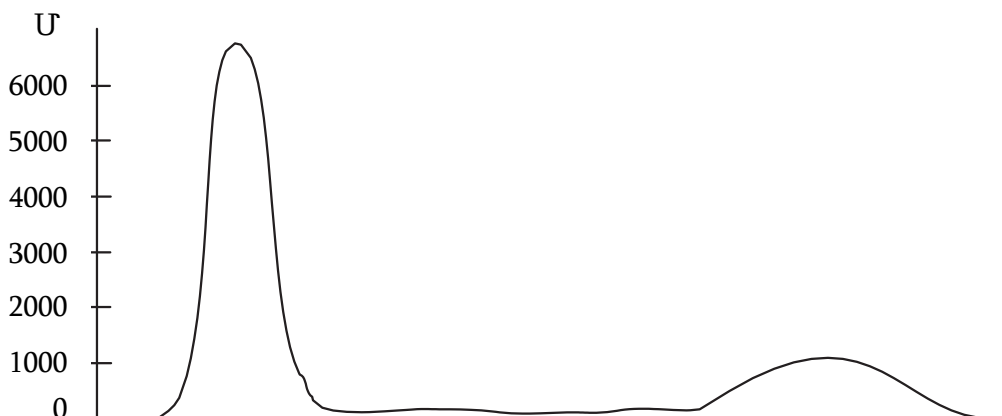
8

Օդի բացարձակ խոնավությունը 12 գ/մ^3 է: Տվյալ ջերմաստիճանում օդը հագեցնելու համար անհրաժեշտ է 40 գ/մ^3 ջրային գոլորշի: Հարաբերական խոնավությունը կլինի.

- 1) 50 %
- 2) 70 %
- 3) 20 %
- 4) 30 %

9

Ո՞ր մայրցամաքի ռելիեֆի կտրվածքն է պատկերված արևմուտքից արևելք ուղղությամբ.

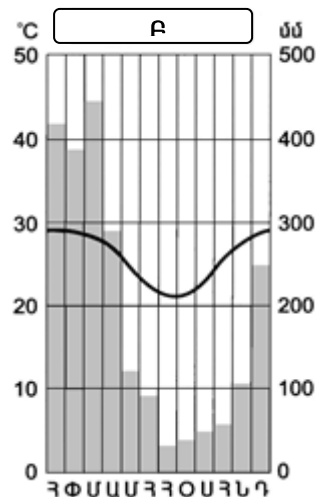


- 1) Անտարկտիդա
- 2) Հարավային Ամերիկա
- 3) Աֆրիկա
- 4) Ավստրալիա

10

Կլիմագրամի միջոցով որոշել, թե որ սեզոնին են թափվում ամենաշատ տեղումները հարավային կիսագնդի Բ բնակավայրում.

- 1) աշնանը
- 2) ձմռանը
- 3) գարնանը
- 4) ամռանը



11

«Գետ — ծոց» գույգերից ընտրել ճիշտը.

- 1) Ինդոս — Օմանի
- 2) Կուպերս կրիկ — Մեծ Ավստրալական
- 3) Կոլորադո — Մեքսիկական
- 4) Լուար — Բիսկայան

12

Ո՞ր բնական գոնային բնորոշ բուսատեսակներ են կաղնին, հաճարենին, հացենին, թխկին.

- 1) հասարակածային խոնավ մշտադալար անտառների
- 2) բարեխառն գոտու լայնատերև անտառների
- 3) մերձարևադարձային մշտադալար անտառների և թփուտների
- 4) սավաննաների և նոսր անտառների

13

Բնութագրումով որոշել գետը.

Գետը Եվրասիայի արևելյան մասում է և թափվում է Դեղին ծով: Հորդանում է ամռանը՝ կապված մուսսոնային անձրևների հետ: Ո՞ր գետն է.

- 1) Մեկոնգ
- 2) Ամուր
- 3) Հուանհե
- 4) Յանցզի

14

Ո՞ր պնդումն է ճիշտ.

- 1) Մթնոլորտային բարձր ճնշման գոտիներում առատ տեղումներ են թափվում:
- 2) Արեգակից ստացվող ջերմությունը Երկրի վրա բաշխված է հավասարաչափ:
- 3) Արևադարձային լայնություններում հաստատվում է ցածր ճնշում:
- 4) Որքան փոքր է Արեգակի ճառագայթների անկման անկյունը, այնքան Երկրի մակերևույթը քիչ ջերմություն է ստանում:

15

Ո՞ր պնդումն է ճիշտ.

- 1) Մարտի 21-ին Արեգակի ճառագայթներն ուղղահայաց են ընկնում հարավային արևադարձի վրա:
- 2) Յուրաքանչյուր ժամային գոտուց արևելք ընկած գոտու ժամանակը 1 ժամով առաջ է նախորդից:
- 3) Արեգակի ճառագայթները նույն լայնության վրա տարվա ընթացքում միշտ նույն անկյան տակ են ընկնում:
- 4) Երկիրն Արեգակի շուրջը պտտվում է շրջանաձև ուղեծրով:

16

«Գետ — աշխարհամաս» գույգերից ընտրել ճիշտը.

- 1) Ամուր — Ամերիկա
- 2) Անգարա — Ասիա
- 3) Թեմզա — Ավստրալիա և Օվկիանիա
- 4) Արաքս — Եվրոպա

17

Ո՞ր ծովերի մակերևութային ջրերն են սառը.

- 1) Կորալյան և Կարմիր
- 2) Կարիբյան և Սարգասյան
- 3) Արևելաչինական և Արաբական
- 4) Բաֆինի և Ռոսսի

18

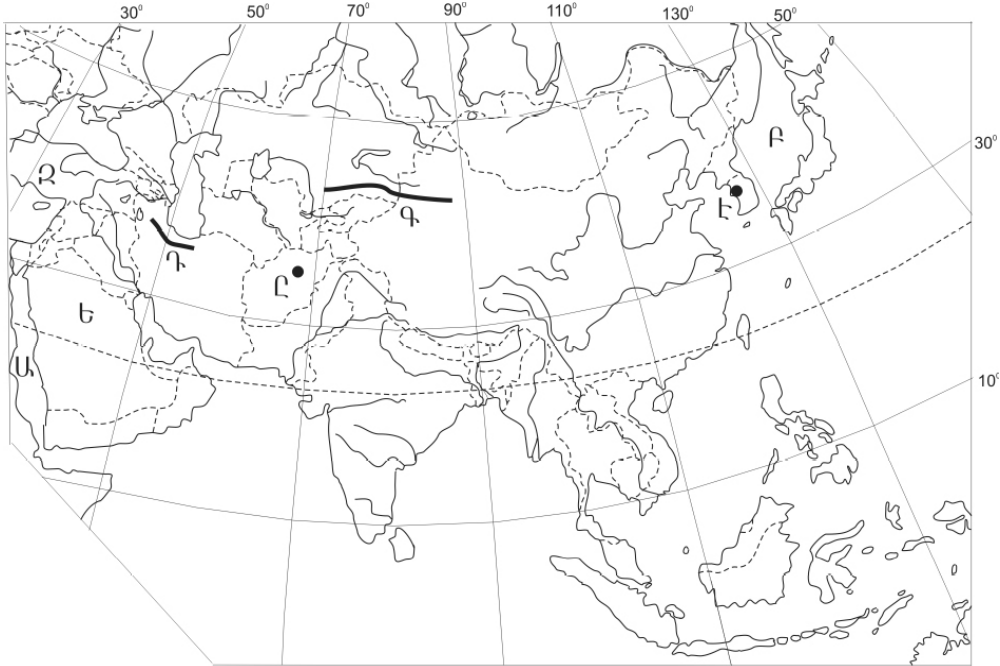
«Հարթավայր — դրա տարածքով հոսող գետ» գույգերից ընտրել ճիշտը.

- 1) Լավրենտյան սարահարթ — Կոլորադո
- 2) Կենտրոնական հարթավայրեր — Մակենզի
- 3) Մեծ ավազան սարահարթ — Յուկոն
- 4) Մեծ Հարթավայրեր — Միսսուրի

19

Ո՞ր լեռներն են քարտեզում նշված **Դ** տառով.

- 1) Տյան Շանի
- 2) Չագրոսի
- 3) Էլբուրսի
- 4) Հինդուկուշի



20

Ո՞ր մայրաքաղաքն է քարտեզում նշված **Ը** տառով.

- 1) Թեհրան
- 2) Բաղդադ
- 3) Իսլամաբադ
- 4) Քաբուլ

21

Ուրբանիզացման մակարդակը որոշող ցուցանիշ է.

- 1) քաղաքային բնակչության ծնվածների և մահացածների թվի տարբերությունը (մարդ)
- 2) Ամբողջ քաղաքային բնակչության թվի հարաբերակցությունը խոշոր քաղաքների բնակչության թվին
- 3) քաղաքային բնակչության բաժինը երկրի ընդհանուր բնակչության մեջ (%)
- 4) քաղաքային բնակչության թվի հարաբերակցությունը տարածքի մակերեսին (բն./կմ²)

22

Քաղաքային և գյուղական բնակավայրերի խոշոր կուտակումը մեծ քաղաքի կամ քաղաքների շուրջը, որոնք միմյանց հետ կապված են աշխատանքային, մշակութային, կենցաղային, արտադրական և այլ կապերով, կոչվում է.

- 1) ուրբանիզացիա
- 2) ասիմիլյացիա
- 3) միգրացիա
- 4) ագլոմերացիա

23

Բնութագրումով որոշել երկիրը.

Այս երկիրը նախագահական հանրապետություն է: Այն ցամաքային կապող օղակ է Պիրենեյան թերակղզու և Կենտրոնական ու Արևելյան Եվրոպայի երկրների միջև: Հարուստ է ուրանի պաշարներով, որի շնորհիվ էլեկտրաէներգիայի զգալի մասը արտադրվում է աեկներում: Ո՞րն է այդ երկիրը.

- 1) Գերմանիան
- 2) Իսպանիան
- 3) ՌԴ-ն
- 4) Ֆրանսիան

24

Երկրի բնակչության թիվը 4 մլն է, բնական աճի գործակիցը՝ 20 ‰: Բնակչության բացարձակ բնական աճը կկազմի.

- 1) 80 000 մարդ
- 2) 100 000 մարդ
- 3) 20 000 մարդ
- 4) 40 000 մարդ

25

Ո՞ր պնդումն է սխալ.

- 1) Չարգացած երկրներում՝ բնակչության սեռային կազմում, կանանց թիվը գերազանցում է տղամարդկանց թվին:
- 2) Եվրոպական երկրներում ձևավորվել է բնակչության վերարտադրության առաջին տիպը:
- 3) Երբ ծնելիությունը հավասար է մահացությանը, վերարտադրությունը կոչվում է պարզ:
- 4) Չարգացող երկրներին բնորոշ է նեղ հիմքով, համեմատաբար լայն գագաթով սեռատարիքային բուրգ:

26 Ընտրել «պետություն — մայրաքաղաք» համապատասխանության ճիշտ շարքը.

- | | |
|--------------|------------|
| 1) Աֆղանստան | ա. Անկարա |
| 2) Թուրքիա | բ. Սանա |
| 3) Եմեն | գ. Թբիլիսի |
| 4) Վրաստան | դ. Քարուլ |

- 1) 1-ա, 2-բ, 3-դ, 4-գ
- 2) 1-դ, 2-ա, 3-բ, 4-գ
- 3) 1-դ, 2-բ, 3-գ, 4-ա
- 4) 1-գ, 2-դ, 3-ա, 4-բ

27 «Արտադրություն — արդյունաբերության ճյուղ» զույգերից ո՞րն է ճիշտ.

- 1) պղնձի արտադրություն — քիմիական արդյունաբերություն
- 2) սարքաշինություն — մեքենաշինություն
- 3) պլաստմասսայի արտադրություն — մետաղաձուլություն
- 4) կաուչուկի արտադրություն — էներգետիկա

28 Հարավարևելյան Ասիայի վերաբերյալ ո՞ր պնդումն է ճիշտ.

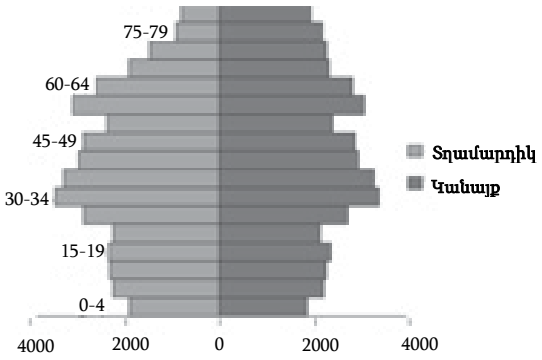
- 1) Տարածաշրջանում բնակչության թվով ամենախոշոր երկիրը Բրունեյն է:
- 2) Ֆիլիպիններում բնակչության գերակշիռ մասը դավանում է մահմեդականություն:
- 3) Սինգապուրը տարածաշրջանում ուրբանիզացման ամենաբարձր մակարդակ ունեցող երկիրն է:
- 4) Ճավան տարածաշրջանի ամենանոսր բնակեցված կղզին է:

29 Բնակչության վերարտադրության առաջին տիպի երկրներ են.

- 1) Նիգերիան և Կոնգոն
- 2) Իտալիան և Ճապոնիան
- 3) Բանգլադեշը և Հնդկաստանը
- 4) Կամերունը և Պակիստանը

30 Մեռատարիքային բուրգը բնորոշ է.

- 1) Իրանին
- 2) Ալժիրին
- 3) Գերմանիային
- 4) Պակիստանին



31

Ո՞ր պնդումն է ճիշտ.

- 1) Պողպատի ձուլման ձեռնարկությունները կառուցվում են գիտական կենտրոնների մոտ:
- 2) Ջրաէլեկտրակայանները հիմնականում կառուցվում են հարթավայրային գետերի վրա
- 3) Աէկներն ապահովում են աշխարհում արտադրվող էլեկտրաէներգիայի կեսից ավելին:
- 4) Ծանր գունավոր մետաղների ձուլումը կողմնորոշվում է դեպի հումքի բազաները:

32

Ընտրել «առաջատար երկիր — մշակաբույս» համապատասխանության ճիշտ շարքը.

- | | |
|--------------|----------------|
| 1) Ռուսաստան | ա. եգիպտացորեն |
| 2) Բրազիլիա | բ. արևածաղիկ |
| 3) ԱՄՆ | գ. թեյ |
| 4) Հնդկաստան | դ. սուրճ |

- 1) 1–դ, 2–գ, 3–բ, 4–ա
- 2) 1–բ, 2–ա, 3–դ, 4–գ
- 3) 1–բ, 2–դ, 3–ա, 4–գ
- 4) 1–ա, 2–գ, 3–դ, 4–բ

33

Ո՞ր պնդումն է ճիշտ.

- 1) Արևմտյան Եփրատի միջլեռնային գոգավորություններից նշանավոր են Ալաշկերտի, Մշո, Խարբերդի դաշտերը:
- 2) Արաքս գետի հովտում հայտնի են Կարնո և Երզնկայի դաշտերը:
- 3) Հայկական հրաբխային բարձրավանդակի հարավային մասի արևմուտքում է Բյուրակն լեռնազանգվածը:
- 4) Արդահանի և Ախալքալաքի սարավանդները Հայկական հրաբխային բարձրավանդակի կենտրոնական մասում են:

34

ՀՀ արդյունաբերության վերաբերյալ ո՞ր պնդումն է ճիշտ.

- 1) Քիմիական արդյունաբերության խոշոր կենտրոններ են Հրազդան և Գյումրի քաղաքները:
- 2) Ալյումինի արդյունաբերությունը բացառապես օգտագործում է տեղական հումք՝ Թեժ լեռան և Շվանիձորի (Մեղրու լեռնաշղթա):
- 3) Մեքենաշինության զարգացումը պայմանավորված է սև մետաղների առկայությամբ:
- 4) Վառելիքային հաշվեկշռում ամենամեծ բաժինն ունի բնական գազը:

35 Կոտայքի մարզը ո՞ր մարզին սահմանակից չէ.

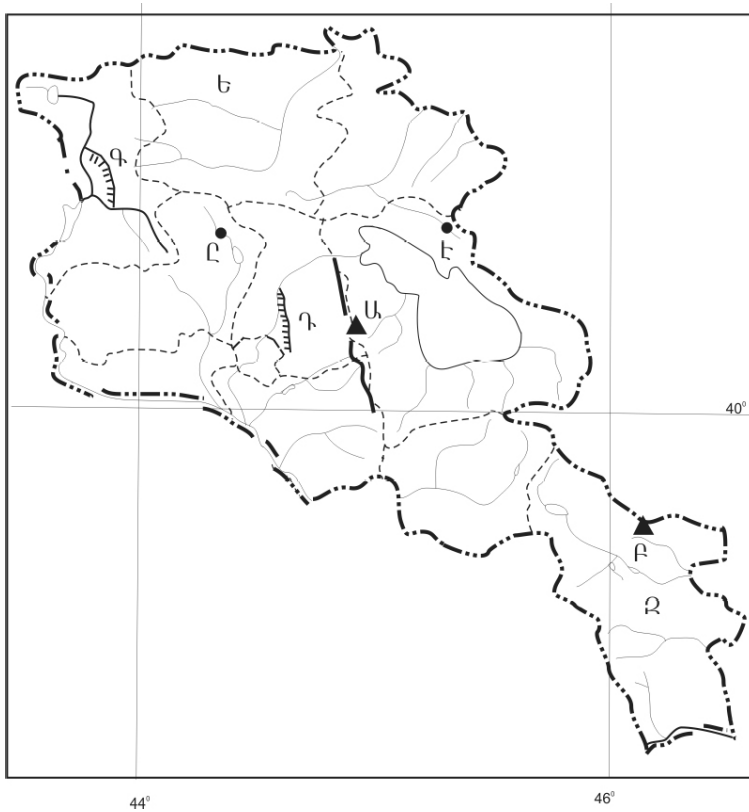
- 1) Տավուշի
- 2) Արագածոտնի
- 3) Լոռու
- 4) Արմավիրի

36 Ո՞ր ջրանցքն է քարտեզում նշված Դ տառով.

- 1) Նալբանդի
- 2) Կոտայքի
- 3) Լոռու
- 4) Շիրակի

37 Ո՞ր քաղաքն է քարտեզում նշված Ը տառով.

- 1) Հրազդան
- 2) Ապարան
- 3) Թալին
- 4) Աշտարակ



38

Ո՞ր շարքի բոլոր երկրներն են հարուստ ջրաէներգետիկ ռեսուրսներով.

- 1) ԱՄՆ, Ղազախստան, Եգիպտոս
- 2) Ճապոնիա, Ալժիր, Ավստրալիա
- 3) Բրազիլիա, Ռուսաստան, Կանադա
- 4) Ռուսաստան, Չինաստան, Մոնղոլիա

39

Տրվածներից ո՞րը մթնոլորտի մարդածին աղտոտման աղբյուր չէ.

- 1) կաթսայատները
- 2) անտառային հրդեհները
- 3) ջերմաէլեկտրակայանները
- 4) ջերմաէլեկտրակենտրոնները

40

Պետական օրենքով կամ ազգային ավանդությամբ պահպանվող տարածքը, որտեղ ամբողջապես բացառված է մարդու տնտեսական գործունեությունը, կոչվում է.

- 1) արգելոց
- 2) բնության հուշարձան
- 3) արգելավայր
- 4) ազգային պարկ

41

Գրել Հայկական հրաբխային բարձրավանդակի հյուսիսային մասի լեռնագրական միավորների համարները.

- | | |
|-------------------------|--------------------------|
| 1) Արդահանի սարավանդ | 5) Ախալքալաքի սարավանդ |
| 2) Մեծ Մասիս լեռ | 6) Սյունիքի բարձրավանդակ |
| 3) Սիփան լեռ | 7) Եղվարդի սարավանդ |
| 4) Ջավախքի լեռնազանգված | 8) Կոտայքի սարավանդ |

42

Գրել այն լեռնային համակարգերի համարները, որոնք Եվրոպայում են.

- | | |
|------------------|------------------------|
| 1) Ալպեր | 5) Էլբուրսի լեռներ |
| 2) Կարակորում | 6) Սկանդինավյան լեռներ |
| 3) Ալթայի լեռներ | 7) Կարպատներ |
| 4) Փոքր Կովկաս | 8) Չերսկու լեռներ |

43

Գրել այն երկրների համարները, որոնք առաջատար են պողպատի արտադրությամբ.

- | | |
|--------------|--------------|
| 1) Արգենտինա | 5) Ավստրալիա |
| 2) Կանադա | 6) Ղազախստան |
| 3) Մեքսիկա | 7) Չինաստան |
| 4) Եգիպտոս | 8) Ճապոնիա |

44

Տրված տրանսպորտի տեսակները դասավորել համաշխարհային ուղևորափոխադրումների կառուցվածքում ունեցած կշռի նվազման կարգով.

- 1) ավիացիոն
- 2) ավտոմոբիլային
- 3) երկաթուղային
- 4) ծովային

45

ՀՀ բնակչության վերաբերյալ տրված պնդումներից որո՞նք են ճիշտ, որո՞նք՝ սխալ.

- 1) Բնակչության թվով երրորդ քաղաքը Գյումրին է:
- 2) Հարևան պետությունների համեմատ բնակչության բարձր խտություն ունեցող երկիր է:
- 3) Եզդիների մեծ մասը բնակվում են Արագածոտնի և Արմավիրի մարզերի գյուղական բնակավայրերում:
- 4) Մինչև 1000 մ բարձրությունները ՀՀ ամենանոսրաբնակ տարածքն է:
- 5) 1988-1990 թթ. ավելի քան 180 հազ. ադրբեջանցիներ Հայաստանից հեռացան, իսկ ազատված բնակավայրերում հաստատվեց Ադրբեջանից արտաքսված հայությունը:
- 6) ՀՀ բնակչության կեսից ավելին բնակվում է 1500-2500 մ բացարձակ բարձրության գոտում:

Բ մակարդակ

46 Երևան (արլ. ե. $44^{\circ} 30'$) և Պրահա (արլ. ե. 14°) քաղաքների գոտիական ժամանակների տարբերությունը կլինի.

- 1) 3 ժամ
- 2) 4 ժամ
- 3) 1 ժամ
- 4) 2 ժամ

47 Ո՞ր պնդումն է ճիշտ.

- 1) Մասշտաբը թվային արտահայտություն է, որը ցույց է տալիս, թե հատակագծում կամ քարտեզում պատկերված տարածքը քանի անգամ է փոքրացված իրական չափերից:
- 2) Երկրի առանցքի թեքությունն իր ուղեծրի հարթության նկատմամբ կազմում է $23^{\circ} 30'$ անկյուն:
- 3) Ամբողջ երկրագնդի, նրա մայրցամաքների կամ երկրների ընդհանրացված պատկերը թղթի վրա կոչվում է հատակագիծ:
- 4) Երկրի մակերևույթի որևէ կետի բարձրությունը՝ հաշված ծովի մակարդակից, կոչվում է հարաբերական բարձրություն:

48 Ո՞ր շարքի գետերն են հոսում հարավից հյուսիս ուղղությամբ.

- 1) Դանուբ, Կուր, Ամուր
- 2) Օբ, Ենիսեյ, Լենա
- 3) Դնեպր, Վոլգա, Մեկոնգ
- 4) Ինդոս, Եփրատ, Գանգես

49 Ո՞ր պնդումն է սխալ.

- 1) Մթնոլորտային ցածր ճնշման գոտիներում լինում են առատ տեղումներ:
- 2) Մթնոլորտային բարձր ճնշման գոտիներում օդը կատարում է վարընթաց շարժում:
- 3) Հասարակածից բևեռներ շարժվելիս Արեգակից ստացվող ջերմության քանակը նվազում է:
- 4) Երկրագնդի վրա առանձնացնում են մթնոլորտային ցածր ճնշման չորս և բարձր ճնշման երեք գոտիներ:

50 Ո՞րն է բնության բաղադրիչների ճիշտ գուգորդությունը.

- 1) սավաննա — մոխրագորշ հող — փետրախոտ, սիզախոտ
- 2) տունդրա — կմախքային հող — հաճարենի, կաղնի
- 3) տայգա — պողզուլային հող — եղևնի, սոճի
- 4) տափաստան — սևահող — օշինդր, ուղտափուշ

51

«Սահմանակից երկրներ — գետեր» զուգորդումներից ընտրել ճիշտը.

- 1) Ռուսաստան — Ուկրաինա — Դնեպր
- 2) ԱՄՆ — Կանադա — Կոլորադո
- 3) Ռուսաստան — Չինաստան — Ամուր
- 4) Իրան — Թուրքիա — Եփրատ

52

Ո՞ր պնդումն է սխալ.

- 1) Քրիստոնյաների մեծ մասը կաթոլիկներ են:
- 2) Հնդկաստանի բնակչության մեծ մասը դավանում է բուդդայականություն:
- 3) Հինդուականություն և սինտոականությունը ազգային կրոններ են:
- 4) Իրանի բնակչության մեծ մասը դավանում է իսլամի շիա ուղղությունը:

53

«Նավահանգիստ — պետություն» զույգերից ընտրել ճիշտը.

- 1) Համբուրգ — Ֆրանսիա
- 2) Մարսել — Կանադա
- 3) Ռոտերդամ — Նիդերլանդներ
- 4) Վանկուվեր — Գերմանիա

54

Հնդկաստանի վերաբերյալ ո՞ր պնդումն է ճիշտ.

- 1) Հանքային հումքի բացակայության պատճառով արդյունաբերության կառուցվածքում բացակայում է քիմիական արդյունաբերությունը:
- 2) Թեթև արդյունաբերության առաջատար ճյուղերից է բամբակյա գործվածքների արտադրությունը:
- 3) Էլեկտրաէներգիայի գերակշիռ մասն արտադրվում է ատոմային էլեկտրակայաններում:
- 4) Սև մետաղաձուլությունը տեղաբաշխված է երկրի արևմուտքում:

55

Բնութագրումով որոշել պետությունը.

Եվրոպական այս երկիրը սահմանադրական միապետություն է: Մայրաքաղաքը խոշոր ծովային նավահանգիստ է և համաշխարհային նշանակության ֆինանսական կենտրոն: Արդյունաբերության ավանդական ճյուղերից են ածխարդյունաբերությունն ու սև մետաղաձուլությունը: Ո՞րն է այդ պետությունը.

- 1) Մեծ Բրիտանիան
- 2) Շվեդիան
- 3) Ֆրանսիան
- 4) Գերմանիան

56

Ո՞ր պնդումն է ճիշտ.

- 1) Սյունիքի բարձրավանդակի ամենաբարձր լեռնագագաթը Մեծ Իշխանասարն է:
- 2) Հարավային լեռնաշղթաների և միջլեռնային գոգավորությունների մարզում է Արփայի գոգավորությունը:
- 3) Սևանա լիճն արևմուտքից եզրավորվում է Արեգունու և Սևանի լեռնաշղթաներով:
- 4) Շիրակի լեռնաշղթան ձգվում է միջօրեականի ուղղությամբ՝ Բագումի լեռնաշղթայից մինչև Վիրահայոց լեռնաշղթա:

57

Ո՞ր կլիմայատիպն է բացակայում Սյունիքի մարզում.

- 1) չոր, խիստ ցամաքային
- 2) ցուրտ լեռնային
- 3) չոր մերձարևադարձային
- 4) բարեխառն լեռնային

58

Լոռու մարզում արդյունաբերության ո՞ր ենթաճյուղը զարգացած չէ.

- 1) քիմիական արդյունաբերությունը
- 2) պանրի արտադրությունը
- 3) գինու-կոնյակի արտադրությունը
- 4) պղնձաձուլությունը

59

Ի՞նչն է ընդհանուր Սյունիքի և Վայոց ձորի մարզերի համար.

- 1) Տուֆի, պեռլիտի պաշարներով ամենահարուստ մարզերն են:
- 2) Աչքի են ընկնում ուրբանիզացման բարձր մակարդակով:
- 3) Մարզերում գերակշռում են մակերևույթի հարթ ձևերը:
- 4) Սահմանակից են Նախիջևանի ԻՀ-ին:

60

Խաղողագործական շրջան է.

- 1) Սևանի ավազանը
- 2) Ապարանի սարահարթը
- 3) Արփայի հովիտը
- 4) Շիրակի դաշտը

61

Տրված պետությունները դասավորել եգիպտացորենի համախառն բերքի աճման կարգով.

- 1) Բրազիլիա
- 2) Մեքսիկա
- 3) Չինաստան
- 4) ԱՄՆ

62

Գրել Արևելյան Եփրատի հովտում ընկած դաշտերի համարները.

- | | |
|-------------|--------------|
| 1) Խարբերդի | 5) Շիրակի |
| 2) Բասենի | 6) Երզնկայի |
| 3) Կարնո | 7) Արարատյան |
| 4) Մշո | 8) Նախիջևանի |

63

Գրել այն երկրների համարները, որոնք միապետություններ են.

- | | |
|--------------|------------|
| 1) Շվեդիա | 5) Իրան |
| 2) Ֆինլանդիա | 6) Վրաստան |
| 3) Իսպանիա | 7) Քուվեյթ |
| 4) Գերմանիա | 8) Իրաք |

64

Գրել նեֆելինային սիենիտի հանքավայրերի համարները.

- | | |
|------------------------|-------------|
| 1) Ագարակի | 5) Սվարանցի |
| 2) Աբովյանի (Կապուտան) | 6) Սոթքի |
| 3) Փամբակի (Թեժ լեռան) | 7) Հրազդանի |
| 4) Մեղրու (Շվանիձոր) | 8) Շամլուղի |

65

Երկրի երկաթուղային տրանսպորտով տարեկան փոխադրվում է 2 մլն տ բեռ, իսկ բեռնաշրջանառությունը կազմում է 420 մլն տ•կմ: Որքա՞ն է բեռների փոխադրման միջին հեռավորությունը:

(66-67) Երկրի բնակչության թիվը 2 մլն է, բնական աճի գործակիցը՝ 20 %: Տարվա ընթացքում ներգաղթը կազմել է 12 400 մարդ, արտագաղթը՝ 8 520 մարդ:

66 Որոշել բնակչության մեխանիկական աճը:

67 Որոշել բնակչության բացարձակ բնական աճը:

(68-69) Լեռան ստորոտին մթնոլորտային ճնշումը 680 մմ է, իսկ օդի ջերմաստիճանը՝ 22°C : Լեռան գագաթին օդի ջերմաստիճանը $+10^{\circ}\text{C}$ է (հաշվարկը կատարել 6°C -ով):

68 Որոշել Լեռան հարաբերական բարձրությունը:

69 Որոշել մթնոլորտային ճնշումը Լեռան գագաթին:

Հարավային Ամերիկայի վերաբերյալ տրված պնդումներից որո՞նք են ճիշտ, որո՞նք՝ սխալ.

- 1) Կլիմայի ձևավորման վրա Խաղաղ օվկիանոսի ազդեցությունը սահմանափակում է Անդյան լեռնային համակարգը:
- 2) Ներքին հոսքի ավազանին է պատկանում տարածքի չնչին (շուրջ 2 %) մասը:
- 3) Հյուսիսային Ամերիկայից բաժանվում է Սուեզի ջրանցքով:
- 4) Հարավարևմտյան ափերի մոտով անցնում է Ֆոլկլենդյան սառը հոսանքը:
- 5) Հարավամերիկյան պլատֆորմի բարձրացած տեղամասերում ձևավորվել են Բրազիլական և Գվիանական սարահարթերը:
- 6) Անդերի՝ 4000 մ-ից վեր տարածվող բարձրալեռնային մարգագետիններին տեղացիները կոչում են լյանոս: