

ՄԻԱՄՆԱԿԱՆ ՔՆՆՈՒԹՅՈՒՆ

2015

ԱՇԽԱՐՀԱԳՐՈՒԹՅՈՒՆ

ԹԵՍՏ 3

Խմբի համարը

Նստարանի համարը

Հարգելի՛ դիմորդ

Խորհուրդ ենք տալիս առաջադրանքները կատարել ըստ հերթականության: Ուշադիր կարդացե՛ք յուրաքանչյուր առաջադրանքի պահանջը և պատասխանների առաջարկվող տարբերակները: Եթե Ձեզ չի հաջողվում որևէ առաջադրանքի անմիջապես պատասխանել, ժամանակը խնայելու նպատակով կարող եք այն բաց թողնել և դրան անդրադառնալ ավելի ուշ:

Ձեր առջև դրված թեստ-գրքույկի էջերի դատարկ մասերը ազատորեն կարող եք օգտագործել սևագրության համար: ***Թեստ-գրքույկը չի ստուգվում: Ստուգվում է միայն պատասխանների ձևաթուղթը:***

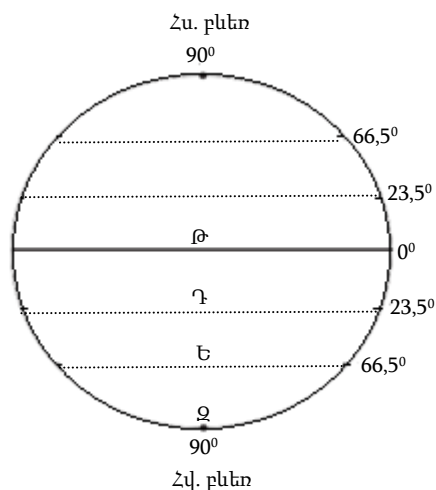
Առաջադրանքները կատարելուց հետո չմոռանաք պատասխանները ուշադիր և խնամքով նշել պատասխանների ձևաթղթում: Պատասխանների ձևաթղթի ճիշտ լրացումից է կախված Ձեր քննական միավորը:

Ցանկանում ենք հաջողություն:

Ա մակարդակ

1 Նկարում ո՞ր տառով է պատկերված հարավային բևեռային շրջագիծը.

- 1) Ե
- 2) Զ
- 3) Թ
- 4) Դ



2 Եթե քարտեզի թվային մասշտաբը 1 : 2 500 000 է, ապա դրա անվանական մասշտաբը կլինի.

- 1) 1 սմ–ում՝ 25 կմ
- 2) 1 սմ–ում՝ 2,5 կմ
- 3) 1 սմ–ում՝ 250 կմ
- 4) 1 սմ–ում՝ 250 մ

3 Երկու կետերի հեռավորությունը քարտեզում 16 սմ է, իսկ քարտեզի մասշտաբը՝ 1 : 2 400 000: Կետերի միջև իրական հեռավորությունը կլինի.

- 1) 384 կմ
- 2) 3840 կմ
- 3) 15 կմ
- 4) 150 կմ

4 Ո՞ր պնդումն է ճիշտ.

- 1) Տվյալ պահին նույն միջօրեականի վրա գտնվող վայրերում, կախված դրանց աշխարհագրական լայնությունից, գրանցվում են տարբեր տեղական ժամանակներ:
- 2) Բևեռային շառավիղը մեծ է հասարակածային շառավիղից:
- 3) Գլոբուսի վրա բոլոր միջօրեականներն իրար հավասար են:
- 4) Հս. լ. 66° 30՝ գուգահեռականի վրա գիշերահավասարի երևույթը տարվա մեջ նկատվում է մեկ անգամ՝ դեկտեմբերի 22–ին:

5

Բացարձակ խոնավության հարաբերությունը խոնավության այն քանակին, որն անհրաժեշտ է տվյալ ջերմաստիճանի օդը հագեցնելու համար, կոչվում է.

- 1) միջին խոնավություն
- 2) նվազագույն խոնավություն
- 3) առավելագույն խոնավություն
- 4) հարաբերական խոնավություն

6

Այն օդային զանգվածները, որոնք ձևավորվում են 20° – 40° աշխարհագրական լայնություններում և բնորոշվում են բարձր ջերմությամբ, չորությամբ և փոքր թափանցիկությամբ (մեծ փոշոտվածության պատճառով), կոչվում են.

- 1) արևադարձային օդային զանգվածներ
- 2) արկտիկական (անտարկտիկական) օդային զանգվածներ
- 3) բարեխառն օդային զանգվածներ
- 4) հասարակածային օդային զանգվածներ

7

Արեգակից ստացվող ջերմության քանակը կախված է.

- 1) օվկիանոսներից և ծովերից տվյալ վայրի ունեցած հեռավորությունից
- 2) գերիշխող քամիներից
- 3) տվյալ վայրի բուսապատվածության աստիճանից
- 4) տվյալ վայրի բացարձակ բարձրությունից


8

Օդի բացարձակ խոնավությունը 18 գ/մ^3 է: Տվյալ ջերմաստիճանում օդը հագեցնելու համար անհրաժեշտ է 30 գ/մ^3 խոնավություն: Օդի հարաբերական խոնավությունը կլինի.

- 1) 60 %
- 2) 70 %
- 3) 40 %
- 4) 50 %

9

Ո՞ր մայրցամաքի ռելիեֆի կտրվածքն է պատկերված արևմուտքից արևելք ուղղությամբ.

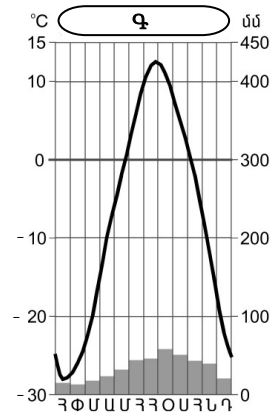


- 1) Անտարկտիդա
- 2) Հարավային Ամերիկա
- 3) Աֆրիկա
- 4) Ավստրալիա

10

Կլիմագրամի միջոցով որոշել, թե որ սեզոնին են դիտվում օդի ամենաբարձր միջին ամսական ջերմաստիճանները հյուսիսային կիսագնդի Գ բնակավայրում.

- 1) աշնանը
- 2) ձմռանը
- 3) գարնանը
- 4) ամռանը



11

«Գետ — ծոց» գույգերից ընտրել ճիշտը.

- 1) Ինդոս — Պարսից
- 2) Զամբեզի — Գվինեական
- 3) Միսիսիպի — Հուդզոնի
- 4) Գանգես — Բենգալական

12

Ո՞ր բնական զոնային բնորոշ բուսատեսակներ են շոկոլադի (կակաոյի) ծառը, կաուչուկատու հեեան, հսկա ֆիկուսը.

- 1) հասարակածային խոնավ մշտադալար անտառների
- 2) բարեխառն գոտու լայնատերև անտառների
- 3) մերձարևադարձային մշտադալար անտառների և թփուտների
- 4) սավաննաների և նոսր անտառների

13

Բնութագրումով որոշել կղզին.

Կղզու գրեթե կենտրոնով անցնում է հասարակածը: Այն Մալակկայի նեղուցով բաժանվում է Մալակկա թերակղզուց: Ո՞ր կղզին է.

- 1) Ճավա
- 2) Սուլավեսի
- 3) Կալիմանտան
- 4) Սումատրա

14

Ո՞ր պնդումն է ճիշտ.

- 1) Մթնոլորտային բարձր ճնշման գոտիներում տեղումները սակավ են, ցածր ճնշման գոտիներում՝ առատ:
- 2) Երկրագնդի վրա առանձնացնում են մթնոլորտային ցածր ճնշման չորս և բարձր ճնշման երեք գոտի:
- 3) Մթնոլորտային ճնշման գոտիների դիրքն ամբողջ տարվա ընթացքում անփոփոխ է:
- 4) Հասարակածային շրջաններում մթնոլորտային ճնշումը միշտ բարձր է:

15

Ո՞ր պնդումն է ճիշտ.

- 1) Դեկտեմբերի 22-ը ձմեռային գիշերահավասարի օրն է:
- 2) Լոնդոնը առաջին ժամային գոտում է:
- 3) Դեկտեմբերի 22-ի կեսօրին Արեգակի ճառագայթներն ուղղահայաց ընկնում են հվ. լ. 23° 30՛-ի վրա:
- 4) Երկրագունդը միջօրեականներով բաժանված է 15 ժամային գոտիների:

16

«Գետ — աշխարհամաս» գույգերից ընտրել ճիշտը.

- 1) Լուար — Ամերիկա
- 2) Ռիոն — Ասիա
- 3) Հոենոս — Ասիա
- 4) Պո — Աֆրիկա

17

Նիագարա գետով իրար կապված լճեր են.

- 1) Օնտարիոն և Հուրոնը
- 2) Միչիգանը և Հուրոնը
- 3) Էրին և Օնտարիոն
- 4) Հուրոնը և Էրին

18

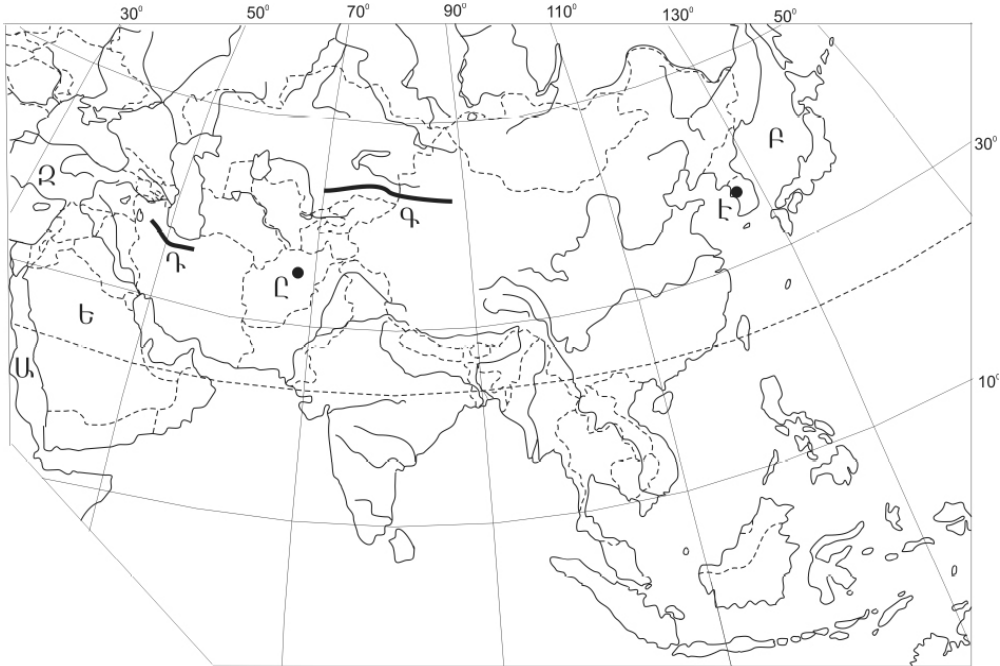
«Հարթավայր — դրա տարածքով հոսող գետ» գույգերից ո՞րն է ճիշտը.

- 1) Կենտրոնական հարթավայր — Յուկոն
- 2) Մեծ հարթավայրեր — Սուրբ Լավրենտիոս
- 3) Մերձատլանտյան դաշտավայր — Մակենզի
- 4) Մերձմեքսիկական դաշտավայր — Միսսիսիպի

19

Ո՞ր լեռներն են քարտեզում նշված Գ տառով.

- 1) Կովկասի
- 2) Հինդուկուշի
- 3) Էլբուրսի
- 4) Տյան Շանի



20

Ո՞ր մայրաքաղաքն է քարտեզում նշված Է տառով.

- 1) Փհենյան
- 2) Դելի
- 3) Սեուլ
- 4) Տոկիո

21

Ո՞ր պնդումն է ճիշտ.

- 1) Միգրացիայի ինտենսիվությունը առավել բարձր է ծերերի և կանանց շրջանում:
- 2) Միգրացիայի պատճառ կարող է դառնալ բնական և տեխնաձին աղետների հետևանքով էկոլոգիական իրավիճակի վատթարացումը:
- 3) Երկրի բնակչության թվաքանակը փոխվում է ներքին միգրացիայի շնորհիվ:
- 4) Ներկայումս արտաքին միգրացիայի հիմնական պատճառը կրոնականն է:

22

Հասարակության զարգացման մեջ քաղաքների դերի մեծացման պատմական գործընթացը, որն արտահայտվում է բնակչության ընդհանուր թվում քաղաքային բնակչության տեսակարար կշռի ավելացմամբ և քաղաքային ապրելակերպի տարածմամբ, կոչվում է.

- 1) միգրացիա
- 2) դեպոպուլյացիա
- 3) ուրբանիզացիա
- 4) ագլոմերացիա

23

Բնութագրումով որոշել երկիրը.

Տարածքի մեծությամբ և բնակչության թվով Եվրոպայում խոշոր երկրներից է: Հարուստ է քարածխի և երկաթաքարի պաշարներով: Բնակչությունը բնութագրվում է ցածր բնական աճով: Բնակչության թվով երկրորդ ազգը ռուսներն են: Երկրի տնտեսության զարգացման համար կարևոր նշանակություն ունի Սև ծովի ափին տեղակայված լինելը: Ո՞րն է այդ երկիրը.

- 1) Գերմանիան
- 2) Լեհաստանը
- 3) Ուկրաինան
- 4) Բելառուսը

24

Երկրի բնակչության թիվը կազմում է 365 600 մարդ, ծնելիության գործակիցը՝ 5 ‰: Ծնվածների բացարձակ թիվը կկազմի.

- 1) 1980 մարդ
- 2) 2028 մարդ
- 3) 1828 մարդ
- 4) 1628 մարդ

25

Ո՞ր պնդումն է սխալ.

- 1) Բնակչության ծնելիությունն ու մահացությունը հաշվում են տոկոսով կամ պրոմիլներով:
- 2) Բնակչության վերարտադրության երկրորդ տիպի երկրներին բնորոշ է ցածր ծնելիությունը, բարձր մահացությունը և ցածր բնական աճը:
- 3) Բնակչության վերարտադրության երկրորդ տիպին են պատկանում Ասիայի, Աֆրիկայի և Լատինական Ամերիկայի երկրները:
- 4) «Ժողովրդագրական ճգնաժամը» բնորոշ է զարգացած երկրներին:

26 Ընտրել «պետություն — մայրաքաղաք» համապատասխանության ճիշտ շարքը.

- | | |
|------------------------------------|--------------|
| 1) Սիրիա | ա. Աբու Դաբի |
| 2) Հորդանան | բ. Մասկատ |
| 3) Արաբական Միացյալ Էմիրություններ | գ. Դամասկոս |
| 4) Օման | դ. Ամման |
- 1) 1-ա, 2-գ, 3-բ, 4-դ
 2) 1-դ, 2-բ, 3-ա, 4-գ
 3) 1-բ, 2-ա, 3-դ, 4-գ
 4) 1-գ, 2-դ, 3-ա, 4-բ

27 «Արտադրանք — արդյունաբերության ճյուղ» գույգերից ընտրել ճիշտը.

- 1) տրիկոտաժ — թեթև արդյունաբերություն
- 2) սինթետիկ մանրաթել — թեթև արդյունաբերություն
- 3) հաստոց — մետաղաձուլություն
- 4) պլաստմասսա — մեքենաշինություն

28 Արևելյան Եվրոպա տարածաշրջանի վերաբերյալ ո՞ր պնդումն է ճիշտ.

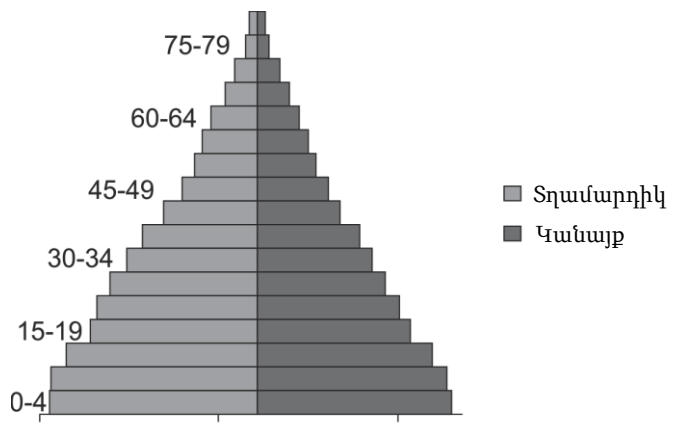
- 1) Երկրների մեծ մասի տնտեսությունը հետարդյունաբերական զարգացման փուլում է:
- 2) Էլեկտրաէներգետիկայի գերակշիռ մասը տալիս են ջրային էլեկտրակայանները:
- 3) Երկրներին բնորոշ է բնակչության վերարտադրության երկրորդ տիպը:
- 4) Տարածաշրջանում մեծ թիվ են կազմում սլավոնական ժողովուրդները:

29 Բնակչության բացարձակ թվի նվազումը (ապաբնակեցումը) առավելապես բնորոշ է.

- 1) Ռուսաստանին և Ուկրաինային
- 2) Թուրքմենստանին և Ուզբեկստանին
- 3) Ղազախստանին և Իրանին
- 4) Ավստրալիային և Ճապոնիային

30 Մեռատարիքային բուրգը բնորոշ է.

- 1) Բելգիային
- 2) Հնդկաստանին
- 3) Ֆրանսիային
- 4) ԱՄՆ-ին



31

Ո՞ր պնդումն է ճիշտ.

- 1) ԱՄՆ-ի Կալիֆոռնիա նահանգում տեղեկատվական տեխնոլոգիական բարդ սարքավորումների արտադրությունները կենտրոնացած են Սթենֆորդի համալսարանի շուրջը:
- 2) Մեքենաշինության նյութատար ճյուղեր են ռադիոէլեկտրոնիկան, ճշգրիտ մեքենաների արտադրությունը:
- 3) Զարգացող երկրներում զարգացած են մեքենաշինության գիտատար ճյուղերը:
- 4) Զարգացած երկրների մեքենաշինության առաջատար ճյուղը գյուղատնտեսական մեքենաշինությունն է:

32

Ընտրել «մշակաբույս — բուսաբուծության ճյուղ» համապատասխանության ճիշտ շարքը.

- | | |
|------------|-----------------------|
| 1) ծխախոտ | ա. հացահատիկային |
| 2) գարի | բ. տեխնիկական |
| 3) վարունգ | գ. այգեգործություն |
| 4) ինձոր | դ. բանջարաբուստանային |
-
- 1) 1-գ, 2-ա, 3-բ, 4-դ
 - 2) 1-բ, 2-ա, 3-դ, 4-գ
 - 3) 1-բ, 2-գ, 3-ա, 4-դ
 - 4) 1-ա, 2-գ, 3-դ, 4-բ

33

Ո՞ր պնդումն է ճիշտ.

- 1) Հայկական հրաբխային բարձրավանդակի կենտրոնական մասում վեր են խոյանում Արագած ու Գեղամա լեռնազանգվածները:
- 2) Հայկական լեռնաշխարհի հարավային մասում ձգվում է Հայկական պար լեռնաշղթան:
- 3) Հայկական լեռնաշխարհի հարավային մասում՝ Միջագետքի հարևանությամբ, ձգվում է Ներքին Տավրոսի լեռնային համակարգը:
- 4) Հայկական լեռնաշխարհն արևելքից սահմանակցում է Արաբական սարահարթին:

34

ՀՀ արդյունաբերության վերաբերյալ ո՞ր պնդումն է ճիշտ.

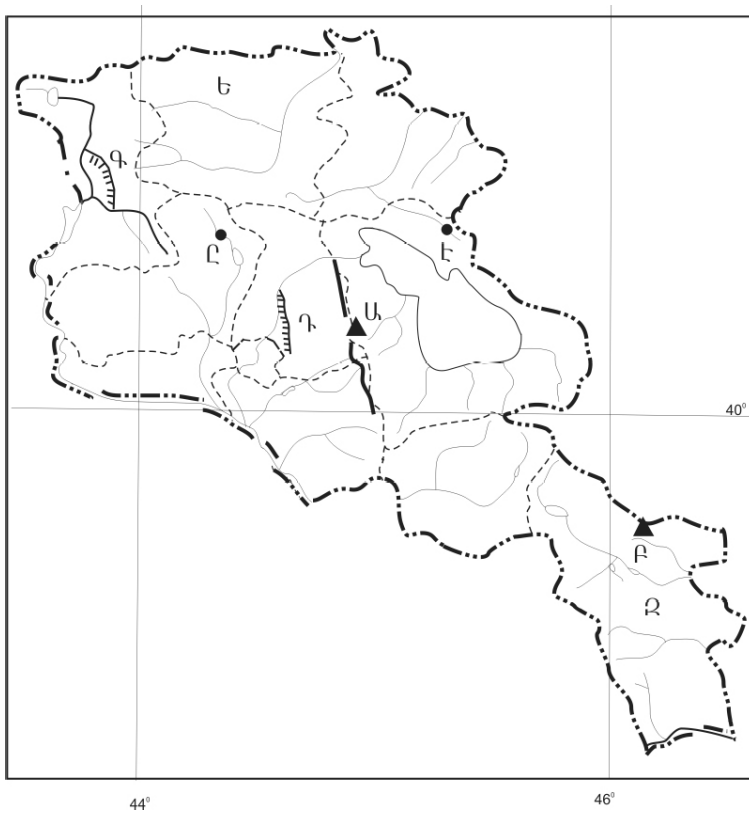
- 1) Քիմիական արդյունաբերության խոշոր կենտրոններ են Արմավիր և Գյումրի քաղաքները:
- 2) Ալյումինի արդյունաբերության կենտրոնը Վանաձորն է:
- 3) ՀՀ մեքենաշինության տեղաբաշխումն ամբողջությամբ համընկնում է գունավոր մետաղաձուլության տեղաբաշխման հետ:
- 4) ՀՀ էլեկտրակայանների հզորության կառուցվածքում առավել մեծ բաժին ունեն ջեկերը:

35 Սյունիքի մարզը սահմանակից չէ:

- 1) Վայոց ձորի մարզին
- 2) Թուրքիային
- 3) Ադրբեջանին
- 4) Իրանին

36 Ո՞ր ջրանցքն է քարտեզում նշված Գ տառով:

- 1) Նալբանդի
- 2) Կոտայքի
- 3) Լոռու
- 4) Շիրակի



37 Ո՞ր քաղաքն է քարտեզում նշված Է տառով:

- 1) Դիլիջան
- 2) Իջևան
- 3) Սևան
- 4) Ճամբարակ

38

Ո՞ր շարքի բոլոր երկրներն են հարուստ նավթի պաշարներով.

- 1) Իրան, Ճապոնիա, Ինդոնեզիա
- 2) Ռուսաստան, Ադրբեջան, Բելառուս
- 3) Քուվեյթ, Իրաք, Վենեսուելա
- 4) Սաուդյան Արաբիա, Իտալիա, Ուկրաինա

39

Տրվածներից ո՞րը մթնոլորտի աղտոտման բնածին աղբյուր չէ.

- 1) անտառային հրդեհը
- 2) հրաբուխը
- 3) փոշեհողմը
- 4) ավտոմոբիլային տրանսպորտը

40

Մթնոլորտում կախված վիճակում հանդես եկող պինդ և հեղուկ նյութերի մանր փոշեման մասնիկները կոչվում են.

- 1) ֆենոլներ
- 2) ֆումարոլներ
- 3) աերոզոլներ
- 4) պեստիցիդներ

41

Գրել Հայկական լեռնաշխարհի հրաբխային գագաթների համարները.

- | | |
|--------------------|--------------|
| 1) Սիփան | 5) Թեժլեռ |
| 2) Ծղուկ | 6) Նեմրութ |
| 3) Կաչկար (Քաջքար) | 7) Արամազդ |
| 4) Սուկավետ | 8) Գումշասար |

42

Գրել այն լեռնային համակարգերի համարները, որոնք Եվրոպայում են.

- | | |
|---------------------|------------------------|
| 1) Հիմալայներ | 5) Կարպատներ |
| 2) Տյան-Շանի լեռներ | 6) Ալթայի լեռներ |
| 3) Մեծ Կովկաս | 7) Սկանդինավյան լեռներ |
| 4) Պիրենեյներ | 8) Վերխոյանսկի լեռներ |

43

Գրել այն երկրների համարները, որտեղ արտադրվող էլեկտրաէներգիայի գերակշիռ մասը բաժին է ընկնում ատոմային էլեկտրակայաններին.

- | | |
|--------------|-------------|
| 1) Կանադա | 5) Ճապոնիա |
| 2) Բրազիլիա | 6) Չինաստան |
| 3) Ռուսաստան | 7) Իրան |
| 4) Թուրքիա | 8) Ֆրանսիա |

44

Տրված տրանսպորտի տեսակները դասավորել համաշխարհային բեռնաշրջանառության կառուցվածքում ունեցած կշռի նվազման կարգով.

- 1) երկաթուղային
- 2) ծովային
- 3) խողովակաշարային
- 4) ավտոմոբիլային

45

ՀՀ գյուղական բնակավայրերի վերաբերյալ տրված պնդումներից որո՞նք են ճիշտ, որո՞նք՝ սխալ.

- 1) Արմավիրի և Արարատի մարզերում գյուղական բնակչության տեսակարար կշիռը ցածր է:
- 2) Սյունիքի և Լոռու մարզերում գյուղական բնակչության տեսակարար կշիռը բարձր է:
- 3) Բարձրլեռնային գոտու գյուղական բնակավայրերի ցանցը նոսրացել է:
- 4) Գյուղական բնակավայրերի միջին մարդաշատությունը մեծացել է:
- 5) Սյունիքի և Արագածոտնի մարզերում տիրապետող գյուղական համատարած տարաբնակեցումն է:
- 6) Ամենաբարձրադիր գյուղը Վերին Շորժան է՝ Գեղարքունիքի մարզում:

Բ մակարդակ

46 Երևան (արլ. ե. $44^{\circ} 30'$) և Իրկուտսկ (արլ. ե. 105°) քաղաքների գոտիական ժամանակների տարբերությունը կլինի.

- 1) 3 ժամ
- 2) 4 ժամ
- 3) 1 ժամ
- 4) 2 ժամ

47 Ո՞ր պնդումն է ճիշտ.

- 1) Երկրագնդի ամենամեծ բացարձակ խորությունն ունեցող կետը Ատլանտյան օվկիանոսում է:
- 2) Երկրի մակերևույթի բոլոր անհարթությունների ամբողջությունը կոչվում է ռելիեֆ:
- 3) Ջուգահեռականները հատակագծի կամ քարտեզի՝ տեղանքի հավասար բացարձակ բարձրություն ունեցող կետերը միացնող գծերն են:
- 4) Բացարձակ բարձրությունը ցույց է տալիս, թե Երկրի մակերևույթի որևէ կետ որքանով է բարձր մեկ այլ կետից:

48 Ո՞ր շարքի գետերն են հոսում արևմուտքից արևելք ուղղությամբ.

- 1) Դանուբ, Ամուր, Յանցզի
- 2) Օբ, Լենա, Վոլգա
- 3) Ինդոս, Մեկոնգ, Տիգրիս
- 4) Դնեպր, Իրավադի, Ենիսեյ

49 Ո՞ր պնդումն է սխալ.

- 1) Մթնոլորտային ճնշման գոտիների առաջացման պատճառը Երկրի վրա ջերմության անհավասարաչափ բաշխումն է:
- 2) Արևադարձային գոտիներում օդը կատարում է վարընթաց շարժում:
- 3) Երկրագնդի վրա օդը մշտապես շարժվում է բարձր ճնշման գոտուց դեպի ցածր ճնշման գոտի:
- 4) Վարընթաց շարժում կատարող օդը հագեցնում է և առաջացնում առատ տեղումներ:

50 Ո՞րն է բնության բաղադրիչների ճիշտ գուգորդությունը.

- 1) անապատ — սևահող — օշինդր, ուղտափուշ
- 2) տափաստան — մոխրագորշ հող — փետրախոտ, սիգախոտ
- 3) տայգա — պողզոլային հող — եղևնի, սոճի
- 4) տունդրա — կմախքային հող — լորենի, հացենի

51

«Սահմանակից երկրներ — լեռներ» գուգորդումներից ընտրել ճիշտը.

- 1) Թուրքիա — Իրան — Պոնտական
- 2) Լեհաստան — Չեխիա — Ալպեր
- 3) Ֆրանսիա — Իսպանիա — Պիրենեյներ
- 4) Ուկրաինա — Ռուսաստան — Կարպատներ

52

Ո՞ր պնդումն է ճիշտ.

- 1) Նեգրոիդ և եվրոպեոիդ ռասաների խառնածինները կոչվում են մուլատներ:
- 2) Ռուսները պատկանում են հնդեվրոպական լեզվաընտանիքի ռոմանական լեզվախմբին:
- 3) Աշխարհի լեզուները միավորվում են 50 խոշոր լեզվաընտանիքների մեջ:
- 4) Արևմտյան Եվրոպայի երկրներն աչքի են ընկնում բնակչության բարձր բնական աճով:

53

«Երկիր — նավահանգիստ» գույգերից ընտրել *սխալը*.

- 1) Գերմանիա — Համբուրգ
- 2) Ռուսաստան — Մուրմանսկ
- 3) Ֆրանսիա — Մարսել
- 4) Բելգիա — Ռոտերդամ

54

Հնդկաստանի վերաբերյալ ո՞ր պնդումն է ճիշտ.

- 1) Հանքային հումքի բացակայության պատճառով արդյունաբերության կառուցվածքում բացակայում է քիմիական արդյունաբերությունը:
- 2) Արդյունաբերության առաջատար ճյուղերից է սև մետաղաձուլությունը:
- 3) Քարածխի պաշարներով աշխարհում առաջինն է:
- 4) Էլեկտրաէներգիայի գերակշիռ մասը արտադրվում է ջրէկներում:

55

Բնութագրումով որոշել պետությունը.

«Մեծ յոթնյակ»-ի անդամ այս պետությունն ըստ պետական կարգի խորհրդարանական հանրապետություն է: Հարուստ է մարմարի ու սնդիկի պաշարներով: Երկրում բարձր է ուրբանիզացման մակարդակը, սակայն ի տարբերություն այլ եվրոպական երկրների՝ այստեղ շատ չեն խոշորագույն քաղաքները: Ո՞րն է այդ երկիրը.

- 1) Գերմանիան
- 2) Մեծ Բրիտանիան
- 3) Իտալիան
- 4) Ֆրանսիան

56 ՀՀ լեռնագրության վերաբերյալ ո՞ր պնդումն է ճիշտ.

- 1) Աշոցքի սարահարթում են Ծղուկ և Մեծ Իշխանասար գագաթները:
- 2) Ուրծի լեռնաշղթայից սկսվում և դեպի արևելք տարածվում են Բարգուշատի և Ջանգեզուրի լեռնաշղթաները:
- 3) Սևանա լիճը եզրավորված է միայն ծալքաբեկորավոր լեռներով:
- 4) ՀՀ ամենաբարձր ծալքաբեկորավոր լեռնագագաթը Կապուտջուղն է:

57 Տավուշի մարզի հյուսիսի ցածրադիր հովիտներում կլիման.

- 1) չափավոր ցամաքային է
- 2) չոր և խիստ ցամաքային է
- 3) չոր մերձարևադարձային է
- 4) բարեխառն լեռնային է

58 Արարատի մարզում արդյունաբերության ո՞ր ենթաճյուղը զարգացած չէ.

- 1) ցեմենտի
- 2) մսի
- 3) գինու–կոնյակի
- 4) պահածոների

59 Ի՞նչն է ընդհանուր Սյունիքի և Վայոց ձորի մարզերի համար.

- 1) Սահմանակից են Նախիջևանի Հանրապետությանը:
- 2) Արդյունաբերության մասնագիտացման ճյուղ է գունավոր մետաղաձուլությունը:
- 3) Արդյունաբերության մասնագիտացման ճյուղերից է հանքային ջրերի արտադրությունը:
- 4) Գերակշռում են անտառային լանդշաֆտները:

60 Խաղողագործական շրջան չէ.

- 1) Արփայի հովիտը
- 2) Շիրակի դաշտը
- 3) Սյունիքի հարավը
- 4) Արարատյան դաշտը

61 Տրված պետությունները դասավորել բրնձի համախառն բերքի աճման կարգով.

- 1) Բանգլադեշ
- 2) Չինաստան
- 3) Ինդոնեզիա
- 4) Հնդկաստան

62

Գրել Արևմտյան Եփրատի հովտում ընկած դաշտերի համարները.

- | | |
|--------------|--------------|
| 1) Ալաշկերտի | 5) Մասրիկի |
| 2) Բասենի | 6) Շիրակի |
| 3) Կարնո | 7) Արարատյան |
| 4) Մշո | 8) Երզնկայի |

63

Գրել այն երկրների համարները, որոնք կառավարման ձևով բացարձակ միապետություններ են.

- | | |
|--------------------|-------------|
| 1) Նիդերլանդներ | 5) Դանիա |
| 2) Սաուդյան Արաբիա | 6) Նորվեգիա |
| 3) Ճապոնիա | 7) Շվեդիա |
| 4) Իսպանիա | 8) Օման |

64

Գրել երկաթաքարի հանքավայրերի համարները.

- | | |
|------------------------|--------------|
| 1) Ալավերդու | 5) Սվարանցի |
| 2) Արովյանի (Կապուտան) | 6) Քաջարանի |
| 3) Քաջարանի | 7) Հրազդանի |
| 4) Մեղրու (Շվանիձոր) | 8) Մեղրաձորի |

65

Երկրի զեոսային տրանսպորտով տարեկան փոխադրվում է 9 մլն տ բեռ, իսկ բեռնաշրջանառությունը կազմում է 630 մլն տ•կմ: Որքա՞ն է բեռների փոխադրման միջին հեռավորությունը:

(66-67) Երկրի բնակչության թիվը 4 մլն է, բնական աճի գործակիցը՝ 15 %: Տարվա ընթացքում ներգաղթը կազմել է 14 000 մարդ, արտագաղթը՝ 6 000 մարդ.

66 Որոշել բնակչության բացարձակ բնական աճը:

67 Որոշել բնակչության մեխանիկական աճը:

(68-69) Լեռան ստորոտին մթնոլորտային ճնշումը 500 մմ է, իսկ օդի ջերմաստիճանը՝ 25°: Լեռան գագաթին օդի ջերմաստիճանը +13° է (հաշվարկը կատարել 6⁰-ով).

68 Որոշել Լեռան հարաբերական բարձրությունը:

69 Որոշել մթնոլորտային ճնշումը Լեռան գագաթին:

Հյուսիսային Ամերիկայի վերաբերյալ տրված պնդումներից որո՞նք են ճիշտ, որո՞նք՝ սխալ.

- 1) Լաբրադոր թերակղզում տունդրայի զոնայի հարավային սահմանը Ալյասկայի համեմատ ձգվում է բավականին հյուսիս:
- 2) Մեծ ավազան սարահարթում տարածվում է կիսանապատային լանդշաֆտը:
- 3) Հյուսիսամերիկյան պլատֆորմի բյուրեղացած հիմքի մերկացած տեղամասերում առաջացել է Կոորդիլիերների լեռնային համակարգը:
- 4) Ամբողջովին արևելյան կիսագնդում է:
- 5) Ատլանտյան օվկիանոսի Լաբրադորյան և Խաղաղ օվկիանոսի Կալիֆոռնիական սառը ծովային հոսանքներն առափնյա շրջաններում առաջացնում են կլիմայի չորություն և օդի ջերմաստիճանի նվազում:
- 6) Հյուսիսային մասի մակերևույթի ձևավորման վրա մեծ ազդեցություն են թողել սառցադաշտերը: