

ՄԻԱՄՆԱԿԱՆ ՔՆՆՈՒԹՅՈՒՆ

2015

ԱՇԽԱՐՀԱԳՐՈՒԹՅՈՒՆ

ԹԵՍՏ 1

Խմբի համարը

Նստարանի համարը

Հարգելի՛ դիմորդ

Խորհուրդ ենք տալիս առաջադրանքները կատարել ըստ հերթականության: Ուշադիր կարդացե՛ք յուրաքանչյուր առաջադրանքի պահանջը և պատասխանների առաջարկվող տարբերակները: Եթե Ձեզ չի հաջողվում որևէ առաջադրանքի անմիջապես պատասխանել, ժամանակը խնայելու նպատակով կարող եք այն բաց թողնել և դրան անդրադառնալ ավելի ուշ:

Ձեր առջև դրված թեստ-գրքույկի էջերի դատարկ մասերը ազատորեն կարող եք օգտագործել սևագրության համար: **Թեստ-գրքույկը չի ստուգվում: Ստուգվում է միայն պատասխանների ձևաթուղթը:**

Առաջադրանքները կատարելուց հետո չմոռանաք պատասխանները ուշադիր և խնամքով նշել պատասխանների ձևաթղթում: Պատասխանների ձևաթղթի ճիշտ լրացումից է կախված Ձեր քննական միավորը:

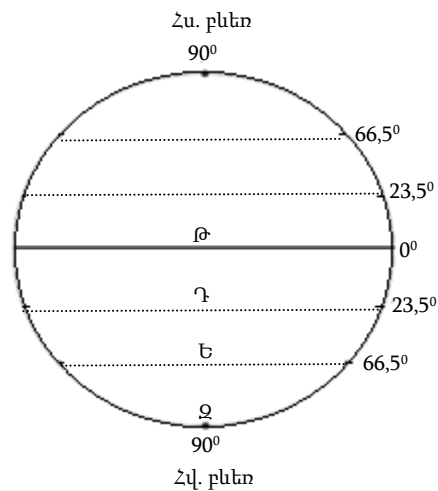
Ցանկանում ենք հաջողություն:

Ա մակարդակ

1

Նկարում n° թ տառով է պատկերված հարավային բևեռային շրջագիծը.

- 1) Ջ
- 2) Թ
- 3) Դ
- 4) Ե



2

Եթե քարտեզի թվային մասշտաբը 1 : 2 500 000 է, ապա դրա անվանական մասշտաբը կլինի.

- 1) 1 սմ–ում՝ 2,5 կմ
- 2) 1 սմ–ում՝ 250 կմ
- 3) 1 սմ–ում՝ 250 մ
- 4) 1 սմ–ում՝ 25 կմ

3

Երկու կետերի հեռավորությունը քարտեզում 16 սմ է, իսկ քարտեզի մասշտաբը՝ 1 : 2 400 000: Կետերի միջև իրական հեռավորությունը կլինի.

- 1) 3840 կմ
- 2) 15 կմ
- 3) 150 կմ
- 4) 384 կմ

4

Ω թ պնդումն է ճիշտ.

- 1) Բևեռային շառավիղը մեծ է հասարակածային շառավիղից:
- 2) Գլոբուսի վրա բոլոր միջօրեականներն իրար հավասար են:
- 3) Հւ. լ. $66^\circ 30'$ գուգահեռականի վրա գիշերահավասարի երևույթը տարվա մեջ նկատվում է մեկ անգամ՝ դեկտեմբերի 22–ին:
- 4) Տվյալ պահին նույն միջօրեականի վրա գտնվող վայրերում, կախված դրանց աշխարհագրական լայնությունից, գրանցվում են տարբեր տեղական ժամանակներ:

5

Բացարձակ խոնավության հարաբերությունը խոնավության այն քանակին, որն անհրաժեշտ է տվյալ ջերմաստիճանի օդը հագեցնելու համար, կոչվում է.

- 1) նվազագույն խոնավություն
- 2) առավելագույն խոնավություն
- 3) հարաբերական խոնավություն
- 4) միջին խոնավություն

6

Այն օդային զանգվածները, որոնք ձևավորվում են 20° – 40° աշխարհագրական լայնություններում և բնորոշվում են բարձր ջերմությամբ, չորությամբ և փոքր թափանցիկությամբ (մեծ փոշոտվածության պատճառով), կոչվում են.

- 1) արկտիկական (անտարկտիկական) օդային զանգվածներ
- 2) բարեխառն օդային զանգվածներ
- 3) հասարակածային օդային զանգվածներ
- 4) արևադարձային օդային զանգվածներ

7

Արեգակից ստացվող ջերմության քանակը կախված է.

- 1) գերիշխող քամիներից
- 2) տվյալ վայրի բուսապատվածության աստիճանից
- 3) տվյալ վայրի բացարձակ բարձրությունից
- 4) օվկիանոսներից և ծովերից տվյալ վայրի ունեցած հեռավորությունից


8

Օդի բացարձակ խոնավությունը 18 գ/մ^3 է: Տվյալ ջերմաստիճանում օդը հագեցնելու համար անհրաժեշտ է 30 գ/մ^3 խոնավություն: Օդի հարաբերական խոնավությունը կլինի.

- 1) 70 %
- 2) 40 %
- 3) 50 %
- 4) 60 %

9

Ո՞ր մայրցամաքի ռելիեֆի կտրվածքն է պատկերված արևմուտքից արևելք ուղղությամբ.

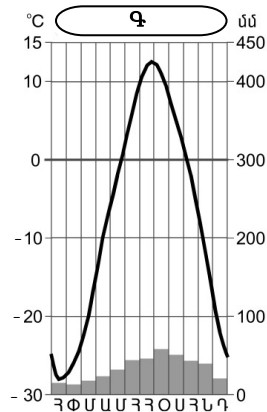


- 1) Հարավային Ամերիկա
- 2) Աֆրիկա
- 3) Ավստրալիա
- 4) Անտարկտիդա

10

Կլիմագրամի միջոցով որոշել, թե որ սեզոնին են դիտվում օդի ամենաբարձր միջին ամսական ջերմաստիճանները հյուսիսային կիսագնդի Գ բնակավայրում.

- 1) ձմռանը
- 2) գարնանը
- 3) ամռանը
- 4) աշնանը



11

«Գետ — ծոց» գույգերից ընտրել ճիշտը.

- 1) Ջամբեգի — Գվինեական
- 2) Միսիսիպի — Հուդզոնի
- 3) Գանգես — Բենգալական
- 4) Ինդոս — Պարսից

12

Ո՞ր բնական զոնային բնորոշ բուսատեսակներ են շոկոլադի (կակաոյի) ծառը, կաուչուկատու հեռան, հսկա ֆիկուսը.

- 1) բարեխառն գոտու լայնատերև անտառների
- 2) մերձարևադարձային մշտադալար անտառների և թփուտների
- 3) սավաննաների և նոսր անտառների
- 4) հասարակածային խոնավ մշտադալար անտառների

13

Բնութագրումով որոշել կղզին.

Կղզու գրեթե կենտրոնով անցնում է հասարակածը: Այն Մալակկայի նեղուցով բաժանվում է Մալակկա թերակղզուց: Ո՞ր կղզին է.

- 1) Սուլավեսի
- 2) Կալիմանտան
- 3) Սումատրա
- 4) Ճավա

14

Ո՞ր պնդումն է ճիշտ.

- 1) Երկրագնդի վրա առանձնացնում են մթնոլորտային ցածր ճնշման չորս և բարձր ճնշման երեք գոտի:
- 2) Մթնոլորտային ճնշման գոտիների դիրքն ամբողջ տարվա ընթացքում անփոփոխ է:
- 3) Հասարակածային շրջաններում մթնոլորտային ճնշումը միշտ բարձր է:
- 4) Մթնոլորտային բարձր ճնշման գոտիներում տեղումները սակավ են, ցածր ճնշման գոտիներում՝ առատ:

15

Ո՞ր պնդումն է ճիշտ.

- 1) Լոնդոնը առաջին ժամային գոտում է:
- 2) Դեկտեմբերի 22-ի կեսօրին Արեգակի ճառագայթներն ուղղահայաց ընկնում են հվ. լ. 23° 30՛-ի վրա:
- 3) Երկրագունդը միջօրեականներով բաժանված է 15 ժամային գոտիների:
- 4) Դեկտեմբերի 22-ը ձմեռային գիշերահավասարի օրն է:

16

«Գետ — աշխարհամաս» գույգերից ընտրել ճիշտը.

- 1) Ռիոն — Ասիա
- 2) Հոենոս — Ասիա
- 3) Պո — Աֆրիկա
- 4) Լուար — Ամերիկա

17

Նիագարա գետով իրար կապված լճեր են.

- 1) Միչիգանը և Հուրոնը
- 2) Էրին և Օնտարիոն
- 3) Հուրոնը և Էրին
- 4) Օնտարիոն և Հուրոնը

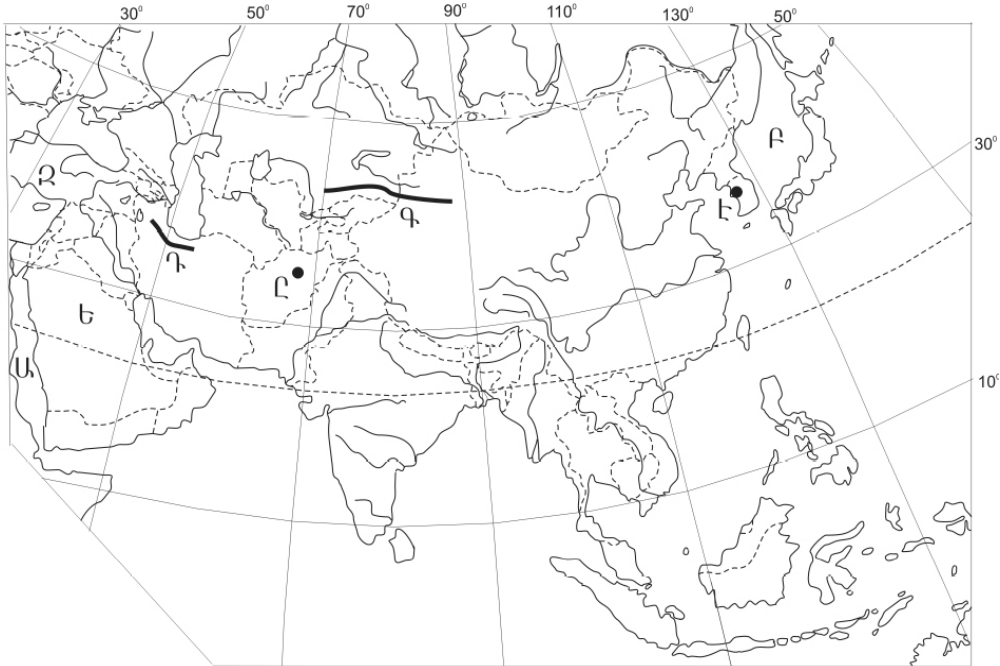
18

«Հարթավայր — դրա տարածքով հոսող գետ» գույգերից ո՞րն է ճիշտը.

- 1) Մեծ հարթավայրեր — Սուրբ Լավրենտիոս
- 2) Մերձատլանտյան դաշտավայր — Մակենզի
- 3) Մերձմեքսիկական դաշտավայր — Միսիսիպի
- 4) Կենտրոնական հարթավայր — Յուկոն

19 Ո՞ր լեռներն են քարտեզում նշված Գ տառով.

- 1) Հինդուկուշի
- 2) Էլբուրսի
- 3) Տյան Շանի
- 4) Կովկասի



20 Ո՞ր մայրաքաղաքն է քարտեզում նշված Է տառով.

- 1) Դելի
- 2) Սեուլ
- 3) Տոկիո
- 4) Փհենյան

21 Ո՞ր պնդումն է ճիշտ.

- 1) Միգրացիայի պատճառ կարող է դառնալ բնական և տեխնադին աղետների հետևանքով էկոլոգիական իրավիճակի վատթարացումը:
- 2) Երկրի բնակչության թվաքանակը փոխվում է ներքին միգրացիայի շնորհիվ:
- 3) Ներկայումս արտաքին միգրացիայի հիմնական պատճառը կրոնականն է:
- 4) Միգրացիայի ինտենսիվությունը առավել բարձր է ծերերի և կանանց շրջանում:

22

Հասարակության զարգացման մեջ քաղաքների դերի մեծացման պատմական գործընթացը, որն արտահայտվում է բնակչության ընդհանուր թվում քաղաքային բնակչության տեսակարար կշռի ավելացմամբ և քաղաքային ապրելակերպի տարածմամբ, կոչվում է.

- 1) դեպոպուլյացիա
- 2) ուրբանիզացիա
- 3) ագլոմերացիա
- 4) միգրացիա

23

Բնութագրումով որոշել երկիրը.

Տարածքի մեծությամբ և բնակչության թվով Եվրոպայում խոշոր երկրներից է: Հարուստ է քարածխի և երկաթաքարի պաշարներով: Բնակչությունը բնութագրվում է ցածր բնական աճով: Բնակչության թվով երկրորդ ազգը ռուսներն են: Երկրի տնտեսության զարգացման համար կարևոր նշանակություն ունի Սև ծովի ափին տեղակայված լինելը: Ո՞րն է այդ երկիրը.

- 1) Լեհաստանը
- 2) Ուկրաինան
- 3) Բելառուսը
- 4) Գերմանիան

24

Երկրի բնակչության թիվը կազմում է 365 600 մարդ, ծնելիության գործակիցը՝ 5 ‰: Ծնվածների բացարձակ թիվը կկազմի.

- 1) 2028 մարդ
- 2) 1828 մարդ
- 3) 1628 մարդ
- 4) 1980 մարդ

25

Ո՞ր պնդումն է սխալ.

- 1) Բնակչության վերարտադրության երկրորդ տիպի երկրներին բնորոշ է ցածր ծնելիությունը, բարձր մահացությունը և ցածր բնական աճը:
- 2) Բնակչության վերարտադրության երկրորդ տիպին են պատկանում Ասիայի, Աֆրիկայի և Լատինական Ամերիկայի երկրները:
- 3) «Ժողովրդագրական ճգնաժամը» բնորոշ է զարգացած երկրներին:
- 4) Բնակչության ծնելիությունն ու մահացությունը հաշվում են տոկոսով կամ պրոմիլներով:

26

Ընտրել «պետություն — մայրաքաղաք» համապատասխանության ճիշտ շարքը.

- | | |
|------------------------------------|--------------|
| 1) Սիրիա | ա. Աբու Դաբի |
| 2) Հորդանան | բ. Մասկատ |
| 3) Արաբական Միացյալ Էմիրություններ | գ. Դամասկոս |
| 4) Օման | դ. Ամման |
- 1) 1-դ, 2-բ, 3-ա, 4-գ
 2) 1-բ, 2-ա, 3-դ, 4-գ
 3) 1-գ, 2-դ, 3-ա, 4-բ
 4) 1-ա, 2-գ, 3-բ, 4-դ

27

«Արտադրանք — արդյունաբերության ճյուղ» գույգերից ընտրել ճիշտը.

- 1) սինթետիկ մանրաթել — թեթև արդյունաբերություն
- 2) հաստոց — մետաղաձուլություն
- 3) պլաստմասսա — մեքենաշինություն
- 4) տրիկոտաժ — թեթև արդյունաբերություն

28

Արևելյան Եվրոպա տարածաշրջանի վերաբերյալ ո՞ր պնդումն է ճիշտ.

- 1) Էլեկտրաէներգետիկայի գերակշիռ մասը տալիս են ջրային էլեկտրակայանները:
- 2) Երկրներին բնորոշ է բնակչության վերարտադրության երկրորդ տիպը:
- 3) Տարածաշրջանում մեծ թիվ են կազմում սլավոնական ժողովուրդները:
- 4) Երկրների մեծ մասի տնտեսությունը հետարդյունաբերական զարգացման փուլում է:

29

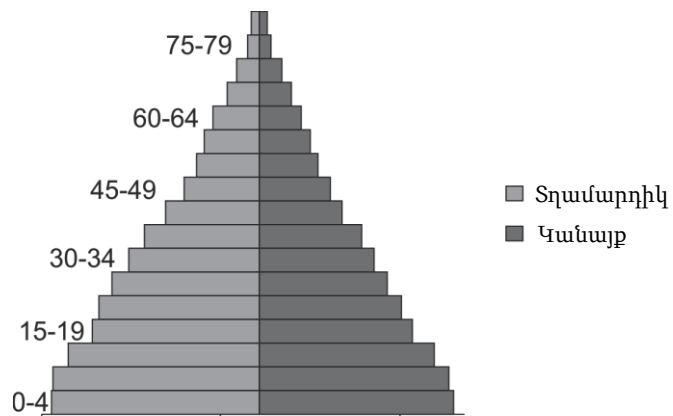
Բնակչության բացարձակ թվի նվազումը (ապարնակեցումը) առավելապես բնորոշ է.

- 1) Թուրքմենստանին և Ուզբեկստանին
- 2) Ղազախստանին և Իրանին
- 3) Ավստրալիային և Ճապոնիային
- 4) Ռուսաստանին և Ուկրաինային

30

Մեռատարիքային բուրգը բնորոշ է.

- 1) Հնդկաստանին
- 2) Ֆրանսիային
- 3) ԱՄՆ-ին
- 4) Բելգիային



31

Ո՞ր պնդումն է ճիշտ.

- 1) Մեքենաշինության նյութատար ճյուղեր են ռադիոէլեկտրոնիկան, ճշգրիտ մեքենաների արտադրությունը:
- 2) Չարգացող երկրներում զարգացած են մեքենաշինության գիտատար ճյուղերը:
- 3) Չարգացած երկրների մեքենաշինության առաջատար ճյուղը գյուղատնտեսական մեքենաշինությունն է:
- 4) ԱՄՆ-ի Կալիֆոռնիա նահանգում տեղեկատվական տեխնոլոգիական բարդ սարքավորումների արտադրությունները կենտրոնացած են Սթենֆորդի համալսարանի շուրջը:

32

Ընտրել «մշակաբույս — բուսաբուծության ճյուղ» համապատասխանության ճիշտ շարքը.

- | | |
|------------|-----------------------|
| 1) ծխախոտ | ա. հացահատիկային |
| 2) գարի | բ. տեխնիկական |
| 3) վարունգ | գ. այգեգործություն |
| 4) խնձոր | դ. բանջարաբուստանային |
- 1) 1-բ, 2-ա, 3-դ, 4-գ
 - 2) 1-բ, 2-գ, 3-ա, 4-դ
 - 3) 1-ա, 2-գ, 3-դ, 4-բ
 - 4) 1-գ, 2-ա, 3-բ, 4-դ

33

Ո՞ր պնդումն է ճիշտ.

- 1) Հայկական լեռնաշխարհի հարավային մասում ձգվում է Հայկական պար լեռնաշղթան:
- 2) Հայկական լեռնաշխարհի հարավային մասում՝ Միջագետքի հարևանությամբ, ձգվում է Ներքին Տավրոսի լեռնային համակարգը:
- 3) Հայկական լեռնաշխարհին արևելքից սահմանակցում է Արաբական սարահարթին:
- 4) Հայկական հրաբխային բարձրավանդակի կենտրոնական մասում վեր են խոյանում Արագած ու Գեղամա լեռնազանգվածները:

34

ՀՀ արդյունաբերության վերաբերյալ ո՞ր պնդումն է ճիշտ.

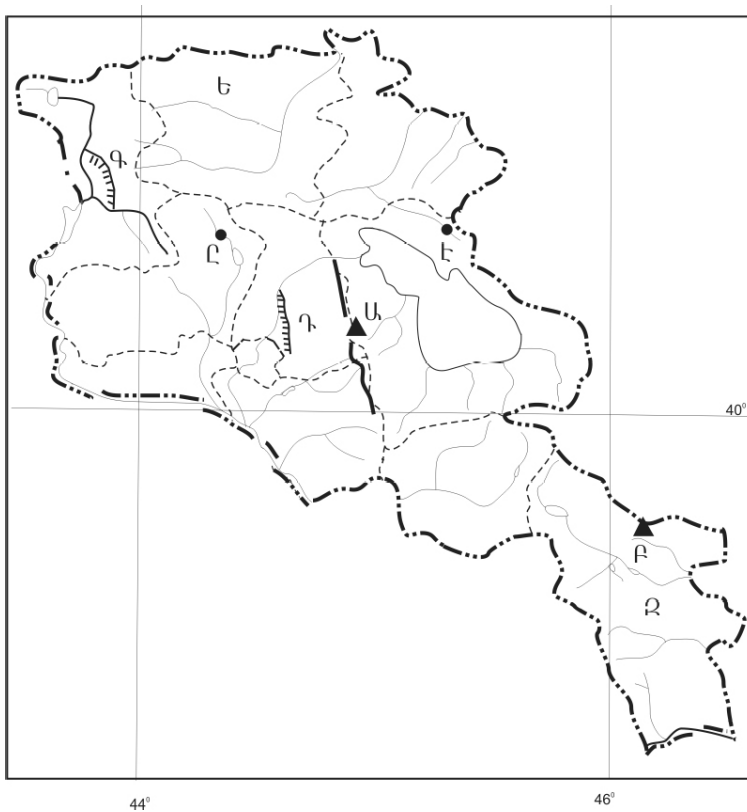
- 1) Այլումինի արդյունաբերության կենտրոնը Վանաձորն է:
- 2) ՀՀ մեքենաշինության տեղաբաշխումն ամբողջությամբ համընկնում է գունավոր մետաղաձուլության տեղաբաշխման հետ:
- 3) ՀՀ էլեկտրակայանների հզորության կառուցվածքում առավել մեծ բաժին ունեն ջեկերը:
- 4) Քիմիական արդյունաբերության խոշոր կենտրոններ են Արմավիր և Գյումրի քաղաքները:

35 Սյունիքի մարզը սահմանակից չէ:

- 1) Թուրքիային
- 2) Ադրբեջանին
- 3) Իրանին
- 4) Վայոց ձորի մարզին

36 Ո՞ր ջրանցքն է քարտեզում նշված Գ տառով:

- 1) Կոտայքի
- 2) Լոռու
- 3) Շիրակի
- 4) Նալբանդի



37 Ո՞ր քաղաքն է քարտեզում նշված Է տառով:

- 1) Իջևան
- 2) Սևան
- 3) Ճամբարակ
- 4) Դիլիջան

38

Ո՞ր շարքի բոլոր երկրներն են հարուստ նավթի պաշարներով.

- 1) Ռուսաստան, Ադրբեջան, Բելառուս
- 2) Քուվեյթ, Իրաք, Վենեսուելա
- 3) Սաուդյան Արաբիա, Իտալիա, Ուկրաինա
- 4) Իրան, Ճապոնիա, Ինդոնեզիա

39

Տրվածներից ո՞րը մթնոլորտի աղտոտման բնածին աղբյուր չէ.

- 1) հրաբուխը
- 2) փոշեհողմը
- 3) ավտոմոբիլային տրանսպորտը
- 4) անտառային հրդեհը

40

Մթնոլորտում կախված վիճակում հանդես եկող պինդ և հեղուկ նյութերի մանր փոշեման մասնիկները կոչվում են.

- 1) ֆումարոլներ
- 2) աերոզոլներ
- 3) պեստիցիդներ
- 4) ֆենոլներ

41

Գրել այն լեռնային համակարգերի համարները, որոնք Եվրոպայում են.

- | | |
|---------------------|------------------------|
| 1) Տյան-Շանի լեռներ | 5) Ալթայի լեռներ |
| 2) Մեծ Կովկաս | 6) Սկանդինավյան լեռներ |
| 3) Պիրենեյներ | 7) Վերխոյանսկի լեռներ |
| 4) Հիմալայներ | 8) Կարպատներ |

42

Գրել այն երկրների համարները, որտեղ արտադրվող էլեկտրաէներգիայի գերակշիռ մասը բաժին է ընկնում ատոմային էլեկտրակայաններին.

- | | |
|--------------|-------------|
| 1) Բրազիլիա | 5) Չինաստան |
| 2) Ռուսաստան | 6) Իրան |
| 3) Թուրքիա | 7) Ֆրանսիա |
| 4) Կանադա | 8) Ճապոնիա |

43

Գրել Հայկական լեռնաշխարհի հրաբխային գագաթների համարները.

- | | |
|--------------------|-------------|
| 1) Ծղուկ | 5) Նեմրուֆ |
| 2) Կաչկար (Քաջքար) | 6) Արամազդ |
| 3) Սուկավետ | 7) Գոմշասար |
| 4) Սիփան | 8) Թեժլեռ |

44

Տրված տրանսպորտի տեսակները դասավորել համաշխարհային բեռնաշրջանառության կառուցվածքում ունեցած կշռի նվազման կարգով.

- 1) ծովային
- 2) խողովակաշարային
- 3) ավտոմոբիլային
- 4) երկաթուղային

45

ՀՀ գյուղական բնակավայրերի վերաբերյալ տրված պնդումներից որո՞նք են ճիշտ, որո՞նք՝ սխալ.

- 1) Սյունիքի և Լոռու մարզերում գյուղական բնակչության տեսակարար կշիռը բարձր է:
- 2) Բարձրլեռնային գոտու գյուղական բնակավայրերի ցանցը նոսրացել է:
- 3) Գյուղական բնակավայրերի միջին մարդաշատությունը մեծացել է:
- 4) Սյունիքի և Արագածոտնի մարզերում տիրապետողը գյուղական համատարած տարաբնակեցումն է:
- 5) Ամենաբարձրադիր գյուղը Վերին Շորժան է՝ Գեղարքունիքի մարզում:
- 6) Արմավիրի և Արարատի մարզերում գյուղական բնակչության տեսակարար կշիռը ցածր է:

Բ մակարդակ

46 Երևան (արլ. ե. $44^{\circ} 30'$) և Իրկուտսկ (արլ. ե. 105°) քաղաքների գոտիական ժամանակների տարբերությունը կլինի.

- 1) 4 ժամ
- 2) 1 ժամ
- 3) 2 ժամ
- 4) 3 ժամ

47 Ո՞ր պնդումն է ճիշտ.

- 1) Երկրի մակերևույթի բոլոր անհարթությունների ամբողջությունը կոչվում է ռելիեֆ:
- 2) Ջուգահեռականները հատակագծի կամ քարտեզի՝ տեղանքի հավասար բացարձակ բարձրություն ունեցող կետերը միացնող գծերն են:
- 3) Բացարձակ բարձրությունը ցույց է տալիս, թե Երկրի մակերևույթի որևէ կետ որքանով է բարձր մեկ այլ կետից:
- 4) Երկրագնդի ամենամեծ բացարձակ խորությունն ունեցող կետը Ատլանտյան օվկիանոսում է:

48 Ո՞ր շարքի գետերն են հոսում արևմուտքից արևելք ուղղությամբ.

- 1) Օբ, Լենա, Վոլգա
- 2) Ինդոս, Մեկոնգ, Տիգրիս
- 3) Դնեպր, Իրավադի, Ենիսեյ
- 4) Դանուբ, Ամուր, Յանցզի

49 Ո՞ր պնդումն է սխալ.

- 1) Արևադարձային գոտիներում օդը կատարում է վարընթաց շարժում:
- 2) Երկրագնդի վրա օդը մշտապես շարժվում է բարձր ճնշման գոտուց դեպի ցածր ճնշման գոտի:
- 3) Վարընթաց շարժում կատարող օդը հագնում է և առաջացնում առատ տեղումներ:
- 4) Մթնոլորտային ճնշման գոտիների առաջացման պատճառը Երկրի վրա ջերմության անհավասարաչափ բաշխումն է:

50 Ո՞րն է բնության բաղադրիչների ճիշտ գուգորդությունը.

- 1) տափաստան — մոխրագորշ հող — փետրախոտ, սիզախոտ
- 2) տայգա — պողգոլային հող — եղևնի, սոճի
- 3) տունդրա — կմախքային հող — լորենի, հացենի
- 4) անապատ — սևահող — օշինդր, ուղտափուշ

51

«Սահմանակից երկրներ — լեռներ» գուգորդումներից ընտրել ճիշտը.

- 1) Լեհաստան — Չեխիա — Ալպեր
- 2) Ֆրանսիա — Իսպանիա — Պիրենեյներ
- 3) Ուկրաինա — Ռուսաստան — Կարպատներ
- 4) Թուրքիա — Իրան — Պոնտական

52

Ո՞ր պնդումն է ճիշտ.

- 1) Ռուսները պատկանում են հնդեվրոպական լեզվաընտանիքի ռոմանական լեզվախմբին:
- 2) Աշխարհի լեզուները միավորվում են 50 խոշոր լեզվաընտանիքների մեջ:
- 3) Արևմտյան Եվրոպայի երկրներն աչքի են ընկնում բնակչության բարձր բնական աճով:
- 4) Նեգրոիդ և եվրոպեոիդ ռասաների խառնածինները կոչվում են մուլատներ:

53

«Երկիր — նավահանգիստ» գույգերից ընտրել *սխալը*.

- 1) Ռուսաստան — Մուրմանսկ
- 2) Ֆրանսիա — Մարսել
- 3) Բելգիա — Ռոտերդամ
- 4) Գերմանիա — Համբուրգ

54

Հնդկաստանի վերաբերյալ ո՞ր պնդումն է ճիշտ.

- 1) Արդյունաբերության առաջատար ճյուղերից է սև մետաղաձուլությունը:
- 2) Քարածխի պաշարներով աշխարհում առաջինն է:
- 3) Էլեկտրաէներգիայի գերակշիռ մասը արտադրվում է ջրէկներում:
- 4) Հանքային հումքի բացակայության պատճառով արդյունաբերության կառուցվածքում բացակայում է քիմիական արդյունաբերությունը:

55

Բնութագրումով որոշել պետությունը.

«Մեծ յոթնյակ»-ի անդամ այս պետությունն ըստ պետական կարգի խորհրդարանական հանրապետություն է: Հարուստ է մարմարի ու սնդիկի պաշարներով: Երկրում բարձր է ուրբանիզացման մակարդակը, սակայն ի տարբերություն այլ եվրոպական երկրների՝ այստեղ շատ չեն խոշորագույն քաղաքները: Ո՞րն է այդ երկիրը.

- 1) Մեծ Բրիտանիան
- 2) Իտալիան
- 3) Ֆրանսիան
- 4) Գերմանիան

56 **ՀՀ լեռնագրության վերաբերյալ ո՞ր պնդումն է ճիշտ.**

- 1) Ուրծի լեռնաշղթայից սկսվում և դեպի արևելք տարածվում են Բարգուշատի և Ջանգեզուրի լեռնաշղթաները:
- 2) Սևանա լիճը եզրավորված է միայն ծալքաբեկորավոր լեռներով:
- 3) ՀՀ ամենաբարձր ծալքաբեկորավոր լեռնագագաթը Կապուտջուղն է:
- 4) Աշոցքի սարահարթում են Ծղուկ և Մեծ Իշխանասար գագաթները:

57 **Տավուշի մարզի հյուսիսի ցածրադիր հովիտներում կլիման.**

- 1) չոր և խիստ ցամաքային է
- 2) չոր մերձարևադարձային է
- 3) բարեխառն լեռնային է
- 4) չափավոր ցամաքային է

58 **Արարատի մարզում արդյունաբերության ո՞ր ենթաճյուղը զարգացած չէ.**

- 1) մսի
- 2) գինու-կոնյակի
- 3) պահածոների
- 4) ցեմենտի

59 **Ի՞նչն է ընդհանուր Սյունիքի և Վայոց ձորի մարզերի համար.**

- 1) Արդյունաբերության մասնագիտացման ճյուղ է գունավոր մետաղաձուլությունը:
- 2) Արդյունաբերության մասնագիտացման ճյուղերից է հանքային ջրերի արտադրությունը:
- 3) Գերակշռում են անտառային լանդշաֆտները:
- 4) Սահմանակից են Նախիջևանի Հանրապետությանը:

60 **Խաղողագործական շրջան չէ.**

- 1) Շիրակի դաշտը
- 2) Սյունիքի հարավը
- 3) Արարատյան դաշտը
- 4) Արփայի հովիտը

61 **Տրված պետությունները դասավորել բրնձի համախառն բերքի աճման կարգով.**

- 1) Չինաստան
- 2) Ինդոնեզիա
- 3) Հնդկաստան
- 4) Բանգլադեշ

62

Գրել այն երկրների համարները, որոնք կառավարման ձևով բացարձակ միապետություններ են.

- | | |
|--------------------|-------------|
| 1) Սաուդյան Արաբիա | 5) Նորվեգիա |
| 2) Ճապոնիա | 6) Շվեդիա |
| 3) Իսպանիա | 7) Օման |
| 4) Նիդերլանդներ | 8) Դանիա |

63

Գրել երկաթաքարի հանքավայրերի համարները.

- | | |
|------------------------|--------------|
| 1) Աբովյանի (Կապուտան) | 5) Քաջարանի |
| 2) Քաջարանի | 6) Հրազդանի |
| 3) Մեղրու (Շվանիձոր) | 7) Մեղրաձորի |
| 4) Ալավերդու | 8) Սվարանցի |

64

Գրել Արևմտյան Եփրատի հովտում ընկած դաշտերի համարները.

- | | |
|--------------|--------------|
| 1) Բասենի | 5) Շիրակի |
| 2) Կարնո | 6) Արարատյան |
| 3) Մշո | 7) Երզնկայի |
| 4) Ալաշկերտի | 8) Մասրիկի |

65

Երկրի գետային տրանսպորտով տարեկան փոխադրվում է 9 մլն տ բեռ, իսկ բեռնաշրջանառությունը կազմում է 630 մլն տ•կմ: Որքա՞ն է բեռների փոխադրման միջին հեռավորությունը:

(66-67) Լեռան ստորոտին մթնոլորտային ճնշումը 500 մմ է, իսկ օդի ջերմաստիճանը՝ 25⁰: Լեռան գագաթին օդի ջերմաստիճանը +13⁰ է (հաշվարկը կատարել 6⁰-ով):

66 Որոշել Լեռան հարաբերական բարձրությունը:

67 Որոշել մթնոլորտային ճնշումը Լեռան գագաթին:

(68-69) Երկրի բնակչության թիվը 4 մլն է, բնական աճի գործակիցը՝ 15 ‰: Տարվա ընթացքում ներգաղթը կազմել է 14 000 մարդ, արտագաղթը՝ 6 000 մարդ:

68 Որոշել բնակչության բացարձակ բնական աճը:

69 Որոշել բնակչության մեխանիկական աճը:

Հյուսիսային Ամերիկայի վերաբերյալ տրված պնդումներից որո՞նք են ճիշտ, որո՞նք՝ սխալ.

- 1) Մեծ ավազան սարահարթում տարածվում է կիսանապատային լանդշաֆտը:
- 2) Հյուսիսամերիկյան պլատֆորմի բյուրեղացած հիմքի մերկացած տեղամասերում առաջացել է Կոորդիլիերների լեռնային համակարգը:
- 3) Ամբողջովին արևելյան կիսագնդում է:
- 4) Ատլանտյան օվկիանոսի Լաբրադորյան և Խաղաղ օվկիանոսի Կալիֆոռնիական սառը ծովային հոսանքներն առափնյա շրջաններում առաջացնում են կլիմայի չորություն և օդի ջերմաստիճանի նվազում:
- 5) Հյուսիսային մասի մակերևույթի ձևավորման վրա մեծ ազդեցություն են թողել սառցադաշտերը:
- 6) Լաբրադոր թերակղզում տունդրայի զոնայի հարավային սահմանը Ալյասկայի համեմատ ձգվում է բավականին հյուսիս: