

# ՄԻԱՄՆԱԿԱՆ ՔՆՆՈՒԹՅՈՒՆ

2014

## ՖԻԶԻԿԱ

### ԹԵՍՏ 1

Խմբի համարը

Նստարանի համարը

#### Հարգելի՛ դիմորդ

Խորհուրդ ենք տալիս առաջադրանքները կատարել ըստ հերթականության: Ուշադիր կարդացե՛ք յուրաքանչյուր առաջադրանքի պահանջը և պատասխանների առաջարկվող տարբերակները: Եթե Ձեզ չի հաջողվում որևէ առաջադրանքի անմիջապես պատասխանել, ժամանակը խնայելու նպատակով կարող եք այն բաց թողնել և դրան անդրադառնալ ավելի ուշ:

Ձեր առջև դրված թեստ-գրքույկի էջերի դատարկ մասերը ազատորեն կարող եք օգտագործել սևագրության համար: **Թեստ-գրքույկը չի ստուգվում: Ստուգվում է միայն պատասխանների ձևաթուղթը:**

Առաջադրանքները կատարելուց հետո չմոռանաք պատասխանները ուշադիր և խնամքով նշել պատասխանների ձևաթղթում: Պատասխանների ձևաթղթի ճիշտ լրացումից է կախված Ձեր քննական միավորի ճշտությունը:

**Ցանկանում ենք հաջողություն:**

## Ա ՄԱԿԱՐԴԱԿ

1 Ո՞ր մեծությունը չի փոխվում ուղղաձիծ հավասարաչափ շարժման ժամանակ:

- 1) Կոորդինատը:
- 2) Տեղափոխությունը:
- 3) Անցած ճանապարհը:
- 4) Արագությունը:

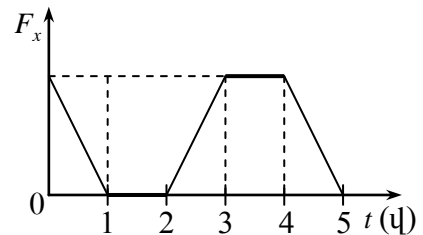
2 Աշտարակից առաջին մարմինը նետում են հորիզոնական ուղղությամբ  $v_0$  արագությամբ, միաժամանակ երկրորդ մարմինը պարզապես բաց են թողնում: Դրանցից ո՞րն ավելի շուտ կհասնի գետնին: Օդի դիմադրությունն անտեսել:

- 1) Առաջինը:
- 2) Երկրորդը:
- 3) Միաժամանակ:
- 4) Պատասխանը կախված է բարձրությունից:

3 Ինչպե՞ս է իրեն պահում մարմինը հաշվարկման իներցիալ համակարգում, եթե նրա վրա այլ մարմիններ չեն ազդում կամ դրանց ազդեցությունները համակշռված են:

- 1) Միշտ շարժվում է ուղղաձիծ և հավասարաչափ:
- 2) Միշտ գտնվում է դադարի վիճակում:
- 3) Կամ դադարի վիճակում է, կամ շարժվում է ուղղաձիծ հավասարաչափ:
- 4) Շարժվելով՝ ի վերջո կանգ է առնում:

4 X առանցքի ուղղությամբ մարմնի վրա դադարի վիճակում սկսում է ազդել ուժ, որի պրոյեկցիայի՝ ժամանակից կախված փոփոխությունը պատկերված է գրաֆիկում: Ժամանակի ո՞ր միջակայքերում է մարմնի արագության մոդուլը աճում:



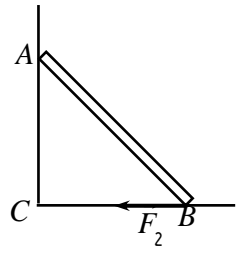
- 1) 0–1վ և 2–5վ միջակայքերում:
- 2) Միայն 2–3վ միջակայքում:
- 3) Միայն 2–4վ միջակայքում:
- 4) Միայն 3–5վ միջակայքում:

5 Որքա՞ն է  $a$  արագացումով շարժվող վերելակում կանգնած  $m$  զանգվածով մարդու  $P$  կշիռը, եթե վերելակի արագացման վեկտորն ուղղված է ուղղաձիգ դեպի վեր:

- 1)  $P = mg$ :
- 2)  $P = m(g - a)$ :
- 3)  $P = m(g + a)$ :
- 4)  $P = m(a - g)$ :

6

Որքա՞ն է պատին հենված սանդուղքի վրա հատակի կողմից ազդող  $\vec{F}_2$  շփման ուժի մոմենտը  $A$  կետով անցնող և  $BC$  նկարի հարթությանն ուղղահայաց առանցքի նկատմամբ:



- 1)  $F_2 \cdot BC$ :
- 2)  $F_2 \cdot AC$ :
- 3)  $F_2 \cdot AB$ :
- 4) 0:

7

Ինչպիսի՞ն է ուղղաձիգ թելից կախված գնդիկի հավասարակշռությունը:

- 1) Կայուն:
- 2) Անկայուն:
- 3) Անտարբեր:
- 4) Պատասխանը կախված է թելի երկարությունից:

8

Ո՞ր բանաձևով է որոշվում մակերևույթի  $S$  մակերեսին ուղղահայաց ազդող  $F$  ուժի զորձադրած ճնշումը:

- 1)  $p = \frac{F}{S}$ :
- 2)  $p = FS$ :
- 3)  $p = \frac{S}{F}$ :
- 4) Բոլոր պատասխանները սխալ են:

9

Մարմինը լողում է  $\rho_0$  խտությամբ հեղուկում այնպես, որ նրա ծավալի մեկ երրորդը հեղուկից դուրս է: Որքա՞ն է մարմնի խտությունը:

- 1)  $\rho_0/2$ :
- 2)  $\rho_0/3$ :
- 3)  $2\rho_0/3$ :
- 4)  $\rho_0$ :

10

Ո՞ր մեծությունն է կոչվում տատանումների պարբերություն:

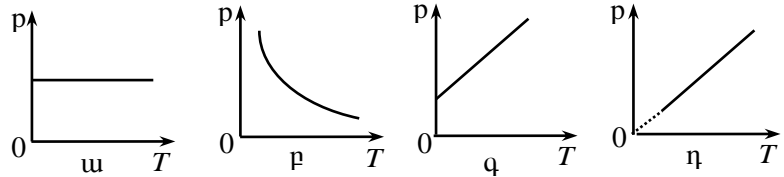
- 1) Մեկ տատանման ժամանակը:
- 2) Միավոր ժամանակում տատանումների թիվը:
- 3) Տատանումների մարման ժամանակը:
- 4) Մարմինը հավասարակշռության դիրքից շեղման ժամանակը:

11 Տրված է ալիքի հավասարումը՝  $y = 3\sin(5\pi - 4x)$ , որտեղ մեծություններն արտահայտված են ՄՀ-ի համապատասխան միավորներով: Որքա՞ն է տատանումների պարբերությունը:

- 1) 0,4 վ:
- 2)  $5\pi$  վ:
- 3)  $4\pi$  վ:
- 4) 3 վ:

12 Ո՞ր գրաֆիկն է համապատասխանում հաստատուն զանգվածով իդեալական գազի իզոխոր պրոցեսին:

- 1) ա:
- 2) բ:
- 3) գ:
- 4) դ:



13 Ո՞ր պրոցեսի դեպքում է հաստատուն զանգվածով իդեալական գազի ներքին էներգիան մնում հաստատուն:

- 1) Իզոբար սեղմման:
- 2) Իզոթերմ ընդարձակման:
- 3) Ադիաբատ սեղմման:
- 4) Ադիաբատ ընդարձակման:

14 Ո՞ր բանաձևով են հաշվում մարմնի ստացած ջերմաքանակը, եթե ագրեգատային վիճակը չի փոխվում:

- 1)  $Q = mc(t_2 - t_1)$ :
- 2)  $Q = mc(t_2 + t_1)$ :
- 3)  $Q = mq$ :
- 4)  $Q = mc \frac{t_1 + t_2}{2}$ :

15

Հաստատուն  $T$  ջերմաստիճանում  $m$  զանգվածով հեղուկին  $Q$  ջերմաքանակ հաղորդելիս այն փոխարկվեց գոլորշու: Ստորև բերված  $n$ -ր արտահայտությունն է որոշում հեղուկի շոգեգոյացման տեսակարար ջերմությունը:

- 1)  $\frac{Q}{m}$ :
- 2)  $\frac{Q}{mT}$ :
- 3)  $\frac{Q}{T}$ :
- 4)  $mQT$ :

16

Ջերմադինամիկայի առաջին օրենքը պնդում է, որ հնարավոր չէ ստեղծել I սեռի «հավերժական շարժիչ»: Ի՞նչ է նշանակում այս պնդումը:

- 1) Չի կարելի ստեղծել շարժիչ, որն աշխատի հավերժ, քանի որ բոլոր շարժիչները ժամանակի ընթացքում մաշվում են:
- 2) Հնարավոր չէ ստեղծել բոլոր ժամանակների համար ամենալավ շարժիչը, քանի որ գիտության զարգացմանը զուգընթաց կստեղծվեն ավելի լավ շարժիչներ:
- 3) Հնարավոր չէ ստեղծել մեքենա, որ հավերժ աշխատի՝ առանց էներգիա ստանալու:
- 4) Բնության մեջ և տեխնիկայում բոլոր շարժումները ժամանակի ընթացքում դադարում են:

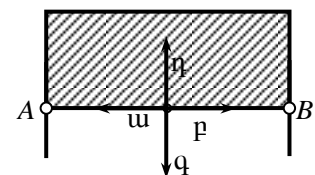
17

Մեկ ցիկլի ընթացքում ջերմային մեքենան ջեռուցչից ստանում է  $Q_1$  ջերմաքանակ և սառնարանին տալիս է  $Q_2$  ջերմաքանակ: Ո՞րն է ջերմային մեքենայի ՕԳԳ-ի ճիշտ բանաձևը:

- 1)  $\eta = \frac{Q_1}{|Q_2|}$ :
- 2)  $\eta = \frac{|Q_2|}{Q_1}$ :
- 3)  $\eta = 1 - \frac{Q_1}{|Q_2|}$ :
- 4)  $\eta = 1 - \frac{|Q_2|}{Q_1}$ :

18

Մետաղալարն ուղղանկյունաձև շրջանակի վրա ձգված է օճառաջրի թաղանթ: Ի՞նչ ուղղություն ունի AB շարժական մետաղալարի վրա ազդող թաղանթի մակերևութային լարվածության ուժը:



- 1) ա:
- 2) բ:
- 3) գ:
- 4) դ:

19

Մետաղալարից բեռ է կախված: Ինչպե՞ս կփոխվեն նրա բացարձակ և հարաբերական երկարացումները, եթե մետաղալարը կեսից ծալենք և նրանից կախենք նույն բեռը:

- 1) Երկուսն էլ կփոքրանան 2 անգամ:
- 2) Բացարձակ երկարացումը կփոքրանա 4 անգամ, իսկ հարաբերական երկարացումը՝ 2 անգամ:
- 3) Բացարձակ երկարացումը կփոքրանա 2 անգամ, իսկ հարաբերական երկարացումը՝ 4 անգամ:
- 4) Բացարձակ և հարաբերական երկարացումները չեն փոխվի:

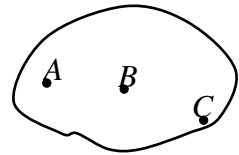
20

Ի՞նչ լիցքեր են ձեռք բերում միմյանց հետ շփման հետևանքով էլեկտրականացած երկու մարմինները:

- 1) Նշանով տարբեր, մոդուլով՝ հավասար:
- 2) Նույն նշանի, մոդուլով՝ տարբեր:
- 3) Լիցքերը նույնն են և՛ նշանով, և՛ մոդուլով:
- 4) Լիցքերը տարբեր են և՛ նշանով, և՛ մոդուլով:

21

Կամայական ձև ունեցող մետաղե մարմնին հաղորդել են  $q$  լիցք: Համեմատեք էլեկտրաստատիկ դաշտի լարվածության մոդուլները մարմնի ներսում՝  $A$ ,  $B$  և  $C$  կետերում:

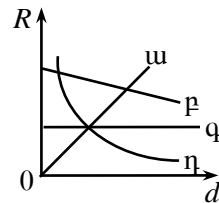


- 1)  $E_C < E_B < E_A$ :
- 2)  $E_A = E_B = E_C = 0$ :
- 3)  $E_A < E_B < E_C$ :
- 4)  $E_A = E_B > E_C$ :

22

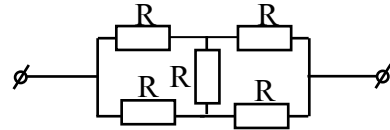
Ո՞ր գրաֆիկն է արտահայտում հաղորդչի դիմադրության կախումը նրա լայնական հատույթի տրամագծից:

- 1) ա:
- 2) բ:
- 3) գ:
- 4) դ:



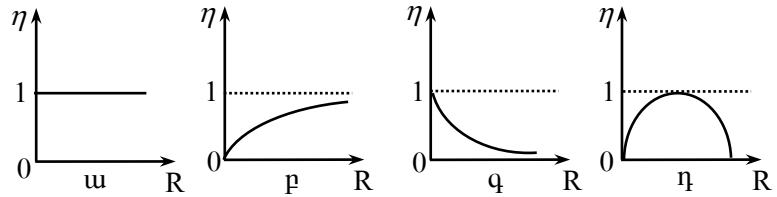
23 Որքա՞ն է նկարում պատկերված շղթայի տեղամասի ընդհանուր դիմադրությունը:

- 1)  $R$ :
- 2)  $2R$ :
- 3)  $3R$ :
- 4)  $5R$ :



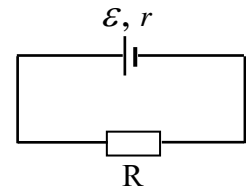
24 Ո՞ր գրաֆիկն է համապատասխանում  $r$  ներքին դիմադրությամբ հաստատուն հոսանքի աղբյուրով շղթայի ՕԳԳ-ի կախմանը արտաքին տեղամասի  $R$  դիմադրությունից:

- 1)  $w$ :
- 2)  $p$ :
- 3)  $q$ :
- 4)  $\eta$ :



25 Ի՞նչ է արտահայտում  $I\varepsilon$  մեծությունը նկարում պատկերված շղթայում:

- 1) Լարումը՝ հոսանքի աղբյուրի սեղմակներում:
- 2) Շղթայում անջատված լրիվ հզորությունը:
- 3) Շղթայի արտաքին տեղամասում անջատված հզորությունը:
- 4) Շղթայի ներքին տեղամասում անջատված հզորությունը:



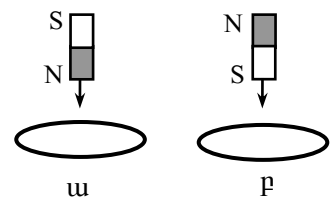
26 Որքա՞ն է նյութի էլեկտրաքիմիական համարժեքը, եթե էլեկտրոլիտով  $I$  հոսանք անցնելիս  $\Delta t$  ժամանակում էլեկտրոդի վրա անջատվում է այդ նյութի  $m$  զանգված:

- 1)  $\frac{m}{I\Delta t}$ :
- 2)  $\frac{I\Delta t}{m}$ :
- 3)  $\frac{I}{m\Delta t}$ :
- 4)  $\frac{m\Delta t}{I}$ :

27 Էլեկտրաստատիկ դաշտի լարվածության ի՞նչ արժեքի դեպքում տեղի կունենա գազի ինքնուրույն պարպում, եթե մոլեկուլների իոնացման էներգիան  $W$  է, իսկ ազատ վազքի միջին երկարությունը՝  $\lambda$  :

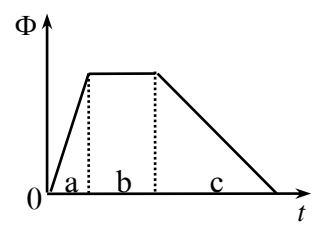
- 1)  $\frac{eW}{\lambda}$  :
- 2)  $\frac{W}{e\lambda}$  :
- 3)  $\frac{\lambda}{eW}$  :
- 4)  $eW\lambda$  :

28 Մի դեպքում հաստատուն մագնիսը մետաղե օղակի մեջ մտցնում են հյուսիսային բևեռով, մյուս դեպքում՝ հարավային բևեռով: Ո՞ր դեպքում օղակում կմակաձվի հոսանք:



- 1) ա դեպքում:
- 2) բ դեպքում:
- 3) Ոչ մի դեպքում:
- 4) Երկու դեպքում էլ:

29 Մետաղե շրջանակում մագնիսական հոսքը փոխվում է նկարում պատկերված օրինաչափությամբ: Ժամանակի  $n$ -ր միջակայքում է մակաձվում մոդուլով ամենամեծ էլԸՈւ-ն:



- 1) a միջակայքում:
- 2) b միջակայքում:
- 3) c միջակայքում:
- 4) Բոլոր միջակայքերում էլԸՈւ-ն ունի միևնույն արժեքը:

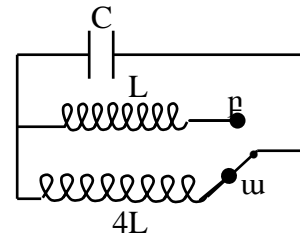
30 Ինչպե՞ս կփոխվի կոճի մագնիսական դաշտի էներգիան, եթե նրա մեջ հոսանքի ուժը մեծացնենք չորս անգամ:

- 1) Կմեծանա 4 անգամ:
- 2) Կփոքրանա 4 անգամ:
- 3) Կմեծանա 16 անգամ:
- 4) Կփոքրանա 16 անգամ:



31

Ինչպե՞ս կփոխվի կոնտուրում սեփական էլեկտրամագնիսական տատանումների հաճախությունը, երբ բանալին ա դիրքից տեղափոխենք բ դիրք:



- 1) Չի փոխվի:
- 2) Կմեծանա 2 անգամ:
- 3) Կփոքրանա 2 անգամ:
- 4) Կփոքրանա 4 անգամ:

32

100 Օմ դիմադրություն ունեցող հաղորդչի ծայրերին կիրառված է  $U = 200\sin(100\pi t)$  փոփոխական լարում: Ո՞րն է հոսանքի ուժի ակնթարթային արժեքի՝ ժամանակից կախումն արտահայտող բանաձևը:

- 1)  $i = 2\sin(100\pi t)$  :
- 2)  $i = 2$  :
- 3)  $i = 2\sin(\pi t)$  :
- 4)  $i = 2\cos(100\pi t)$  :

33

Ո՞րն է երկու միջավայրերի բաժանման սահմանին լույսի ճառագայթի անկման  $\alpha$  և բեկման  $\beta$  անկյունների միջև ճիշտ առնչությունը:

- 1)  $\frac{\sin \alpha}{\sin \beta} = const$  :
- 2)  $\frac{\sin \alpha}{\cos \beta} = const$  :
- 3)  $\frac{\cos \alpha}{\cos \beta} = const$  :
- 4)  $\frac{tg \alpha}{tg \beta} = const$  :

34

Չողի երկարությունը նրա հետ կապված հաշվարկման համակարգում  $l_0$  է: Որքա՞ն կլինի նրա երկարությունը հաշվարկման այն համակարգում, որի նկատմամբ ձողը շարժվում է իր երկայնքով ուղղված  $v$  արագությամբ:

- 1)  $l = l_0$  :
- 2)  $l = \frac{l_0}{\sqrt{1 - v^2/c^2}}$  :
- 3)  $l = l_0 \sqrt{1 - v^2/c^2}$  :
- 4)  $l = l_0 \sqrt{1 + v^2/c^2}$  :

35 Եթե էլեկտրամագնիսական ալիքի հաճախությունը փոքրանա երկու անգամ, ապա ինչպե՞ս կփոխվի ճառագայթման ֆոտոնի էներգիան:

- 1) Կմեծանա 2 անգամ:
- 2) Կփոքրանա 2 անգամ:
- 3) Կմեծանա 4 անգամ:
- 4) Կփոքրանա 4 անգամ:

36 Ո՞ր արտահայտությամբ կարելի է որոշել ֆոտոէլեկտրոնների առավելագույն արագությունը ( $U$  -ն կասեցնող լարումն է):

- 1)  $\sqrt{\frac{2eU}{m}}$  :
- 2)  $\sqrt{2eUm}$  :
- 3)  $\sqrt{\frac{m}{2eU}}$  :
- 4)  $\sqrt{\frac{eUm}{2}}$  :

37 Ինչո՞ւ Ռեզերֆորդի փորձերում  $\alpha$  -մասնիկների մեծ մասն ազատ անցնում է թիթեղի միջով՝ գործնականում չշեղվելով սկզբնական ուղղությունից:

- 1) Որովհետև ատոմի միջուկն ունի դրական լիցք:
- 2) Որովհետև էլեկտրոններն ունեն բացասական լիցք:
- 3) Որովհետև միջուկի չափերը շատ անգամ փոքր են ատոմի չափերից:
- 4) Որովհետև  $\alpha$  -մասնիկն ունի մեծ զանգված:

38 Որքա՞ն է ատոմի կլանած ֆոտոնի էներգիան, եթե էլեկտրոնը հիմնական  $E_1$  վիճակից անցնում է  $E_2$  գրգռված վիճակի:

- 1)  $E_1$  :
- 2)  $E_2$  :
- 3)  $E_2 - E_1$  :
- 4)  $E_1 - E_2$  :

39 Որքա՞ն է էլեկտրոնների թիվը ուրանի  ${}_{92}^{238}\text{U}$  միջուկում:

- 1) 92:
- 2) 238:
- 3) 0:
- 4) 146:

40 Ի՞նչ մասնիկ է առաջանում  ${}^1_7N + {}^4_2He \rightarrow {}^{17}_8O + ?$  միջուկային ռեակցիայի հետևանքով:

- 1) Էլեկտրոն:
- 2) Պրոտոն:
- 3) Նեյտրոն:
- 4)  $\alpha$ -մասնիկ:

41  $v_0$  արագությամբ շարժվող  $m$  զանգվածով գունդը բախվում է նույն զանգվածով անշարժ գնդին և նրա հետ շարժվում համատեղ: Հաստատե՞ք կամ ժխտե՞ք հետևյալ պնդումները:

1. Հարվածի հետևանքով համակարգի ընդհանուր իմպուլսը չի փոխվում:
2. Բախումից հետո գնդերը շարժվում են  $v_0/2$  արագությամբ:
3. Բախումից հետո համակարգի իմպուլսը  $2mv_0$  է:
4. Բախման արդյունքում համակարգի մեխանիկական էներգիան չի փոխվում:
5. Բախումից հետո համակարգի ընդհանուր կինետիկ էներգիան  $mv_0^2/4$  է:
6. Բախման հետևանքով սկզբնական կինետիկ էներգիայի կեսը փոխակերպվում է գնդերի ներքին էներգիայի:

42 Որքա՞ն էներգիա կպահանջվի  $27^\circ\text{C}$  ջերմաստիճանի 3 կգ կապարը հալելու համար: Կապարի հալման ջերմաստիճանը  $327^\circ\text{C}$  է, տեսակարար ջերմունակությունը՝ 130 Ջ/կգ·Կ է, իսկ հալման տեսակարար ջերմությունը՝  $25 \cdot 10^3$  Ջ/կգ է: Պատասխանը բազմապատկել  $10^{-3}$ -ով:

43 Որքա՞ն է մեկ րոպեում 15 Օմ դիմադրությամբ հաղորդչում անջատված ջերմաքանակը, եթե այդ ժամանակամիջոցում նրա միջով անցել է 10 Կլ լիցք:

44

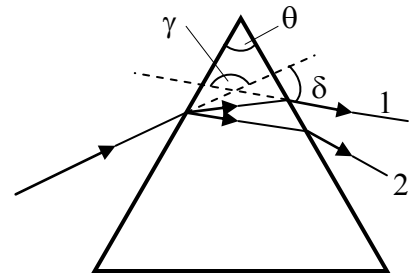
Ճառագայթի անկման անկյունը հարթ հայելու վրա  $25^{\circ}$  է: Որքա՞ն է ընկնող և անդրադարձած ճառագայթների կազմած անկյունը:

45

Ի՞նչ հաճախությամբ լույս պետք է ընկնի մետաղի մակերևույթին, որպեսզի ֆոտոէլեկտրոնների առավելագույն արագությունը լինի  $3 \cdot 10^6$  մ/վ: Այդ մետաղի ելքի աշխատանքը  $4,38 \cdot 10^{-19}$  Ջ է: Պլանկի հաստատունը  $6,6 \cdot 10^{-34}$  Ջվ է, էլեկտրոնի զանգվածը՝  $9 \cdot 10^{-31}$  կգ: Պատասխանը բազմապատկել  $10^{-14}$ -ով:

## Բ ՄԱԿԱՐԴԱԿ

46 Աշակերտը կարմիր և կապույտ լույսի երկու ճառագայթների նեղ փնջերը միևնույն ուղղի երկայնքով ուղղեց օդում գտնվող ապակե եռանկյուն պրիզմայի վրա, ինչպես ցույց է տրված նկ. 1-ում: Հաստատեք կամ ժխտեք հետևյալ պնդումները:



Նկ. 1

1. Պրիզմայի բեկող անկյունը  $\theta$ -ն է:
2. Պրիզման անցած ճառագայթներից կապույտը 1-ն է:
3. Կարմիր ճառագայթի շեղման անկյունը  $\delta$ -ն է:
4. Ճառագայթի շեղման անկյունը պրիզման անցնելիս կախված է պրիզմայի բեկող անկյունից:
5. Ճառագայթի շեղման անկյունը պրիզման անցնելիս կախված չէ պրիզմայի բեկման ցուցչից:
6. Ճառագայթի շեղման անկյունը պրիզման անցնելիս կախված չէ լույսի ալիքի երկարությունից:

(47-48) Երկու ավտոմեքենա ուղղագիծ ճամփեզրի լցակայանից միաժամանակ շարժվեցին հակառակ ուղղություններով: Նրանցից առաջինը շարժվում էր 54 կմ/ժ արագությամբ, իսկ երկրորդը՝ 36 կմ/ժ արագությամբ:

47 Որքա՞ն է առաջին ավտոմեքենայի արագության մոդուլը երկրորդ ավտոմեքենայի նկատմամբ:

48 Որքա՞ն կլինի ավտոմեքենաների միջև հեռավորությունը 4 ր անց:

(49-50) Մեկ ցիկլի ընթացքում ջերմային մեքենայի՝ սառնարանին տված ջերմաքանակը 2,7 կՋ է, իսկ մեքենայի ՕԳԳ-ն՝ 25 %:

49 Որքա՞ն ջերմաքանակ է ստանում մեքենան ջեռուցչից մեկ ցիկլի ընթացքում:

50 Որքա՞ն է մեկ ցիկլի ընթացքում մեքենայի կատարած աշխատանքը:

(51-52) Էլեկտրական դաշտի ազդեցությամբ էլեկտրոնը 120 Վ պոտենցիալ ունեցող կետից տեղափոխվում է 300 Վ պոտենցիալ ունեցող կետ: Էլեկտրոնի սկզբնական արագությունը զրո է: Էլեկտրոնի լիցքի մոդուլը  $1,6 \cdot 10^{-19}$  Կլ է, զանգվածը՝  $9 \cdot 10^{-31}$  կգ:

51 Որքա՞ն է էլեկտրոնի պոտենցիալ էներգիայի փոփոխության մոդուլը: Պատասխանը բազմապատկել  $10^{19}$ -ով:

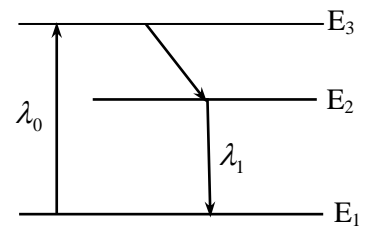
52 Որքա՞ն է էլեկտրոնի արագությունը տեղափոխության վերջում: Պատասխանը բազմապատկել  $10^6$ -ով:

(53-54) Լույսի ճառագայթը վակուումից անցնում է թափանցիկ դիէլեկտրիկի մեջ: Ճառագայթի անկման անկյունը  $45^\circ$  է: Դիէլեկտրիկի բեկման ցուցիչը  $\sqrt{2}$  է:

53 Որքա՞ն է ճառագայթի բեկման անկյունը:

54 Որքա՞ն է բեկման հետևանքով սկզբնական ուղղությունից ճառագայթի շեղման անկյունը:

(55-56) Լազերի աշխատանքի եռամակարդակ սխեման պատկերված է 2-րդ նկարում: Ատոմի գրգռման լույսի ալիքի երկարությունը՝  $\lambda_0 = 500$  նմ, իսկ հարկադրական ճառագայթման ալիքի երկարությունը՝  $\lambda_1 = 600$  նմ: Պլանկի հաստատունը  $6,6 \cdot 10^{-34}$  Ջվ է, վակուումում լույսի արագությունը՝  $3 \cdot 10^8$  մ/վ:



Նկ. 2

55 Որքա՞ն է գրգռված ( $E_3$ ) և մետաստաբիլ ( $E_2$ ) մակարդակների էներգիաների տարբերությունը: Պատասխանը բազմապատկել  $10^{21}$ -ով:

56 Որքա՞ն է լազերային ճառագայթման ֆոտոնի էներգիան: Պատասխանը բազմապատկել  $10^{20}$ -ով:

(57-59) Ինչ-որ մոլորակի վրա 0,45 մ երկարությամբ թելին ամրացված 1 կգ զանգվածով բեռը հորիզոնական հարթության մեջ 1,5 մ/վ արագությամբ հավասարաչափ պտտվում է շրջանագծով: Թելն ուղղաձիգի հետ կազմում է  $30^\circ$  անկյուն: Ընդունել՝  $\sqrt{3} = 1,7$ :

57 Որքա՞ն է բեռի կենտրոնաձիգ արագացումը:

58 Որքա՞ն է թելի լարման ուժը:

59 Այս տվյալներով որոշեք ազատ անկման արագացումն այդ մոլորակի վրա:

**(60-62) Էկրանին ստացվում է հավաքող բարակ սպանյակից որոշ հեռավորությանը տեղադրված առարկայի 2 անգամ խոշորացված պատկերը: Այնուհետև առարկան մոտեցնում են սպանյակին 0,1 մ-ով և, շարժելով էկրանը, նորից ստանում են առարկայի հստակ պատկերը՝ այս դեպքում 4 անգամ խոշորացված:**

60

Որքա՞ն է առարկայի հեռավորությունը սպանյակից առաջին դեպքում: Պատասխանը բազմապատկել 10- ով:

61

Որքա՞ն է սպանյակի կիզակետային հեռավորությունը: Պատասխանը բազմապատկել 10-ով:

62

Որքա՞ն է պատկերի հեռավորությունը սպանյակից երկրորդ դեպքում:



(63-66) Երկու ծայրերը գողված հորիզոնական խողովակը 0,1 կգ զանգվածով մխոցով բաժանված է երկու հավասար մասերի, որոնցից յուրաքանչյուրում գտնվում է գազ  $10^5$  Պա ճնշման տակ: Խողովակի երկարությունը 0,6 մ է, լայնական հատույթի մակերեսը՝  $2 \cdot 10^{-4}$  մ<sup>2</sup>: Խողովակը առանցքի երկայնքով հաստատուն արագացմամբ շարժում են ձախից աջ, որի հետևանքով մխոցը տեղաշարժվում է 0,1 մ-ով: Ջերմաստիճանը համարել հաստատուն: Մխոցի հաստությունը և խողովակի հետ մխոցի շփումն անտեսել: Ընդունել՝  $\sqrt{2} = 1,4$ :

63 Որքա՞ն է գազի ճնշումը խողովակի ձախ մասում, խողովակը շարժելու ընթացքում: Պատասխանը բազմապատկել  $10^{-4}$ -ով:

64 Որքա՞ն է գազի ճնշումը խողովակի աջ մասում, խողովակը շարժելու ընթացքում: Պատասխանը բազմապատկել  $10^{-3}$ -ով:

65 Որքա՞ն է խողովակի շարժման արագացումը:

66 Որքա՞ն կտեղաշարժվի մխոցը, եթե խողովակը շարժենք առանցքի երկայնքով  $200$  մ/վ<sup>2</sup> արագացմամբ: Պատասխանը բազմապատկել  $10^2$ -ով:

(67-70) Պրոտոնը  $10^5$  մ/վ արագությամբ ուղղահայաց մտնում է միևնույն ուղղությամբ ուղղված  $50$  Վ/մ լարվածությամբ էլեկտրական և  $0,1$  Տլ ինդուկցիայով մագնիսական դաշտերի տիրույթը: Պրոտոնի զանգվածն ընդունել  $1,6 \cdot 10^{-27}$  կգ, լիցքը՝  $1,6 \cdot 10^{-19}$  Կլ: Ընդունել՝  $\pi=3$ :

67 Որքա՞ն է մագնիսական դաշտի կողմից պրոտոնի վրա ազդող ուժը: Պատասխանը բազմապատկել  $10^{16}$ -ով:

68 Որքա՞ն է պարույրագծով պրոտոնի պտտման պարբերությունը: Պատասխանը բազմապատկել  $10^7$ -ով:

69 Որքա՞ն է էլեկտրական դաշտի կողմից պրոտոնին հաղորդված արագացումը: Պատասխանը բազմապատկել  $10^{-9}$ -ով:

70 Որքա՞ն է պարույրագծի երկրորդ քայլի երկարությունը: Պատասխանը բազմապատկել  $10^4$ -ով: