

ՄԻԱՄՆԱԿԱՆ ՔՆՆՈՒԹՅՈՒՆ

2014

ԱՇԽԱՐՀԱԳՐՈՒԹՅՈՒՆ

ԹԵՍՏ 4

Խմբի համարը

Նստարանի համարը

Հարգելի՛ դիմորդ

Խորհուրդ ենք տալիս առաջադրանքները կատարել ըստ հերթականության: Ուշադիր կարդացե՛ք յուրաքանչյուր առաջադրանքի պահանջը և պատասխանների առաջարկվող տարբերակները: Եթե Ձեզ չի հաջողվում որևէ առաջադրանքի անմիջապես պատասխանել, ժամանակը խնայելու նպատակով կարող եք այն բաց թողնել և դրան անդրադառնալ ավելի ուշ:

Ձեր առջև դրված թեստ-գրքույկի էջերի դատարկ մասերը ազատորեն կարող եք օգտագործել սևագրության համար: **Թեստ-գրքույկը չի ստուգվում: Ստուգվում է միայն պատասխանների ձևաթուղթը:**

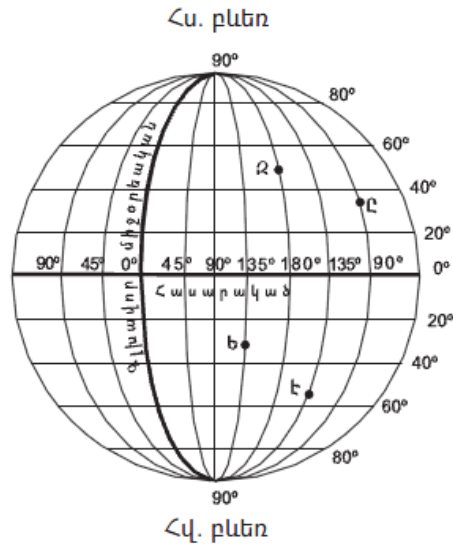
Առաջադրանքները կատարելուց հետո չմոռանաք պատասխանները ուշադիր և խնամքով նշել պատասխանների ձևաթղթում: Պատասխանների ձևաթղթի ճիշտ լրացումից է կախված Ձեր քննական միավորի ճշտությունը:

Ցանկանում ենք հաջողություն:

Ա Մակարդակ

1) Նկարում n° ը տառով է պատկերված արլ. ե. 135° միջօրեականը.

- 1) Ե
- 2) Է
- 3) Ը
- 4) Զ

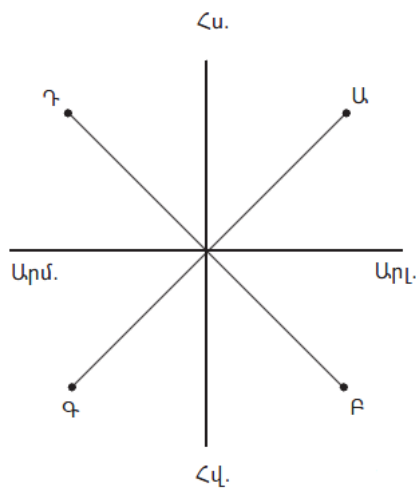


2) Եթե քարտեզի անվանական մասշտաբը 1 սմ–ում 50 կմ է, ապա դրա թվային մասշտաբը կլինի.

- 1) 1 : 50 000 000
- 2) 1 : 50 000
- 3) 1 : 500 000
- 4) 1 : 5 000 000

3) Նկարում \angle կետի ազիմուտը հավասար է.

- 1) 315°
- 2) 225°
- 3) 135°
- 4) 45°



4

Ո՞ր պնդումն է ճիշտ.

- 1) Մարտի 21-ին Արեգակի ճառագայթներն ուղղահայաց են ընկնում հասարակածի վրա:
- 2) Հունիսի 22-ի կեսօրին Արեգակը լինում է զենիթում հվ. լ. $23^\circ 30'$ գուգահեռականի վրա:
- 3) Դեկտեմբերի 22-ի կեսօրին Արեգակը լինում է զենիթում հս. լ. $23^\circ 30'$ գուգահեռականի վրա:
- 4) Սեպտեմբերի 23-ին Արեգակի ճառագայթներն ուղղահայաց են ընկնում հյուսիսային բևեռային շրջագծի վրա:

5

Երկրի խորքում բարձր ջերմաստիճանից ապարները վերածվում են գազերով ու ջրային գոլորշիներով հագեցած հրահեղուկ զանգվածի, որը կոչվում է.

- 1) խառնարան
- 2) մագմա
- 3) լավա
- 4) մդանցք

6

Օվկիանոսների հատակում տեղի ունեցող երկրաշարժերից առաջանում են կործանիչ ալիքներ, որոնք կոչվում են.

- 1) մակընթացություն
- 2) տեղատվություն
- 3) ցունամի
- 4) ցիկլոն

7

Բնութագրումով որոշել տեղումների տեսակը.

Այն առաջանում է Երկրի մակերևույթին՝ ջրային գոլորշիների շփումից: Գոյանում է տարվա տաք եղանակներին, պարզկա (անամպ) գիշերներին, անհողմ օրերին: Տեղումների ո՞ր տեսակն է.

- 1) կարկուտը
- 2) ցողը
- 3) եղյամը
- 4) անձրևը

8

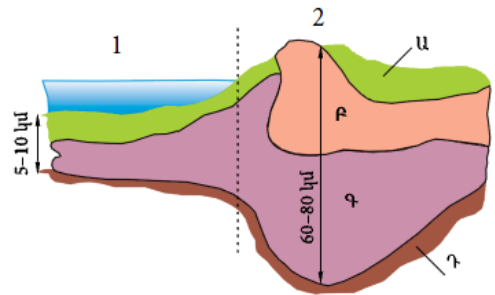
Երևան քաղաքում տարվա ընթացքում ըստ ամիսների ստացվել են միջին ամսական հետևյալ ջերմաստիճանները. $-4,5^{\circ}$, $-1,3^{\circ}$, $+5,4^{\circ}$, $+11,8^{\circ}$, $+17^{\circ}$, $+21,1^{\circ}$, $+25,1^{\circ}$, $+24,9^{\circ}$, $+20,1^{\circ}$, $+13,5^{\circ}$, $+6,2^{\circ}$, $-0,9^{\circ}$:
Ջերմաստիճանի տատանման տարեկան լայնույթը կկազմի.

- 1) $31,2^{\circ}$
- 2) $19,1^{\circ}$
- 3) $12,8^{\circ}$
- 4) $29,6^{\circ}$

9

Նկարում Դ տառով նշված է.

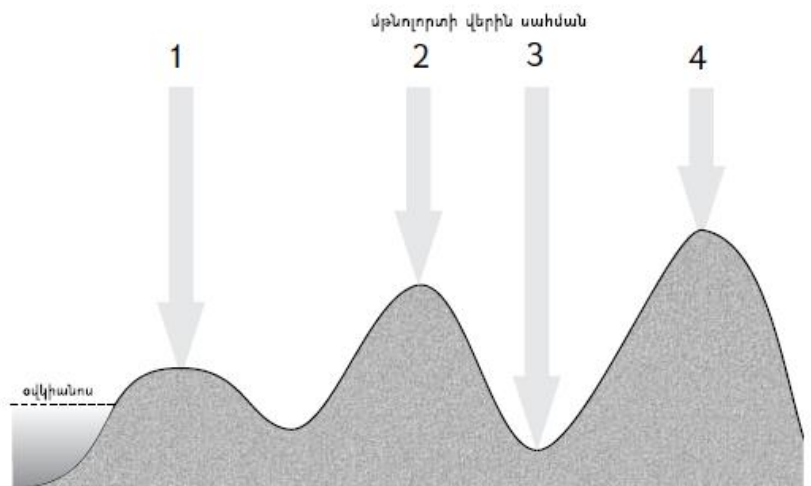
- 1) միջնապատյանը
- 2) նստվածքային շերտը
- 3) բազալտային շերտը
- 4) գրանիտային շերտը



10

Նկարում n^o թվով է նշված ամենացածր մթնոլորտային ճնշումը.

- 1) 4
- 2) 1
- 3) 2
- 4) 3



11

«Օռվածոց — օվկիանոս» գույգերից ընտրել ճիշտը.

- 1) Մեքսիկական — Ատլանտյան
- 2) Կալիֆոռնիական — Հնդկական
- 3) Մեծ ավստրալական — Հյուսիսային սառուցյալ
- 4) Պարսից — Խաղաղ

12

Տափաստանների զոնան բնորոշվում է.

- 1) սեզոնային կլիմայով, ամռանը թափանցող հասարակածային, իսկ ձմռանը՝ արևադարձային օդային զանգվածներով, բուսականության մեջ բարձրացողուն (2–3 մ) հացազգիների և ծառերի գերակշռությամբ
- 2) տարեկան ցածր ջերմաստիճաններով, քիչ տեղումներով, որոնք հիմնականում թափվում են ձյան տեսքով, ցածրահասակ բուսականությամբ
- 3) ցամաքային կլիմայով՝ տաք ու խոնավ ամառով, ցուրտ ձմեռով, հումուսով հարուստ (մինչև 8–12 %) սևահողերով
- 4) խիստ չոր ցամաքային կլիմայով, օրական և տարեկան ջերմաստիճանների մեծ տատանումներով, շատ աղքատ բուսականությամբ՝ չորադիմացկուն տեսակներով

13

Բնութագրումով որոշել գետը.

Եվրասիայի ամենաերկար ու ամենաջրառատ գետն է, ունի ամառային հորդացում: Ո՞ր գետն է.

- 1) Յանցզի
- 2) Ամուր
- 3) Հուանհե
- 4) Գանգես

14

Ո՞ր պնդումն է ճիշտ.

- 1) Աշխարհագրական լայնությունը Երկրի մակերևույթի որևէ կետի հեռավորությունն է հասարակածից՝ արտահայտված աստիճաններով:
- 2) Խոշոր մասշտաբի քարտեզների խմբի մեջ մտնում են 1 : 10 000 000–ից ավելի փոքր մասշտաբի քարտեզները:
- 3) Սկզբնական միջօրեականը Երկիրը բաժանում է հյուսիսային և հարավային կիսագնդերի:
- 4) Բոլոր զուգահեռականներն ունեն հավասար երկարություն:

15

Ո՞ր պնդումն է ճիշտ.

- 1) Արեգակից ստացվող ջերմությունը Երկրի վրա բաշխված է հավասարաչափ:
- 2) Արևադարձային լայնություններում հաստատվում է ցածր ճնշում:
- 3) Որքան փոքր է Արեգակի ճառագայթների անկման անկյունը, այնքան Երկրի մակերևույթը քիչ ջերմություն է ստանում:
- 4) Մթնոլորտային բարձր ճնշման գոտիներում առատ տեղումներ են թափվում:

16

«Գետ— ջրվեժ» գույգերից ընտրել սխալը.

- 1) Չուրուն — Անխել
- 2) Կոնգո — Լիվինգստոնի
- 3) Ամազոն — Իգուասու
- 4) Ջամբեզի— Վիկտորիա

17

«Մայրցամաք — թերակղզի» գույգերից ընտրել սխալը.

- 1) Ավստրալիա — Քեյփ Յորք
- 2) Աֆրիկա — Սոմալի
- 3) Եվրասիա — Ալյասկա
- 4) Հյուսիսային Ամերիկա — Ֆլորիդա

18

Կալիֆոռնիա թերակղզու կլիման.

- 1) արևադարձային անապատային է
- 2) խոնավ արևադարձային է
- 3) բարեխառն ցամաքային է
- 4) բարեխառն ծովային է

19

Քարտեզում Դ տառով ո՞ր գետն է նշված.

- 1) Ինդոս
- 2) Գանգես
- 3) Եփրատ
- 4) Տիգրիս



20

Քարտեզում Ջ տառով ո՞ր պետությունն է նշված.

- 1) Իրան
- 2) Ուզբեկստան
- 3) Աֆղանստան
- 4) Պակիստան

21

«Ժողովրդագրական պայթյունը».

- 1) բնակչության թվի կայունացումն է պարզ վերարտադրության պայմաններում
- 2) բնակչության թվի կտրուկ աճն է մահացության կրճատման հետևանքով
- 3) բնակչության թվի կայուն աճն է ընդլայնված վերարտադրության պայմաններում
- 4) բնակչության թվի կտրուկ նվազումն է ծնելիության կրճատման հետևանքով

22

Բնակչության վայրի ժամանակավոր կամ մշտական փոփոխության հետ կապված բնակչության տեղաշարժը կոչվում է.

- 1) բնակչության բնական շարժ
- 2) տարաբնակեցում
- 3) բնակչության միգրացիա
- 4) բնակչության տեղաբաշխում

23

Բնութագրումով որոշել պետությունը.

Այս պետությունը մեծ հետք է թողել մարդկային քաղաքակրթության մեջ և բացառիկ դեր ունի արարական աշխարհում: Տիպիկ անապատային երկիր է: Այստեղ է երկրագնդի ցամաքի ամենացածր վայրերից մեկը: Մայրաքաղաքն արարական աշխարհի խոշորագույն քաղաքն է: Պետությանը մեծ եկամուտ ապահովող բնագավառ է միջազգային զբոսաշրջությունը: Ո՞ր պետությունն է.

- 1) Լիբիան
- 2) Սիրիան
- 3) Եգիպտոսը
- 4) Սաուդյան Արաբիան

24

Երկրի բնակչության թիվը 4 մլն է, բնական աճը՝ 20 %: Բնակչության բացարձակ բնական աճը կկազմի.

- 1) 100 000 մարդ
- 2) 20 000 մարդ
- 3) 40 000 մարդ
- 4) 80 000 մարդ

25

Ընտրել «լեզվախումբ — ժողովուրդ» համապատասխանության ճիշտ շարքը.

- | | |
|---------------|------------------|
| 1. ռոմանական | ա. անգլիացիներ |
| 2. սլավոնական | բ. ֆրանսիացիներ |
| 3. գերմանական | գ. քրդեր |
| 4. իրանական | դ. ուկրաինացիներ |

- 1) 1-բ, 2-դ, 3-գ, 4-ա
- 2) 1-ա, 2-բ, 3-գ, 4-դ
- 3) 1-բ, 2-դ, 3-ա, 4-գ
- 4) 1-գ, 2-ա, 3-բ, 4-դ

26

Դեպի Կարմիր ծով անմիջական ելք *չունի*.

- 1) Սաուդյան Արաբիան
- 2) Եգիպտոսը
- 3) Եմենը
- 4) Օմանը

27

«Արտադրանք — արդյունաբերության ճյուղ» գույգերից ընտրել ճիշտը.

- 1) սինթետիկ մանրաթել — թեթև արդյունաբերություն
- 2) հաստոց — մետաղաձուլություն
- 3) պլաստմասսա — մեքենաշինություն
- 4) տրիկոտաժ — թեթև արդյունաբերություն

28

Թուրքիայի վերաբերյալ *ո՞ր* պնդումն է *սխալ*.

- 1) Թեթև արդյունաբերությունը երկրի արդյունաբերության ավանդական զարգացած ճյուղերից է:
- 2) Իսթենդերունը սև մետաղաձուլության խոշորագույն կենտրոնն է:
- 3) Երկրի քիմիական արդյունաբերությունն արտադրում է դեղագործական ապրանքների համաշխարհային արտադրանքի գերակշիռ մասը:
- 4) Էլեկտրաէներգիայի գերակշիռ մասն արտադրվում է ջեկերում:

29 «Կեղծ ուրբանիզացումն» առավել բնորոշ է.

- 1) Արգենտինային և Բրազիլիային
- 2) ԱՄՆ–ին և Կանադային
- 3) Ֆրանսիային և Շվեյցարիային
- 4) Ավստրալիային և Մեծ Բրիտանիային

30 Դեպի ծով ելք չունեն.

- 1) Ռումինիան և Ուկրաինան
- 2) Ավստրիան և Չեխիան
- 3) Ալժիրը և Պերուն
- 4) Բելգիան և Բուլղարիան

31 Ո՞ր պնդումն է ճիշտ.

- 1) Քիմիական արդյունաբերության գիտատար ճյուղերը տեղաբաշխված են զարգացող երկրներում:
- 2) Նավթի համաշխարհային պաշարների մոտ 9/10–ը կենտրոնացված է զարգացած երկրներում:
- 3) Էլեկտրաէներգիայի արտադրության կառուցվածքում ամենամեծ բաժինն ունեն ատոմային էլեկտրակայանները:
- 4) Էլեկտրաէներգիայի համաշխարհային արտադրության 4/5–ը բաժին է ընկնում զարգացած երկրներին:

32 Էներգետիկական հաշվեկշռում ջրէկների առավել մեծ բաժին ունեցող երկրներ են.

- 1) Գերմանիան և Ճապոնիան
- 2) Ուկրաինան և ԱՄՆ–ը
- 3) Նորվեգիան և Կանադան
- 4) Չինաստանը և Ֆրանսիան

33 Ո՞ր պնդումն է ճիշտ.

- 1) Բարգուշատի և Մեղրու լեռնաշղթաները մասնատված են Արփայի և Արաքսի գետահովիտներով:
- 2) Փամբակի և Ծաղկունյաց լեռները արտաքին շարի լեռներ են:
- 3) Գեղամա լեռնավահանը ճառագայթաձև մասնատվել է Գեղարոտի, Ամբերդի խոր հովիտներով:
- 4) Եղնախաղի լեռնավահանը ձգվում է Հայաստանի և Թուրքիայի պետական սահմանի ուղղությամբ:

34

ՀՀ քիմիական արդյունաբերության զարգացմանն առավելապես նպաստել է.

- 1) հանքային քիմիական հումքի խոշոր պաշարների առկայությունը
- 2) Ատոմային էլեկտրակայանի կառուցումը
- 3) արդյունաբերության բնապահպանական ուղղվածությունը
- 4) սև մետաղաձուլության թափոնների առկայությունը

35

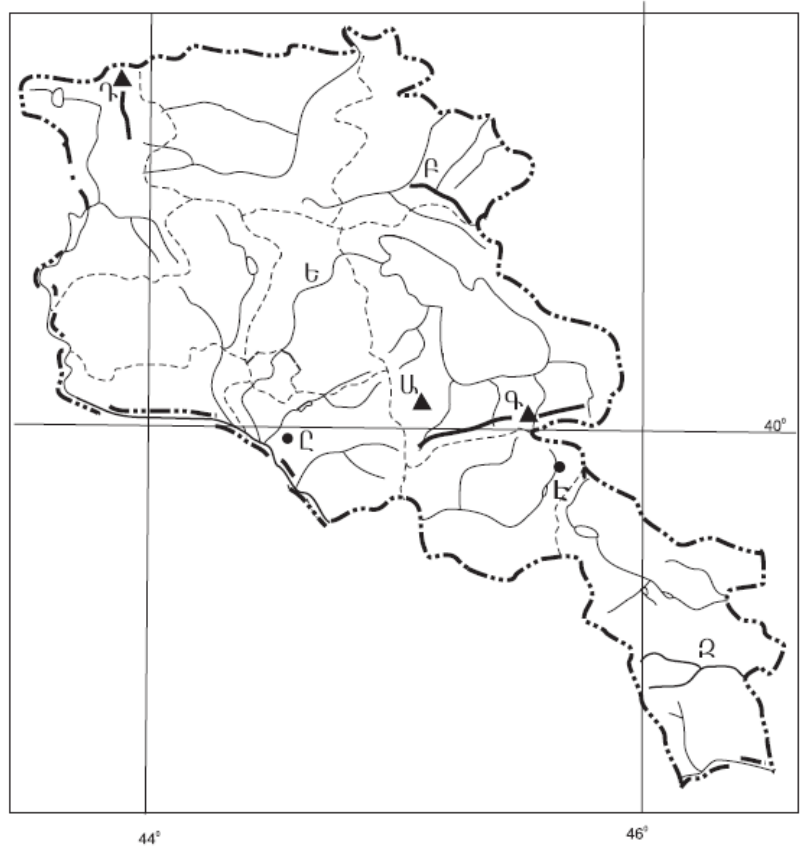
Լոռու մարզում բուսաբուծության ո՞ր ենթաճյուղը զարգացած չէ.

- 1) կարտոֆիլի մշակությունը
- 2) այգեգործությունը
- 3) ծխախոտի մշակությունը
- 4) հացահատիկի մշակությունը

36

Ո՞ր լեռնագագաթն է քարտեզում նշված *Դ* տառով.

- 1) Մեծ Եղնախաղ
- 2) Լավվար
- 3) Եզնասար
- 4) Աչքասար



37 **Ո՞ր քաղաքն է քարտեզում նշված Շ տառով.**

- 1) Արտաշատ
- 2) Մասիս
- 3) Վեդի
- 4) Արարատ

38 **Ածխի պաշարներով հարուստ երկրներ են.**

- 1) Ճապոնիան և Մոնղոլիան
- 2) Իրանը և Թուրքիան
- 3) Ֆրանսիան և Իսպանիան
- 4) Ռուսաստանը և Ուկրաինան

39 **Ջրավազաններն աղտոտող արհեստական նյութերից են.**

- 1) քիմիական պարարտանյութերը
- 2) հարթավայրային գետերով տեղափոխվող փայտանյութերը
- 3) ջրէկներում էներգետիկ նպատակներով օգտագործված ջրերը
- 4) ապարների քիմիական հողմահարման հետևանքով առաջացած նյութերը

40 **Բնության այն տարրերն ու երևույթները, որոնք անմիջապես չեն օգտագործվում և սպառվում արտադրության գործընթացի ընթացքում, բայց կարող են ազդեցություն ունենալ դրա վրա, կոչվում են.**

- 1) աշխատանքի միջոցներ
- 2) բնական ռեսուրսներ
- 3) արտադրողական ուժեր
- 4) բնական պայմաններ

41 **Գրել այն կղզիների և կղզեխմբերի համարները, որոնք Ատլանտյան օվկիանոսում և նրա ծովերում են.**

- | | |
|-------------------|----------------|
| 1) Կուրիլյան | 5) Շրի Լանկա |
| 2) Մոզամբիկ | 6) Ֆոլկլենդյան |
| 3) Իսլանդիա | 7) Սարդինիա |
| 4) Նյուֆաունդլենդ | 8) Ալեոյան |

42

Գրել այն լեզուների համարները, որոնք չեն մտնում սլավոնական լեզվախմբի մեջ.

- | | |
|----------------|---------------|
| 1) բուլղարերեն | 5) էստոներեն |
| 2) լեհերեն | 6) չեխերեն |
| 3) սերբերեն | 7) սլովակերեն |
| 4) շվեդերեն | 8) ռուսերեն |

43

Գրել Կուրի ավազանին պատկանող վտակների համարները.

- | | |
|-------------|--------------|
| 1) Դեբեդ | 5) Արփա |
| 2) Գետիկ | 6) Հրազդան |
| 3) Որոտան | 7) Խաչենագետ |
| 4) Սարմարիկ | 8) Փամբակ |

44

Տրված պետությունները դասավորել պողպատի արտադրության աճման կարգով.

- 1) ԱՄՆ
- 2) Չինաստան
- 3) Գերմանիա
- 4) Ճապոնիա

Եվրասիայի ներքին ջրերի վերաբերյալ տրված պնդումներից որո՞նք են ճիշտ, որո՞նք՝ սխալ.

- 1) Մեռյալ լճի ջրերն այնքան քաղցրահամ են, որ լճում բացակայում է կենդանական աշխարհը:
- 2) Եվրասիայի գետերը պատկանում են երեք օվկիանոսների ավազաններին և կենտրոնաասիական ներքին անհոսք ավազանին:
- 3) Խաղաղ օվկիանոսի ավազանին են պատկանում մայրցամաքի ամենաջրառատ գետերը:
- 4) Յանցզին, Հուանհեն, Մեկոնգը և Ամուրը հորդանում են ձմռանը:
- 5) Կենտրոնաասիական փակ, ներքին անհոսք ավազանին են պատկանում Վոլգա, Կուր և Արաքս գետերը:
- 6) Տեկտոնահրաբխային ծագման լճերից հայտնի են Վենեբնը և Վետերնը:

Բ Մակարդակ

46

Հաշվել երկու կետերի իրական հեռավորությունը, եթե նրանք միևնույն միջօրեականի վրա են և միմյանցից հեռացված են 8° .

- 1) 880 կմ
- 2) 858 կմ
- 3) 808 կմ
- 4) 888 կմ

47

Ի՞նչ բարձրության վրա օդի ջերմաստիճանը հավասար կլինի $+11^\circ$ -ի, եթե նույն պահին Արագածի գագաթին -4° է (յուրաքանչյուր 1000 մ-ին ջերմաստիճանի Փոփոխությունն ընդունել 5°).

- 1) 1000 մ
- 2) 1090 մ
- 3) 1900 մ
- 4) 1009 մ

48

Ո՞ր պնդումն է ճիշտ.

- 1) Օվկիանոսի հատակին տեղի ունեցող երկրաշարժից առաջացած ալիքը կոչվում է ցունամի:
- 2) Օվկիանոսի հատակի մինչև 200 մ խորության հատվածը կոչվում է մայրցամաքային լանջ:
- 3) Մերձբևեռային շրջաններում օվկիանոսի ջուրը սառչում է 0° -ում:
- 4) Օվկիանոսի այն հատվածը, որը ներթափանցել է ցամաքի մեջ, կոչվում է նեղուց:

49

Ի՞նչը բնորոշ չէ բարեխառն օդային զանգվածներին.

- 1) առանձնանում են բարձր ջերմությամբ, չորությամբ և փոքր թափանցիկությամբ (մեծ փոշոտվածության պատճառով)
- 2) ձևավորվում են 40° – 70° լայնությունների միջև
- 3) արկտիկական և արևադարձային օդի միախառնման արդյունք են
- 4) ծովային և ցամաքային տարատեսակները խիստ տարբեր են. ծովայինը բնորոշվում է մեծ խոնավությամբ, իսկ ցամաքայինը՝ չորությամբ

50

Ո՞ր շարքի բոլոր աշխարհագրական օբյեկտներն են Հարավային Ամերիկայում.

- 1) Օրինկոյի դաշտավայր, Ռուիս հրաբուխ, Պոոպո լիճ
- 2) Պադանի դաշտավայր, Վինսոն լեռ, Իսիկ Կուլ լիճ
- 3) Լա Պլատայի դաշտավայր, Օրիսաբա հրաբուխ, Էրի լիճ
- 4) Լավրենտյան սարահարթ, Կոտոպախի հրաբուխ, Մեծ արջի լիճ

51

Բացարձակ միապետություններ են.

- 1) Նիդերլանդները և Բելգիան
- 2) Ճապոնիան և Մեծ Բրիտանիան
- 3) Նորվեգիան և Շվեդիան
- 4) Օմանը և Բրունեյը

52

Բնակչության վերարտադրության առաջին տիպի երկրներ չեն.

- 1) Կանադան և Ավստրալիան
- 2) Ֆրանսիան և Իտալիան
- 3) Ռուսաստանը և Բելառուսը
- 4) Նիգերը և Սուդանը

53

Բրնձի համախառն բերքով առաջատար երկրներն են.

- 1) Չինաստանը և Հնդկաստանը
- 2) ԱՄՆ-ը և Ռուսաստանը
- 3) Ավստրալիան և Բրազիլիան
- 4) Կանադան և Մեքսիկան

54

Ֆրանսիայի վերաբերյալ ո՞ր պնդումն է ճիշտ.

- 1) Ֆրանսիային են պատկանում Սարդինիա և Կորսիկա կղզիները:
- 2) Էլեկտրաէներգիայի մեծ մասն արտադրվում է ջերմային էլեկտրակայաններում:
- 3) Մեծ Բրիտանիայից բաժանվում է Ջիբրալթարի նեղուցով:
- 4) Ըստ պետական կարգի՝ նախագահական հանրապետություն է:

55

Բնութագրումով որոշել երկիրը.

Այս երկիրն իր տարածքով և բնակչության թվով դասվում է աշխարհի գերխոշոր երկրների շարքին: Արևելքում ավերը ողողվում են Ատլանտյան օվկիանոսի ջրերով: Այն հարուստ է գրեթե բոլոր տեսակի օգտակար հանածոներով: Սակայն անբավարար են վառելիքաէներգետիկ ռեսուրսները: Ո՞րն է այդ երկիրը.

- 1) Արգենտինան
- 2) ԱՄՆ-ը
- 3) Մեքսիկան
- 4) Բրազիլիան

56

Հայկական լեռնաշխարհի վերաբերյալ ո՞ր պնդումն է ճիշտ.

- 1) Լեռնաշխարհից արևմուտք տարածվում է Իրանական բարձրավանդակը:
- 2) Զբաղեցնում է մոտ 200 հազ. կմ² մակերես:
- 3) Խաղաղօվկիանոսյան գեոսինկլինալային գոտու կենտրոնական մասում է:
- 4) Սև ծովի ավին զուգահեռ տարածվում են Արևելապոնտական լեռները:

57

ՀՀ կլիմայի վերաբերյալ ո՞ր պնդումն է ճիշտ.

- 1) Տարվա ընթացքում ամենաշատ ամպամած օրերը լինում են Գեղարքունիքի մարզում (Մարտունի):
- 2) Հանրապետության տարածքը արևադարձային կլիմայական գոտում է:
- 3) Տարվա տաք կեսին տիրապետում են Իրանական բարձրավանդակից թափանցող արևադարձային օդային զանգվածները:
- 4) Տարվա ընթացքում առավելագույն տեղումները լինում են նոյեմբեր-դեկտեմբեր ամիսներին:

58

Տավուշի մարզում արդյունաբերության ո՞ր ենթաճյուղին պատկանող ձեռնարկություններ չկան.

- 1) գորգագործության
- 2) պղնձաձուլության
- 3) գինեգործության
- 4) սարքաշինության

59

Արմավիրի և Արարատի մարզերի համար ի՞նչը ընդհանուր չէ.

- 1) Գյուղատնտեսության զարգացման գլխավոր պայմանը ոռոգումն է:
- 2) Բացառապես հարթավայրային մակերևույթ ունեցող մարզեր են:
- 3) Հանրապետությունում ամենազարգացած գյուղատնտեսությունն ունեցող մարզերն են:
- 4) Բուսաբուծության առաջատար ճյուղերը խաղողագործությունը, պտղաբուծությունը և բանջարաբուծությունն են:

60

Ո՞ր շարքում տրված մարզերի համար է գունավոր մետալուրգիան մասնագիտացման ճյուղ.

- 1) Արմավիրի և Վայոց ձորի
- 2) Գեղարքունիքի և Շիրակի
- 3) Լոռու և Սյունիքի
- 4) Արագածոտնի և Շիրակի

61

Տրված են Հայկական լեռնաշխարհի երեք խոշոր լճերը: Դասավորել դրանց համարները լճերի մակերեսների աճման կարգով.

- 1) Վանա
- 2) Սևանա
- 3) Ուրմիա

62

Գրել այն ջրէկների համարները, որոնք չեն մտնում Հրազդանի կասկաղի մեջ.

- | | |
|-------------|------------|
| 1) Շամբի | 5) Երևանի |
| 2) Քանաքեռի | 6) Այրումի |
| 3) Տաթևի | 7) Սևանի |
| 4) Արգելի | 8) Արզնիի |

63

Գրել այն պետությունների համարները, որոնք սահմանակցում են Ֆրանսիային.

- | | |
|-----------------|------------------|
| 1) Բելգիա | 5) Ավստրիա |
| 2) Պորտուգալիա | 6) Սան Մարինո |
| 3) Դանիա | 7) Լյուքսեմբուրգ |
| 4) Նիդերլանդներ | 8) Լիխտենշտայն |

64 Գրել այն երկրների համարները, որոնք առաջատար են բամբակի արտադրությամբ.

- | | |
|--------------|-------------|
| 1) Գերմանիա | 5) Վրաստան |
| 2) Կանադա | 6) Չինաստան |
| 3) Ռուսաստան | 7) Պակիստան |
| 4) Իրան | 8) Ֆրանսիա |

65 Օդի բացարձակ խոնավությունը 15 գ/մ^3 է: Օդը հագեցնելու համար անհրաժեշտ է 20 գ ջրային գոլորշի: Որոշել օդի հարաբերական խոնավությունը:

(66-67) Գետի լայնությունը 10 մ է, միջին խորությունը՝ $0,6 \text{ մ}$, ջրի արագությունը՝ $3,5 \text{ մ/վ}$.

66 Որոշել գետի հոսքը մեկ ժամում:

67 Որոշել գետի ծախսը:

(68-69) Լեռան ստորոտին մթնոլորտային ճնշումը 680 մմ է, իսկ գագաթին՝ 330 մմ:

68 Որոշել Լեռան բացարձակ բարձրությունը:

69 Որոշել Լեռան հարաբերական բարձրությունը:

ՀՀ արդյունաբերության վերաբերյալ տրված պնդումներից որո՞նք են ճիշտ, որո՞նք՝ սխալ.

- 1) Քիմիական արդյունաբերության խոշոր կենտրոններ են Հրազդան և Գյումրի քաղաքները:
- 2) Այլումինի արդյունաբերությունը բացառապես օգտագործում է տեղական հումք՝ Թեժ լեռան և Շվանիձորի (Մեղրու լեռնաշղթա):
- 3) ՀՀ մեքենաշինության տեղաբաշխումը ամբողջությամբ համընկնում է գունավոր մետաղաձուլության տեղաբաշխման հետ:
- 4) ՀՀ էլեկտրաէներգիայի արտադրության կառուցվածքում Հայկական աէլի բաժինը կազմում է ավելի քան 2/5-ը:
- 5) Մեքենաշինության զարգացումը պայմանավորված է սև մետաղների առկայությամբ:
- 6) Վառելիքային հաշվեկշռում ամենամեծ բաժինն ունի բնական գազը: