

ՄԻԱՄՆԱԿԱՆ ՔՆՆՈՒԹՅՈՒՆ

2014

ԱՇԽԱՐՀԱԳՐՈՒԹՅՈՒՆ

ԹԵՍՏ 2

Խմբի համարը

Նստարանի համարը

Հարգելի՛ դիմորդ

Խորհուրդ ենք տալիս առաջադրանքները կատարել ըստ հերթականության: Ուշադիր կարդացե՛ք յուրաքանչյուր առաջադրանքի պահանջը և պատասխանների առաջարկվող տարբերակները: Եթե Ձեզ չի հաջողվում որևէ առաջադրանքի անմիջապես պատասխանել, ժամանակը խնայելու նպատակով կարող եք այն բաց թողնել և դրան անդրադառնալ ավելի ուշ:

Ձեր առջև դրված թեստ-գրքույկի էջերի դատարկ մասերը ազատորեն կարող եք օգտագործել սևագրության համար: **Թեստ-գրքույկը չի ստուգվում: Ստուգվում է միայն պատասխանների ձևաթուղթը:**

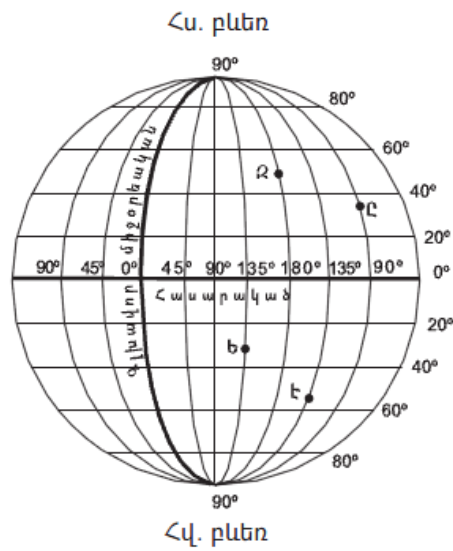
Առաջադրանքները կատարելուց հետո չմոռանաք պատասխանները ուշադիր և խնամքով նշել պատասխանների ձևաթղթում: Պատասխանների ձևաթղթի ճիշտ լրացումից է կախված Ձեր քննական միավորի ճշտությունը:

Ցանկանում ենք հաջողություն:

Ա Մակարդակ

1) Նկարում n° -ը տառով է պատկերված արլ. ե. 135° միջօրեականը.

- 1) Է
- 2) Ը
- 3) Զ
- 4) Ե

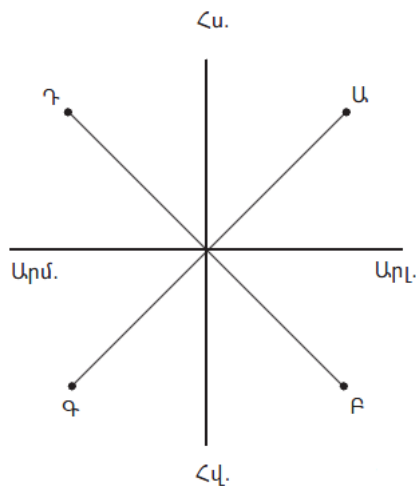


2) Եթե քարտեզի անվանական մասշտաբը 1 սմ–ում 50 կմ է, ապա դրա թվային մասշտաբը կլինի.

- 1) 1 : 50 000
- 2) 1 : 500 000
- 3) 1 : 5 000 000
- 4) 1 : 50 000 000

3) Նկարում α կետի ազիմուտը հավասար է.

- 1) 225°
- 2) 135°
- 3) 45°
- 4) 315°



4

Ո՞ր պնդումն է ճիշտ.

- 1) Հունիսի 22-ի կեսօրին Արեգակը լինում է զենիթում հվ. լ. $23^\circ 30'$ գուգահեռականի վրա:
- 2) Դեկտեմբերի 22-ի կեսօրին Արեգակը լինում է զենիթում հս. լ. $23^\circ 30'$ գուգահեռականի վրա:
- 3) Սեպտեմբերի 23-ին Արեգակի ճառագայթներն ուղղահայաց են ընկնում հյուսիսային բևեռային շրջագծի վրա:
- 4) Մարտի 21-ին Արեգակի ճառագայթներն ուղղահայաց են ընկնում հասարակածի վրա:

5

Երկրի խորքում բարձր ջերմաստիճանից ապարները վերածվում են գազերով ու ջրային գոլորշիներով հագեցած հրահեղուկ զանգվածի, որը կոչվում է.

- 1) մագմա
- 2) լավա
- 3) մդանցք
- 4) խառնարան

6

Օվկիանոսների հատակում տեղի ունեցող երկրաշարժերից առաջանում են կործանիչ ալիքներ, որոնք կոչվում են.

- 1) տեղատվություն
- 2) ցունամի
- 3) ցիկլոն
- 4) մակընթացություն

7

Բնութագրումով որոշել տեղումների տեսակը.

Այն առաջանում է Երկրի մակերևույթին՝ ջրային գոլորշիների շփումից: Գոյանում է տարվա տաք եղանակներին, պարզկա (անամպ) գիշերներին, անհողմ օրերին: Տեղումների ո՞ր տեսակն է.

- 1) ցողը
- 2) եղյամբ
- 3) անձրևը
- 4) կարկուտը

8

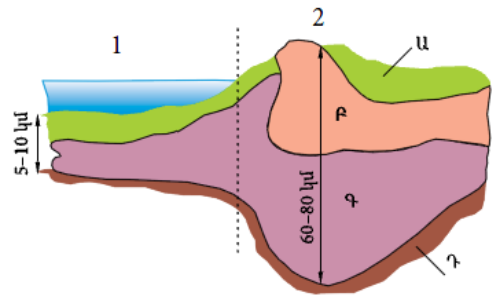
Երևան քաղաքում տարվա ընթացքում ըստ ամիսների ստացվել են միջին ամսական հետևյալ ջերմաստիճանները. $-4,5^{\circ}$, $-1,3^{\circ}$, $+5,4^{\circ}$, $+11,8^{\circ}$, $+17^{\circ}$, $+21,1^{\circ}$, $+25,1^{\circ}$, $+24,9^{\circ}$, $+20,1^{\circ}$, $+13,5^{\circ}$, $+6,2^{\circ}$, $-0,9^{\circ}$:
Ջերմաստիճանի տատանման տարեկան լայնույթը կկազմի.

- 1) $19,1^{\circ}$
- 2) $12,8^{\circ}$
- 3) $29,6^{\circ}$
- 4) $31,2^{\circ}$

9

Նկարում Դ տառով նշված է.

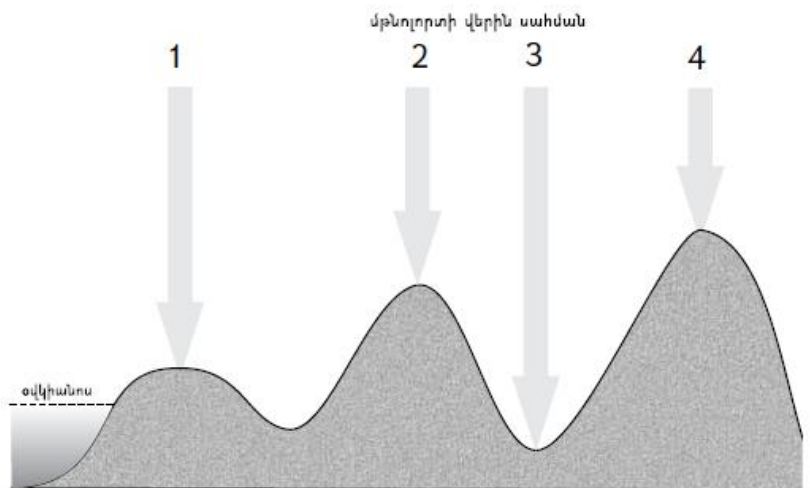
- 1) նստվածքային շերտը
- 2) բազալտային շերտը
- 3) գրանիտային շերտը
- 4) միջնապատյանը



10

Նկարում n ը թվով է նշված ամենացածր մթնոլորտային ճնշումը.

- 1) 1
- 2) 2
- 3) 3
- 4) 4



11

«Օովածոց — օվկիանոս» գույգերից ընտրել ճիշտը.

- 1) Կալիֆոռնիական — Հնդկական
- 2) Մեծ ավստրալական — Հյուսիսային սառուցյալ
- 3) Պարսից — Խաղաղ
- 4) Մեքսիկական — Ատլանտյան

12

Տափաստանների զոնան բնորոշվում է.

- 1) տարեկան ցածր ջերմաստիճաններով, քիչ տեղումներով, որոնք հիմնականում թափվում են ձյան տեսքով, ցածրահասակ բուսականությամբ
- 2) ցամաքային կլիմայով՝ տաք ու խոնավ ամառով, ցուրտ ձմեռով, հումուսով հարուստ (մինչև 8–12 %) սևահողերով
- 3) խիստ չոր ցամաքային կլիմայով, օրական և տարեկան ջերմաստիճանների մեծ տատանումներով, շատ աղքատ բուսականությամբ՝ չորադիմացկուն տեսակներով
- 4) սեզոնային կլիմայով, ամռանը թափանցող հասարակածային, իսկ ձմռանը՝ արևադարձային օդային զանգվածներով, բուսականության մեջ բարձրացողուն (2–3 մ) հացազգիների և ծառերի գերակշռությամբ

13

Բնութագրումով որոշել գետը.

Եվրասիայի ամենաերկար ու ամենաջրառատ գետն է, ունի ամառային հորդացում: Ո՞ր գետն է.

- 1) Ամուր
- 2) Հուանհե
- 3) Գանգես
- 4) Յանցզի

14

Ո՞ր պնդումն է ճիշտ.

- 1) Խոշոր մասշտաբի քարտեզների խմբի մեջ մտնում են 1 : 10 000 000–ից ավելի փոքր մասշտաբի քարտեզները:
- 2) Սկզբնական միջօրեականը Երկիրը բաժանում է հյուսիսային և հարավային կիսագնդերի:
- 3) Բոլոր գուգահեռականներն ունեն հավասար երկարություն:
- 4) Աշխարհագրական լայնությունը Երկրի մակերևույթի որևէ կետի հեռավորությունն է հասարակածից՝ արտահայտված աստիճաններով:

15

Ո՞ր պնդումն է ճիշտ.

- 1) Արևադարձային լայնություններում հաստատվում է ցածր ճնշում:
- 2) Որքան փոքր է Արեգակի ճառագայթների անկման անկյունը, այնքան Երկրի մակերևույթը քիչ ջերմություն է ստանում:
- 3) Մթնոլորտային բարձր ճնշման գոտիներում առատ տեղումներ են թափվում:
- 4) Արեգակից ստացվող ջերմությունը Երկրի վրա բաշխված է հավասարաչափ:

16

«Գետ— ջրվեժ» գույգերից ընտրել սխալը.

- 1) Կոնգո — Լիվինգստոնի
- 2) Ամազոն — Իգուասու
- 3) Զամբեզի — Վիկտորիա
- 4) Չուրուն — Անխել

17

«Մայրցամաք — թերակղզի» գույգերից ընտրել սխալը.

- 1) Աֆրիկա — Սոմալի
- 2) Եվրասիա — Ալյասկա
- 3) Հյուսիսային Ամերիկա — Ֆլորիդա
- 4) Ավստրալիա — Քեյփ Յորք

18

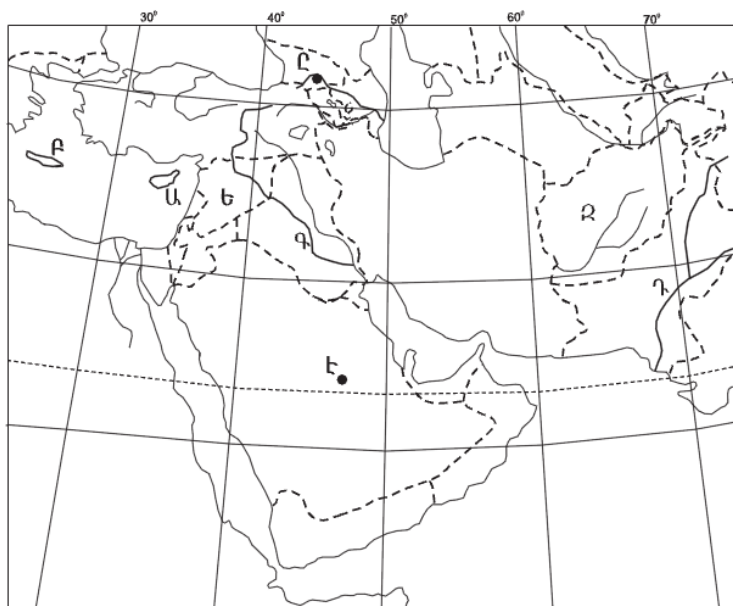
Կալիֆոռնիա թերակղզու կլիման.

- 1) խոնավ արևադարձային է
- 2) բարեխառն ցամաքային է
- 3) բարեխառն ծովային է
- 4) արևադարձային անապատային է

19

Քարտեզում Դ տառով ո՞ր գետն է նշված.

- 1) Գանգես
- 2) Եփրատ
- 3) Տիգրիս
- 4) Ինդոս



20

Քարտեզում Ջ տառով ո՞ր պետությունն է նշված.

- 1) Ուզբեկստան
- 2) Աֆղանստան
- 3) Պակիստան
- 4) Իրան

21

«Ժողովրդագրական պայթյունը».

- 1) բնակչության թվի կտրուկ աճն է մահացության կրճատման հետևանքով
- 2) բնակչության թվի կայուն աճն է ընդլայնված վերարտադրության պայմաններում
- 3) բնակչության թվի կտրուկ նվազումն է ծնելիության կրճատման հետևանքով
- 4) բնակչության թվի կայունացումն է պարզ վերարտադրության պայմաններում

22

Բնակչության վայրի ժամանակավոր կամ մշտական փոփոխության հետ կապված բնակչության տեղաշարժը կոչվում է.

- 1) տարաբնակեցում
- 2) բնակչության միգրացիա
- 3) բնակչության տեղաբաշխում
- 4) բնակչության բնական շարժ

23

Բնութագրումով որոշել պետությունը.

Այս պետությունը մեծ հետք է թողել մարդկային քաղաքակրթության մեջ և բացառիկ դեր ունի արարական աշխարհում: Տիպիկ անապատային երկիր է: Այստեղ է երկրագնդի ցամաքի ամենացածր վայրերից մեկը: Մայրաքաղաքն արարական աշխարհի խոշորագույն քաղաքն է: Պետությանը մեծ եկամուտ ապահովող բնագավառ է միջազգային զբոսաշրջությունը: Ո՞ր պետությունն է.

- 1) Սիրիան
- 2) Եգիպտոսը
- 3) Սաուդյան Արաբիան
- 4) Լիբիան

24

Երկրի բնակչության թիվը 4 մլն է, բնական աճը՝ 20 %: Բնակչության բացարձակ բնական աճը կկազմի.

- 1) 20 000 մարդ
- 2) 40 000 մարդ
- 3) 80 000 մարդ
- 4) 100 000 մարդ

25

Ընտրել «լեզվախումբ — ժողովուրդ» համապատասխանության ճիշտ շարքը.

- | | |
|---------------|------------------|
| 1. ռոմանական | ա. անգլիացիներ |
| 2. սլավոնական | բ. ֆրանսիացիներ |
| 3. գերմանական | գ. քրդեր |
| 4. իրանական | դ. ուկրաինացիներ |

- 1) 1-ա, 2-բ, 3-գ, 4-դ
- 2) 1-բ, 2-դ, 3-ա, 4-գ
- 3) 1-գ, 2-ա, 3-բ, 4-դ
- 4) 1-բ, 2-դ, 3-գ, 4-ա

26

Դեպի Կարմիր ծով անմիջական ելք չունի.

- 1) Եգիպտոսը
- 2) Եմենը
- 3) Օմանը
- 4) Սաուդյան Արաբիան

27

«Արտադրանք — արդյունաբերության ճյուղ» գույգերից ընտրել ճիշտը.

- 1) հաստոց — մետաղաձուլություն
- 2) պլաստմասսա — մեքենաշինություն
- 3) տրիկոտաժ — թեթև արդյունաբերություն
- 4) սինթետիկ մանրաթել — թեթև արդյունաբերություն

28

Թուրքիայի վերաբերյալ ո՞ր պնդումն է սխալ.

- 1) Իսթենդերունը սև մետաղաձուլության խոշորագույն կենտրոնն է:
- 2) Երկրի քիմիական արդյունաբերությունն արտադրում է դեղագործական ապրանքների համաշխարհային արտադրանքի գերակշիռ մասը:
- 3) Էլեկտրաէներգիայի գերակշիռ մասն արտադրվում է ջեկերում:
- 4) Թեթև արդյունաբերությունը երկրի արդյունաբերության ավանդական զարգացած ճյուղերից է:

29 «Կեղծ ուրբանիզացումն» առավել բնորոշ է.

- 1) ԱՄՆ–ին և Կանադային
- 2) Ֆրանսիային և Շվեյցարիային
- 3) Ավստրալիային և Մեծ Բրիտանիային
- 4) Արգենտինային և Բրազիլիային

30 Դեպի ծով ելք չունեն.

- 1) Ավստրիան և Չեխիան
- 2) Ալժիրը և Պերուն
- 3) Բելգիան և Բուլղարիան
- 4) Ռումինիան և Ուկրաինան

31 Ո՞ր պնդումն է ճիշտ.

- 1) Նավթի համաշխարհային պաշարների մոտ 9/10–ը կենտրոնացված է զարգացած երկրներում:
- 2) Էլեկտրաէներգիայի արտադրության կառուցվածքում ամենամեծ բաժինն ունեն ստոմային էլեկտրակայանները:
- 3) Քիմիական արդյունաբերության գիտատար ճյուղերը տեղաբաշխված են զարգացող երկրներում:
- 4) Էլեկտրաէներգիայի համաշխարհային արտադրության 4/5–ը բաժին է ընկնում զարգացած երկրներին:

32 Էներգետիկական հաշվեկշռում ջրէկների առավել մեծ բաժին ունեցող երկրներ են.

- 1) Ուկրաինան և ԱՄՆ–ը
- 2) Նորվեգիան և Կանադան
- 3) Չինաստանը և Ֆրանսիան
- 4) Գերմանիան և Ճապոնիան

33 Ո՞ր պնդումն է ճիշտ.

- 1) Փամբակի և Ծաղկունյաց լեռները արտաքին շարի լեռներ են:
- 2) Գեղամա լեռնավահանը ճառագայթաձև մասնատվել է Գեղարոտի, Ամբերդի խոր հովիտներով:
- 3) Եղնախաղի լեռնավահանը ձգվում է Հայաստանի և Թուրքիայի պետական սահմանի ուղղությամբ:
- 4) Բարգուշատի և Մեղրու լեռնաշղթաները մասնատված են Արփայի և Արաքսի գետահովիտներով:

34 ՀՀ քիմիական արդյունաբերության զարգացմանն առավելապես նպաստել է.

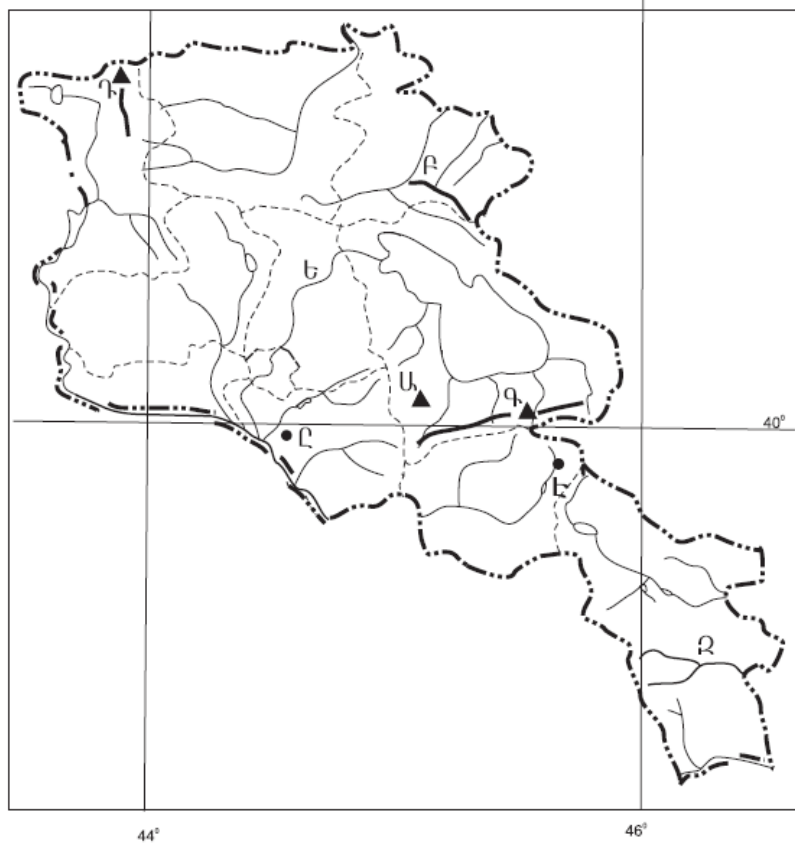
- 1) Ատոմային էլեկտրակայանի կառուցումը
- 2) արդյունաբերության բնապահպանական ուղղվածությունը
- 3) սև մետաղաձուլության թափոնների առկայությունը
- 4) հանքային քիմիական հումքի խոշոր պաշարների առկայությունը

35 Լոռու մարզում բուսաբուծության ո՞ր ենթաճյուղը զարգացած չէ.

- 1) այգեգործությունը
- 2) ծխախոտի մշակությունը
- 3) հացահատիկի մշակությունը
- 4) կարտոֆիլի մշակությունը

36 Ո՞ր լեռնագագաթն է քարտեզում նշված Դ տառով.

- 1) Լալվար
- 2) Եզնասար
- 3) Աչքասար
- 4) Մեծ Եղնախաղ



37 **Ո՞ր քաղաքն է քարտեզում նշված \mathcal{L} տառով.**

- 1) Մասիս
- 2) Վեդի
- 3) Արարատ
- 4) Արտաշատ

38 **Ածխի պաշարներով հարուստ երկրներ են.**

- 1) Իրանը և Թուրքիան
- 2) Ֆրանսիան և Իսպանիան
- 3) Ռուսաստանը և Ուկրաինան
- 4) Ճապոնիան և Մոնղոլիան

39 **Ջրավազաններն աղտոտող արհեստական նյութերից են.**

- 1) հարթավայրային գետերով տեղափոխվող փայտանյութերը
- 2) ջրէկներում էներգետիկ նպատակներով օգտագործված ջրերը
- 3) ապարների քիմիական հողմահարման հետևանքով առաջացած նյութերը
- 4) քիմիական պարարտանյութերը

40 **Բնության այն տարրերն ու երևույթները, որոնք անմիջապես չեն օգտագործվում և սպառվում արտադրության գործընթացի ընթացքում, բայց կարող են ազդեցություն ունենալ դրա վրա, կոչվում են.**

- 1) բնական ռեսուրսներ
- 2) արտադրողական ուժեր
- 3) բնական պայմաններ
- 4) աշխատանքի միջոցներ

41 **Գրել այն կղզիների և կղզեխմբերի համարները, որոնք Ատլանտյան օվկիանոսում և նրա ծովերում են.**

- | | |
|-------------------|----------------|
| 1) Մոզամբիկ | 5) Ֆոլկլենդյան |
| 2) Իսլանդիա | 6) Սարդինիա |
| 3) Նյուֆաունդլենդ | 7) Ալեոթյան |
| 4) Շրի Լանկա | 8) Կուրիլյան |

42

Գրել այն լեզուների համարները, որոնք չեն մտնում սլավոնական լեզվախմբի մեջ.

- | | |
|--------------|----------------|
| 1) լեհերեն | 5) չեխերեն |
| 2) սերբերեն | 6) սլովակերեն |
| 3) շվեդերեն | 7) ռուսերեն |
| 4) էստոներեն | 8) բուլղարերեն |

43

Գրել Կուրի ավազանին պատկանող վտակների համարները.

- | | |
|-------------|--------------|
| 1) Գետիկ | 5) Հրազդան |
| 2) Որոտան | 6) Խաչենազետ |
| 3) Մարմարիկ | 7) Փամբակ |
| 4) Արփա | 8) Դեբեդ |

44

Տրված պետությունները դասավորել պողպատի արտադրության աճման կարգով.

- 1) Չինաստան
- 2) Գերմանիա
- 3) Ճապոնիա
- 4) ԱՄՆ

Եվրասիայի ներքին ջրերի վերաբերյալ տրված պնդումներից որո՞նք են ճիշտ, որո՞նք՝ սխալ.

- 1) Եվրասիայի գետերը պատկանում են երեք օվկիանոսների ավազաններին և կենտրոնաասիական ներքին անհոսք ավազանին:
- 2) Խաղաղ օվկիանոսի ավազանին են պատկանում մայրցամաքի ամենաջրատատ գետերը:
- 3) Յանցզին, Հուանհեն, Մեկոնգը և Ամուրը հորդանում են ձմռանը:
- 4) Կենտրոնաասիական փակ, ներքին անհոսք ավազանին են պատկանում Վոլգա, Կուր և Արաքս գետերը:
- 5) Տեկտոնահրաբխային ծագման լճերից հայտնի են Վեներնը և Վետերնը:
- 6) Մեռյալ լճի ջրերն այնքան քաղցրահամ են, որ լճում բացակայում է կենդանական աշխարհը:

Բ Մակարդակ

46

Հաշվել երկու կետերի իրական հեռավորությունը, եթե նրանք միևնույն միջօրեականի վրա են և միմյանցից հեռացված են 8° .

- 1) 858 կմ
- 2) 808 կմ
- 3) 888 կմ
- 4) 880 կմ

47

Ի՞նչ բարձրության վրա օդի ջերմաստիճանը հավասար կլինի $+11^\circ$ -ի, եթե նույն պահին Արագածի գագաթին -4° է (յուրաքանչյուր 1000 մ-ին ջերմաստիճանի Փոփոխությունն ընդունել 5°).

- 1) 1090 մ
- 2) 1900 մ
- 3) 1009 մ
- 4) 1000 մ

48

Ո՞ր պնդումն է ճիշտ.

- 1) Օվկիանոսի հատակի մինչև 200 մ խորության հատվածը կոչվում է մայրցամաքային լանջ:
- 2) Մերձբևեռային շրջաններում օվկիանոսի ջուրը սառչում է 0° -ում:
- 3) Օվկիանոսի այն հատվածը, որը ներթափանցել է ցամաքի մեջ, կոչվում է նեղուց:
- 4) Օվկիանոսի հատակին տեղի ունեցող երկրաշարժից առաջացած ալիքը կոչվում է ցունամի:

49

Ի՞նչը բնորոշ չէ բարեխառն օդային զանգվածներին.

- 1) ձևավորվում են 40° – 70° լայնությունների միջև
- 2) արկտիկական և արևադարձային օդի միախառնման արդյունք են
- 3) ծովային և ցամաքային տարատեսակները խիստ տարբեր են. ծովայինը բնորոշվում է մեծ խոնավությամբ, իսկ ցամաքայինը՝ չորությամբ
- 4) առանձնանում են բարձր ջերմությամբ, չորությամբ և փոքր թափանցիկությամբ (մեծ փոշոտվածության պատճառով)

50

Ո՞ր շարքի բոլոր աշխարհագրական օբյեկտներն են Հարավային Ամերիկայում.

- 1) Պադանի դաշտավայր, Վինսոն լեռ, Իսիկ Կուլ լիճ
- 2) Լա Պլատայի դաշտավայր, Օրիսաբա հրաբուխ, Էրի լիճ
- 3) Լավրենտյան սարահարթ, Կոտոպախի հրաբուխ, Մեծ արջի լիճ
- 4) Օրինկոյի դաշտավայր, Ռուխա հրաբուխ, Պոոպո լիճ

51

Բացարձակ միապետություններ են.

- 1) Ճապոնիան և Մեծ Բրիտանիան
- 2) Նորվեգիան և Շվեդիան
- 3) Օմանը և Բրունեյը
- 4) Նիդերլանդները և Բելգիան

52

Բնակչության վերարտադրության առաջին տիպի երկրներ չեն.

- 1) Ֆրանսիան և Իտալիան
- 2) Ռուսաստանը և Բելառուսը
- 3) Նիգերը և Սուդանը
- 4) Կանադան և Ավստրալիան

53

Բրնձի համախառն բերքով առաջատար երկրներն են.

- 1) ԱՄՆ-ը և Ռուսաստանը
- 2) Ավստրալիան և Բրազիլիան
- 3) Կանադան և Մեքսիկան
- 4) Չինաստանը և Հնդկաստանը

54

Ֆրանսիայի վերաբերյալ ո՞ր պնդումն է ճիշտ.

- 1) Էլեկտրաէներգիայի մեծ մասն արտադրվում է ջերմային էլեկտրակայաններում:
- 2) Մեծ Բրիտանիայից բաժանվում է Ջիբրալթարի նեղուցով:
- 3) Ըստ պետական կարգի՝ նախագահական հանրապետություն է:
- 4) Ֆրանսիային են պատկանում Սարդինիա և Կորսիկա կղզիները:

55

Բնութագրումով որոշել երկիրը.

Այս երկիրն իր տարածքով և բնակչության թվով դասվում է աշխարհի գերխոշոր երկրների շարքին: Արևելքում ավերը ողողվում են Ատլանտյան օվկիանոսի ջրերով: Այն հարուստ է գրեթե բոլոր տեսակի օգտակար հանածոներով: Մակայն անբավարար են վառելիքաէներգետիկ ռեսուրսները: Ո՞րն է այդ երկիրը.

- 1) ԱՄՆ-ը
- 2) Մեքսիկան
- 3) Բրազիլիան
- 4) Արգենտինան

56

Հայկական լեռնաշխարհի վերաբերյալ ո՞ր պնդումն է ճիշտ.

- 1) Զբաղեցնում է մոտ 200 հազ. կմ² մակերես:
- 2) Խաղաղօվկիանոսյան գեոսինկլինալային գոտու կենտրոնական մասում է:
- 3) Սև ծովի ավին գուգահեռ տարածվում են Արևելապոնտական լեռները:
- 4) Լեռնաշխարհից արևմուտք տարածվում է Իրանական բարձրավանդակը:

57

ՀՀ կլիմայի վերաբերյալ ո՞ր պնդումն է ճիշտ.

- 1) Հանրապետության տարածքը արևադարձային կլիմայական գոտում է:
- 2) Տարվա տաք կեսին տիրապետում են Իրանական բարձրավանդակից թափանցող արևադարձային օդային զանգվածները:
- 3) Տարվա ընթացքում առավելագույն տեղումները լինում են նոյեմբեր-դեկտեմբեր ամիսներին:
- 4) Տարվա ընթացքում ամենաշատ ամպամած օրերը լինում են Գեղարքունիքի մարզում (Մարտունի):

58

Տավուշի մարզում արդյունաբերության ո՞ր ենթաճյուղին պատկանող ձեռնարկություններ չկան.

- 1) գինեգործության
- 2) սարքաշինության
- 3) գորգագործության
- 4) պղնձաձուլության

59

Արմավիրի և Արարատի մարզերի համար ի՞նչը ընդհանուր չէ.

- 1) Բացառապես հարթավայրային մակերևույթ ունեցող մարզեր են:
- 2) Հանրապետությունում ամենազարգացած գյուղատնտեսությունն ունեցող մարզերն են:
- 3) Բուսաբուծության առաջատար ճյուղերը խաղողագործությունը, պտղաբուծությունը և բանջարաբուծությունն են:
- 4) Գյուղատնտեսության զարգացման գլխավոր պայմանը ոռոգումն է:

60

Ո՞ր շարքում տրված մարզերի համար է գունավոր մետալուրգիան մասնագիտացման ճյուղ.

- 1) Գեղարքունիքի և Շիրակի
- 2) Լոռու և Սյունիքի
- 3) Արագածոտնի և Շիրակի
- 4) Արմավիրի և Վայոց ձորի

61

Տրված են Հայկական լեռնաշխարհի երեք խոշոր լճերը: Դասավորել դրանց համարները լճերի մակերեսների աճման կարգով.

- 1) Սևանա
- 2) Ուրմիա
- 3) Վանա

62

Գրել այն ջրէկների համարները, որոնք չեն մտնում Հրազդանի կասկադի մեջ.

- | | |
|-------------|------------|
| 1) Քանաքեռի | 5) Այրումի |
| 2) Տաթևի | 6) Սևանի |
| 3) Արգելի | 7) Արգնիի |
| 4) Երևանի | 8) Շամբի |

63

Գրել այն պետությունների համարները, որոնք սահմանակցում են Ֆրանսիային.

- | | |
|-----------------|------------------|
| 1) Պորտուգալիա | 5) Սան Մարինո |
| 2) Դանիա | 6) Լյուքսեմբուրգ |
| 3) Նիդերլանդներ | 7) Լիխտենշտայն |
| 4) Ավստրիա | 8) Բելգիա |

64 Գրել այն երկրների համարները, որոնք առաջատար են բամբակի արտադրությամբ.

- | | |
|--------------|-------------|
| 1) Կանադա | 5) Չինաստան |
| 2) Ռուսաստան | 6) Պակիստան |
| 3) Իրան | 7) Ֆրանսիա |
| 4) Վրաստան | 8) Գերմանիա |

65 Օդի բացարձակ խոնավությունը 15 գ/մ^3 է: Օդը հագեցնելու համար անհրաժեշտ է 20 գ ջրային գոլորշի: Որոշել օդի հարաբերական խոնավությունը:

(66-67) Լեռան ստորոտին մթնոլորտային ճնշումը 680 մմ է , իսկ գագաթին՝ 330 մմ :

66 Որոշել Լեռան հարաբերական բարձրությունը:

67 Որոշել Լեռան բացարձակ բարձրությունը:

(68-69) Գետի լայնությունը 10 մ է, միջին խորությունը՝ 0,6 մ, ջրի արագությունը՝ 3,5 մ/վ.

68 Որոշե՛լ գետի ծախսը:

69 Որոշե՛լ գետի հոսքը մեկ ժամում:

ՀՀ արդյունաբերության վերաբերյալ տրված պնդումներից որո՞նք են ճիշտ, որո՞նք՝ սխալ.

- 1) ՀՀ մեքենաշինության տեղաբաշխումը ամբողջությամբ համընկնում է գունավոր մետաղաձուլության տեղաբաշխման հետ:
- 2) ՀՀ էլեկտրաէներգիայի արտադրության կառուցվածքում Հայկական աէլի բաժինը կազմում է ավելի քան 2/5-ը:
- 3) Մեքենաշինության զարգացումը պայմանավորված է սև մետաղների առկայությամբ:
- 4) Վառելիքային հաշվեկշռում ամենամեծ բաժինն ունի բնական գազը:
- 5) Քիմիական արդյունաբերության խոշոր կենտրոններ են Հրազդան և Գյումրի քաղաքները:
- 6) Այլումինի արդյունաբերությունը բացառապես օգտագործում է տեղական հումք՝ Թեժ լեռան և Շվանիձորի (Մեղրու լեռնաշղթա):