

ՄԻԱՄՆԱԿԱՆ ՔՆՆՈՒԹՅՈՒՆ

2014

ԱՇԽԱՐՀԱԳՐՈՒԹՅՈՒՆ

ԹԵՍՏ 1

Խմբի համարը

Նստարանի համարը

Հարգելի՛ դիմորդ

Խորհուրդ ենք տալիս առաջադրանքները կատարել ըստ հերթականության: Ուշադիր կարդացե՛ք յուրաքանչյուր առաջադրանքի պահանջը և պատասխանների առաջարկվող տարբերակները: Եթե Ձեզ չի հաջողվում որևէ առաջադրանքի անմիջապես պատասխանել, ժամանակը խնայելու նպատակով կարող եք այն բաց թողնել և դրան անդրադառնալ ավելի ուշ:

Ձեր առջև դրված թեստ-գրքույկի էջերի դատարկ մասերը ազատորեն կարող եք օգտագործել սևագրության համար: ***Թեստ-գրքույկը չի ստուգվում: Ստուգվում է միայն պատասխանների ձևաթուղթը:***

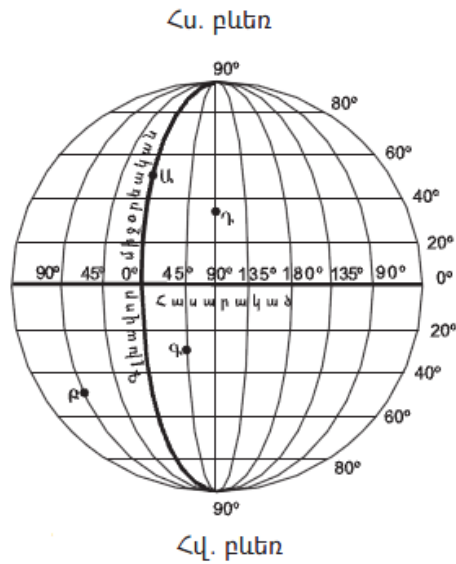
Առաջադրանքները կատարելուց հետո չմոռանաք պատասխանները ուշադիր և խնամքով նշել պատասխանների ձևաթղթում: Պատասխանների ձևաթղթի ճիշտ լրացումից է կախված Ձեր քննական միավորի ճշտությունը:

Ցանկանում ենք հաջողություն:

Ա Մակարդակ

1) Նկարում n -րդ տառով է պատկերված արլ. ե. 45° միջօրեականը.

- 1) Բ
- 2) Ա
- 3) Գ
- 4) Դ

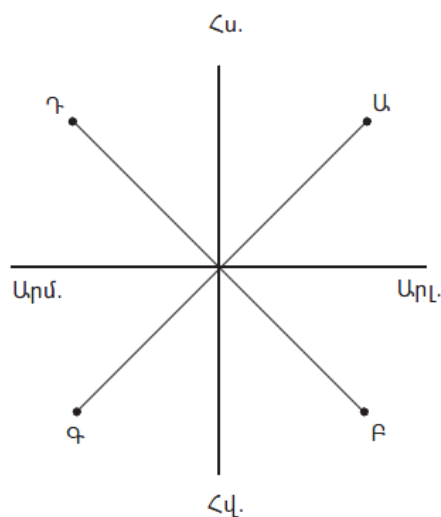


2) Եթե քարտեզի թվային մասշտաբը 1 : 250 000 000 է, ապա դրա անվանական մասշտաբը կլինի.

- 1) 1 սմ–ում՝ 250 կմ
- 2) 1 սմ–ում՝ 2500 կմ
- 3) 1 սմ–ում՝ 25 կմ
- 4) 1 սմ–ում՝ 2,5 կմ

3) Նկարում \varnothing կետի ազիմուտը հավասար է.

- 1) 315°
- 2) 45°
- 3) 225°
- 4) 135°



4

Ո՞ր պնդումն է ճիշտ.

- 1) Հունիսի 22-ին Արեգակի ճառագայթներն ուղղահայաց են ընկնում հասարակածի վրա:
- 2) Մարտի 21-ը կոչվում է գարնանային գիշերահավասարի օր:
- 3) Դեկտեմբերին ցերեկը Հարավային բևեռում ավելի կարճ է, քան Երևանում:
- 4) Արեգակի ճառագայթները հս. լ. 25° -ի տակ տարվա մեջ մեկ անգամ ընկնում են ուղղահայաց:

5

Երկրի խորքից հրահեղուկ զանգվածի, ջրային գոլորշիների և գազերի դուրս մղումը Երկրի մակերես կոչվում է.

- 1) երկրաշարժ
- 2) հրաբուխ
- 3) ցունամի
- 4) գեյզեր

6

Լուսնի և Արեգակի ձգողական ուժի հետևանքով օրական երկու անգամ օվկիանոսի ջրի մակարդակի բարձրացումը կոչվում է.

- 1) մակընթացություն
- 2) ալեկոծություն
- 3) տեղատվություն
- 4) ալեբախություն

7

Բնութագրումով որոշել տեղումների տեսակը.

Դա առաջանում է տարվա ցուրտ, անհողմ եղանակներին, պարզկա (անամպ) գիշերներին, երբ Երկրի մակերևույթի և օդի ջերմաստիճանը 0° -ից ցածր է: Տեղումների n թ տեսակն է.

- 1) ցողը
- 2) ձյունը
- 3) եղյամը
- 4) կարկուտը

8

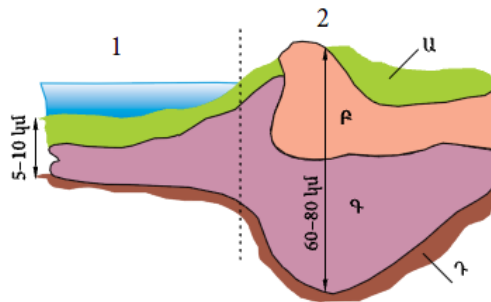
Օրվա ընթացքում օդի ջերմաստիճանի չափումներից ստացել են -1° , -4° , -7° , -13° , $+7^{\circ}$, $+12^{\circ}$, $+9^{\circ}$, $+3^{\circ}$ ցուցանիշները: Ջերմաստիճանի տատանման օրական լայնույթը կկազմի.

- 1) 1°
- 2) 12°
- 3) 10°
- 4) 25°

9

Նկարում *F* տառով նշված է.

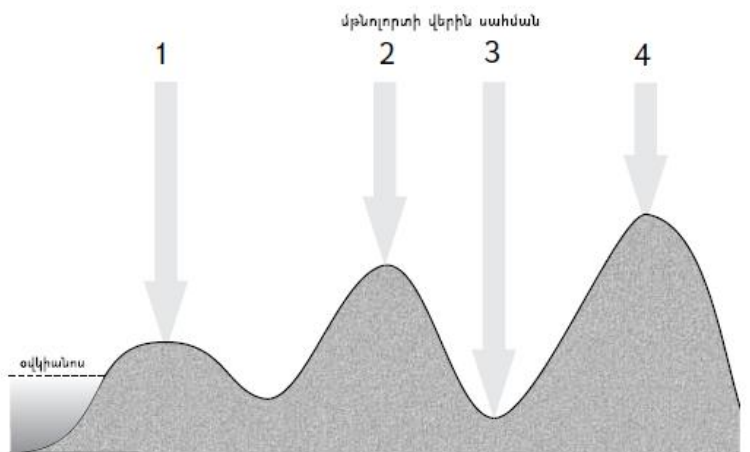
- 1) նստվածքային շերտը
- 2) բազալտային շերտը
- 3) գրանիտային շերտը
- 4) միջնապատյանը



10

Նկարում *n* թվով է նշված ամենաբարձր մթնոլորտային ճնշումը.

- 1) 1
- 2) 2
- 3) 3
- 4) 4



11

«Ծովածոց — օվկիանոս» գույգերից ընտրել *սխալը*.

- 1) Գվինեական — Ատլանտյան
- 2) Օմանի — Հնդկական
- 3) Բոտնիկական — Հյուսիսային սառուցյալ
- 4) Կալիֆոռնիական — Իսադաղ

12

Տունդրայի զոնան բնորոշվում է.

- 1) տարեկան ցածր ջերմաստիճաններով, քիչ տեղումներով, որոնք հիմնականում թափվում են ձյան տեսքով, ցածրահասակ բուսականությամբ
- 2) ցամաքային կլիմայով՝ տաք ու խոնավ ամառով, ցուրտ ձմեռով, հումուսով հարուստ (մինչև 8–12%) սևահողերով
- 3) խիստ չոր ցամաքային կլիմայով, օրական և տարեկան ջերմաստիճանների մեծ տատանումներով, շատ աղքատ բուսականությամբ՝ չորադիմացկուն տեսակներով
- 4) սեզոնային կլիմայով, ամռանը թափանցող հասարակածային, իսկ ձմռանը՝ արևադարձային օդային զանգվածներով, բուսականության մեջ բարձրացողուն (2–3 մ) հացազգիների և ծառերի գերակշռությամբ

13

Բնութագրումով որոշել գետը.

Հարթավայրային գետ է: Այն Հյուսիսային սառուցյալ օվկիանոսի ամենամեծ ջրհավաք ավազան ունեցող գետն է: Ո՞ր գետն է.

- 1) Վոլգա
- 2) Ենիսեյ
- 3) Մակենզի
- 4) Օբ

14

Ո՞ր պնդումն է ճիշտ.

- 1) Հասարակածը ամենակարճ զուգահեռականն է:
- 2) Քարտեզում և գլոբուսի վրա հասարակածին զուգահեռ տարված գծերը կոչվում են միջօրեականներ:
- 3) Միջօրեականի 1° աղեղի երկարությունը կազմում է 114 կմ:
- 4) Աշխարհագրական երկայնությունը քարտեզում կամ գլոբուսի վրա կետի հեռավորությունն է սկզբնական միջօրեականից՝ արտահայտված աստիճաններով:

15

Ո՞ր պնդումն է սխալ.

- 1) Հասարակածից բևեռներ շարժվելիս Արեգակից ստացվող ջերմության քանակը նվազում է:
- 2) Երկրագնդի վրա առանձնացնում են մթնոլորտային ցածր ճնշման չորս և բարձր ճնշման երեք գոտիներ:
- 3) Մթնոլորտային ցածր ճնշման գոտիներում լինում են առատ տեղումներ:
- 4) Մթնոլորտային բարձր ճնշման գոտիներում օդը կատարում է վարընթաց շարժում:

16

«Գետ — ջրվեժ» գույգերից ընտրել *սիսալը*.

- 1) Չուրուն — Անխել
- 2) Ջամբեզի — Վիկտորիա
- 3) Կոնգո — Լիվինգստոնի
- 4) Մարանիոն — Բգուասու

17

«Մայրցամաք — թերակղզի» գույգերից ընտրել ճիշտը.

- 1) Աֆրիկա — Առնհեմլենդ
- 2) Եվրասիա — Բալկանյան
- 3) Հյուսիսային Ամերիկա — Սկանդինավյան
- 4) Ավստրալիա — Յուկատան

18

Հյուսիսային Ամերիկայի մերձարևադարձային գոտու Խաղաղօվկիանոսային ափերի կլիման.

- 1) չոր մերձարևադարձային է
- 2) խոնավ մերձարևադարձային է
- 3) միջերկրածովային է
- 4) մուսսոնային է

19

Քարտեզում *Գ* տառով *ո՞ր* գետն է նշված.

- 1) Եփրատ
- 2) Արաքս
- 3) Ինդոս
- 4) Տիգրիս



20

Քարտեզում Ե տառով ո՞ր պետությունն է նշված.

- 1) Սիրիա
- 2) Լիբանան
- 3) Իսրայել
- 4) Հորդանան

21

Ո՞րն է ճիշտ բնութագրում «ժողովրդագրական ճգնաժամը».

- 1) բնակչության թվի աճը մահացության կրճատման հետևանքով
- 2) բնակչության թվի կայուն նվազումը նեղացված վերարտադրության պայմաններում
- 3) բնակչության թվի կայուն աճը ընդլայնված վերարտադրության պայմաններում
- 4) բնակչության թվի կայունացումը պարզ վերարտադրության պայմաններում

22

Բնակության վայրի ժամանակավոր կամ մշտական փոփոխության հետ կապված բնակչության տեղաշարժը կոչվում է.

- 1) տարաբնակեցում
- 2) բնակչության միգրացիա
- 3) բնակչության տեղաբաշխում
- 4) բնակչության բնական շարժ

23

Բնութագրումով որոշել պետությունը.

«Մեծ յոթնյակ»-ի անդամ այս պետությունն ըստ պետական կարգի պառլամենտական հանրապետություն է: Հարուստ է մարմարի ու սնդիկի պաշարներով: Երկրում բարձր է ուրբանիզացման մակարդակը, սակայն ի տարբերություն այլ եվրոպական երկրների՝ այստեղ շատ չեն խոշորագույն քաղաքները: Ո՞րն է այդ երկիրը.

- 1) Իտալիան
- 2) Ֆրանսիան
- 3) Գերմանիան
- 4) Մեծ Բրիտանիան

24

Երկրի բնակչության թիվը կազմում է 365 600 մարդ, ծնելիության գործակիցը՝ 5‰: Ծնվածների բացարձակ թիվը կկազմի.

- 1) 1828 մարդ
- 2) 1628 մարդ
- 3) 1980 մարդ
- 4) 2028 մարդ

25

Ընտրել «ժողովուրդ — լեզվախումբ» համապատասխանության ճիշտ շարքը.

- | | |
|------------------|---------------|
| 1. ֆրանսիացիներ | ա. իրանական |
| 2. անգլիացիներ | բ. սլավոնական |
| 3. ուկրաինացիներ | գ. գերմանական |
| 4. տաջիկներ | դ. ռոմանական |

- 1) 1-ա, 2-բ, 3-գ, 4-դ
- 2) 1-դ, 2-գ, 3-բ, 4-ա
- 3) 1-գ, 2-ա, 3-դ, 4-բ
- 4) 1-դ, 2-բ, 3-գ, 4-ա

26

Դեպի Սև ծով ելք ունեցող երկիր է.

- 1) Ռումինիան
- 2) Հունաստանը
- 3) Ադրբեջանը
- 4) Մոլդովան

27

«Արտադրանք — արդյունաբերության ճյուղ» գույգերից ընտրել *սխալը*.

- 1) տրիկոտաժ — թեթև արդյունաբերություն
- 2) պլաստմասսա — մեքենաշինություն
- 3) կաուչուկ — քիմիական արդյունաբերություն
- 4) պողպատ — մետաղաձուլություն

28

Թուրքիայի վերաբերյալ ո՞ր պնդումն է *սխալ*.

- 1) Բորատի և քրոմիտի պաշարներով աշխարհի առաջատար երկրներից է:
- 2) Սև մետաղաձուլության խոշոր կենտրոնը մայրաքաղաք Անկարան է:
- 3) Տնտեսության ավանդական զարգացած ճյուղերից է թեթև արդյունաբերությունը:
- 4) Երկրի խոշոր նավահանգիստներից են Ստամբուլը, Իսթենդերունը և Իզմիրը:

29 «Կեղծ ուրբանիզացումը» առավել բնորոշ է.

- 1) ԱՄՆ–ին և Ֆրանսիային
- 2) Բրազիլիային և Արգենտինային
- 3) Ճապոնիային և Շվեդիային
- 4) Իսրայելին և Բելգիային

30 Ներցամաքային երկրներ են.

- 1) Եգիպտոսը և ՀԱՀ–ը
- 2) Հնդկաստանը և Սյանման
- 3) Բոլիվիան և Պարագվայը
- 4) Արգենտինան և Բրազիլիան

31 Ո՞ր պնդումն է ճիշտ.

- 1) Աշխարհի խոշորագույն ջերմաէլեկտրակայանը Ռուսաստանում է:
- 2) Ջերմաէներգետիկան համաշխարհային էլեկտրաէներգետիկայի առաջատար ճյուղն է:
- 3) Աշխարհի խոշորագույն ջրաէլեկտրակայանը կառուցված է Ենիսեյ գետի վրա:
- 4) Ներկայումս համաշխարհային էներգետիկան իր զարգացման անխափան փուլում է:

32 Ջրաէներգետիկ ռեսուրսներով սակավ ապահովված երկրներն են.

- 1) Ալժիրը և Չադը
- 2) Ռուսաստանը և Նորվեգիան
- 3) Կանադան և Բրազիլիան
- 4) Թուրքիան և Հնդկաստանը

33 Ո՞ր պնդումն է ճիշտ.

- 1) Սևանա լիճն արևմուտքից եզրավորվում է Արեգունու և Սևանի լեռնաշղթաներով:
- 2) Շիրակի լեռնաշղթան ձգվում է միջօրեականի ուղղությամբ՝ Բազումի լեռնաշղթայից մինչև Վիրահայոց լեռնաշղթա:
- 3) Սյունիքի բարձրավանդակի ամենաբարձր լեռնագագաթը Մեծ Իշխանասարն է:
- 4) Հարավային լեռնաշղթաների և միջլեռնային գոգավորությունների մարզում է Արփայի գոգավորությունը:

34 ՀՀ-ում քիմիական արդյունաբերության զարգացման կարևոր նախադրյալ չէր.

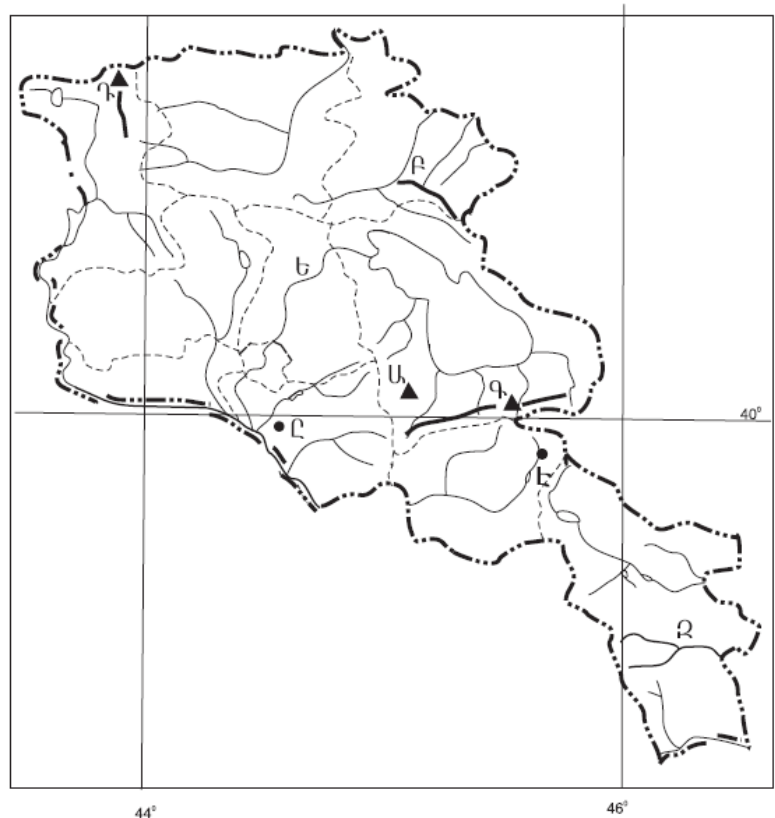
- 1) պղնձաձուլության պրոցեսում անջատված գազերը
- 2) քիմիական արտադրանքի նկատմամբ մեծ պահանջարկը
- 3) բնական գազի ներմուծումը
- 4) սև մետաղների ներմուծումը

35 Լոռու մարզում արդյունաբերության ո՞ր ենթաճյուղը զարգացած չէ.

- 1) գինու-կոնյակի արտադրությունը
- 2) պղնձաձուլությունը
- 3) քիմիական արդյունաբերությունը
- 4) պանրի արտադրությունը

36 Ո՞ր լեռնագագաթն է քարտեզում նշված Գ տառով.

- 1) Քաշաթաղ
- 2) Վարդենիս
- 3) Արմաղան
- 4) Աժդահակ



37 **Ո՞ր քաղաքն է քարտեզում նշված Հ տառով.**

- 1) Վարդենիս
- 2) Եղեգնաձոր
- 3) Վայք
- 4) Ջերմուկ

38 **Ածխի պաշարներով հարուստ երկրներ են.**

- 1) Բրազիլիան և Կանադան
- 2) Ավստրալիան և ՀԱՀ-ը
- 3) Ֆրանսիան և Իտալիան
- 4) Իրանը և Իրաքը

39 **Ջրավազաններն աղտոտող արհեստական նյութերից են.**

- 1) հարթավայրային գետերով տեղափոխվող փայտանյութերը
- 2) քիմիական պարարտանյութերը
- 3) ապարների քիմիական հողմահարման հետևանքով առաջացած նյութերը
- 4) ջրէկներում էներգետիկ նպատակներով օգտագործված ջրերը

40 **Բնական միջավայրի այն տարրերը, որոնք օգտագործվում են և կարող են օգտագործվել հասարակական արտադրության գործընթացում մարդու նյութական և հոգևոր պահանջմունքները բավարարելու համար, կոչվում են.**

- 1) աշխատանքային ռեսուրսներ
- 2) բնական ռեսուրսներ
- 3) տնտեսական ռեսուրսներ
- 4) ֆինանսական ռեսուրսներ

41 **Գրել այն կղզիների և կղզեխմբերի համարները, որոնք Հյուսիսային սառուցյալ օվկիանոսում են.**

- | | |
|-------------------------|----------------------|
| 1) Կանադական արկտիկական | 5) Նոր Երկիր |
| 2) Նոր Զելանդիա | 6) Սախալին |
| 3) Շպիցբերգեն | 7) Հյուսիսային երկիր |
| 4) Նյուֆաունդլենդ | 8) Կուրիլյան |

42

Գրել այն լեզուների համարները, որոնք մտնում են այթայան լեզվաընտանիքի մեջ.

- | | |
|-----------------|---------------|
| 1) պարսկերեն | 5) ուզբեկերեն |
| 2) արաբերեն | 6) վրացերեն |
| 3) քրդերեն | 7) իտալերեն |
| 4) ադրբեջաներեն | 8) հինդի |

43

Գրել Կուրի ավազանին պատկանող վտակների համարները.

- | | |
|------------|-----------|
| 1) Օլթի | 5) Քասաղ |
| 2) Կարկառ | 6) Տավուշ |
| 3) Մասիկ | 7) Դեբեդ |
| 4) Հագարու | 8) Գետիկ |

44

Տրված պետությունները դասավորել ատոմային էլեկտրաէներգիայի արտադրության նվազման կարգով.

- 1) ԱՄՆ
- 2) Ուկրաինա
- 3) Ճապոնիա
- 4) Ռուսաստան

Աֆրիկայի ջրագրական ցանցի վերաբերյալ տրված պնդումներից որո՞նք են ճիշտ, որո՞նք՝ սխալ.

- 1) Աֆրիկյան գետերը հիմնականում ունեն ձնաօտոցադաշտային սնում:
- 2) Աֆրիկայի ջրագրական ցանցը ընդհանուր առմամբ բաշխված է հավասարաչափ:
- 3) Աֆրիկայի տարածքի մոտ 1/3-ը հոսք չունի դեպի օվկիանոս:
- 4) Կոնգո գետի ջուրը հիմնականում օգտագործվում է ոռոգման նպատակներով:
- 5) Նյասան և Տանզանիկան տեկտոնական ծագման լճեր են:
- 6) Նիգերը և Օրանժը հորդանում են ձմռանը:

Բ Մակարդակ

46

Երկու կետեր միևնույն միջօրեականի վրա են՝ միմյանցից 5° հեռավորության վրա: Նրանց միջև իրական հեռավորությունը կլինի.

- 1) 505 կմ
- 2) 555 կմ
- 3) 550 կմ
- 4) 557 կմ

47

Արագածի գագաթին օդի ջերմաստիճանը -12°C , իսկ նույն պահին ստորոտում՝ $+6^\circ$: Ստորոտի բացարձակ բարձրությունը կլինի (հաշվարկը կատարել 6° -ով).

- 1) 990 մ
- 2) 1090 մ
- 3) 2090 մ
- 4) 3090 մ

48

Ո՞ր պնդումն է ճիշտ.

- 1) Օվկիանոսային տաք հոսանքները նպաստում են կլիմայի ցրտեցմանն ու մթնոլորտային տեղումների նվազմանը:
- 2) Օվկիանոսային սառը հոսանքներից տեղի է ունենում ջրի ակտիվ գոլորշացում:
- 3) Օվկիանոսի հատակի մինչև 200 մ խորություններն անվանում են մայրցամաքային լանջ:
- 4) Օվկիանոսի այն մասերում, որտեղ գոլորշացումը մեծ է, և գետեր չեն թափվում, ջրի աղիությունը միջինից բարձր է:

49

Ի՞նչը բնորոշ չէ արևադարձային օդային զանգվածներին.

- 1) ձևավորվում են 20° – 40° աշխարհագրական լայնություններում
- 2) բնորոշվում են բարձր ջերմությամբ, չորությամբ և փոքր թափանցիկությամբ (մեծ փոշոտվածության պատճառով)
- 3) ծովային տարատեսակը բնութագրվում է բարձր ջերմությամբ և խոնավությամբ, իսկ ցամաքայինը՝ բարձր ջերմությամբ, չորությամբ և փոքր թափանցիկությամբ
- 4) առանձնանում են փոքր խոնավությամբ և մեծ թափանցիկությամբ

50

Ո՞ր շարքի բոլոր աշխարհագրական օբյեկտներն են Հյուսիսային Ամերիկայում.

- 1) Կենտրոնական հարթավայր, Վինսոն լեռ, Օնեգա լիճ
- 2) Լա Պլատայի դաշտավայր, Կոտոպախի հրաբուխ, Էրի լիճ
- 3) Մեծ ավազան սարահարթ, Առափնյա լեռնաշղթա, Մեծ արջի լիճ
- 4) Թուրանի դաշտավայր, Ռուխ հրաբուխ, Մարակայբո լիճ

51

Ըստ պետական կառավարման ձևի՝ բացարձակ միապետություններ են.

- 1) Քուվեյթը և Օմանը
- 2) Ճապոնիան և Դանիան
- 3) Բելգիան և Նորվեգիան
- 4) Նիդերլանդները և Մեծ Բրիտանիան

52

Բնակչության վերարտադրության երկրորդ տիպի երկրներ են.

- 1) Ֆրանսիան և Գերմանիան
- 2) Ռուսաստանը և Ուկրաինան
- 3) Նիգերիան և Եթովպիան
- 4) Կանադան և Ավստրալիան

53

Ցորեն արտահանող առաջատար երկրներ են.

- 1) ԱՄՆ-ը և Ավստրալիան
- 2) Իսպանիան և Ճապոնիան
- 3) Իտալիան և Վիետնամը
- 4) Ինդոնեզիան և Գերմանիան

54

Ֆրանսիայի վերաբերյալ ո՞ր պնդումն է սխալ.

- 1) Էլեկտրաէներգիայի մեծ մասն արտադրվում է ատոմային էլեկտրակայաններում:
- 2) Սահմանակից պետություններից են Լյուքսեմբուրգը և Շվեյցարիան:
- 3) Արևմտյան Եվրոպայում ամենախտաբնակ պետությունն է:
- 4) Ֆրանսիային է պատկանում Կորսիկա կղզին:

55

Բնութագրումով որոշել երկիրը.

Այս երկիրն իր տարածքով և բնակչության թվով դասվում է աշխարհի գերխոշոր երկրների շարքին: Արևելքում ավերը ողողվում են Ատլանտյան օվկիանոսի ջրերով: Այն հարուստ է գրեթե բոլոր տեսակի օգտակար հանածոներով: Մակայն անբավարար են վառելիքաէներգետիկ ռեսուրսները: Ո՞րն է այդ երկիրը.

- 1) ԱՄՆ-ը
- 2) Մեքսիկան
- 3) Բրազիլիան
- 4) Արգենտինան

56

Հայկական լեռնաշխարհի վերաբերյալ ո՞ր պնդումն է ճիշտ.

- 1) Հարավ-արևելքում սահմանակցում է Փոքրասիական (Անատոլիական) բարձրավանդակին:
- 2) Զբաղեցնում է մոտ 29 հազ. կմ² մակերես:
- 3) Ալպ-Հիմալայան գեոսինկլինալային գոտում է:
- 4) Հարավում տարածվում է Կուր-Արաքսյան դաշտավայրը:

57

ՀՀ կլիմայի վերաբերյալ ո՞ր պնդումն է ճիշտ.

- 1) Հանրապետության տարածքը բարեխառն կլիմայական գոտում է:
- 2) ՀՀ տարածքում ամենացածր ջերմաստիճանը գրանցվել է Արագածի լանջին՝ Քարի լճի շրջանում:
- 3) Տարվա ընթացքում տեղումների նվազագույն քանակը թափվում է գարնան ամիսներին:
- 4) Տարվա ցուրտ ժամանակահատվածում միջլեռնային գոգավորություններում դիտվում է ջերմաստիճանային շրջադասություն (ինվերսիա):

58

Տավուշի մարզում տնտեսության ո՞ր ենթաճյուղն է բացակայում.

- 1) գինու և պահածոների արտադրություն
- 2) գունավոր մետաղաձուլություն և քիմիական արդյունաբերություն
- 3) հանքային ջրերի արտադրություն և զբոսաշրջություն
- 4) գորգագործություն և փայտամշակություն

59 **Ի՞նչն ընդհանուր չէ Արարատի և Արմավիրի մարզերի համար.**

- 1) Գերիշխում են կուլտուր ոռոգելի հողերը:
- 2) Արդյունաբերության մեջ առաջատար է ատոմային էներգետիկան:
- 3) Բնորոշ են խոշոր գյուղերը:
- 4) Գյուղատնտեսության զարգացման գլխավոր պայմանն արհեստական ոռոգումն է:

60 **Ո՞ր շարքում տրված մարզերի համար է գունավոր մետալուրգիան մասնագիտացման ճյուղ.**

- 1) Գեղարքունիքի և Շիրակի
- 2) Լոռու և Սյունիքի
- 3) Արագածոտնի և Շիրակի
- 4) Արմավիրի և Վայոց ձորի

61 **Տրված են Հայկական լեռնաշխարհի երեք խոշոր լճերը: Դասավորել դրանց համարները լճերի խորության աճման կարգով.**

- 1) Ուրմիա
- 2) Սևանա
- 3) Վանա

62 **Գրել Որոտան գետի վրա կառուցված ջրէկների համարները.**

- | | |
|----------------|-------------|
| 1) Արգելի | 5) Ձորագետի |
| 2) Արգնիի | 6) Շամբի |
| 3) Սպանդարյանի | 7) Հրագդանի |
| 4) Ողջիի | 8) Տաթնի |

63 **Գրել այն պետությունների համարները, որոնք սահմանակցում են Գերմանիային.**

- | | |
|--------------|-----------------|
| 1) Իտալիա | 5) Լեհաստան |
| 2) Շվեյցարիա | 6) Սլովակիա |
| 3) Հունգարիա | 7) Նիդերլանդներ |
| 4) Ուկրաինա | 8) Էստոնիա |

64 Գրել այն երկրների համարները, որոնք առաջատար են բրնձի արտադրությամբ.

- | | |
|--------------|----------|
| 1) Բրազիլիա | 5) Իրան |
| 2) ԱՄՆ | 6) Պերու |
| 3) Ինդոնեզիա | 7) Լատու |
| 4) Չինաստան | 8) Չիլի |

65 Օդի բացարձակ խոնավությունը 12 գ/մ³ է: Օդը հագեցնելու համար անհրաժեշտ է 15 գ ջրային գոլորշի: Որոշել օդի հարաբերական խոնավությունը:

(66-67) Լեռան ստորոտին մթնոլորտային ճնշումը 720 մմ է, իսկ գագաթին՝ 440 մմ.

66 Որոշել Լեռան հարաբերական բարձրությունը:

67 Որոշել Լեռան բացարձակ բարձրությունը:

(68-69) Գետի լայնությունը 12 մ է, միջին խորությունը՝ 0,5 մ: Գետի մեջ զցված խցանը 1 վայրկյանում անցնում է 2 մ տարածություն:

68 *Որոշել գետի ծախսը:*

69 *Որոշել գետի հոսքը մեկ ժամում:*

ՀՀ արդյունաբերության վերաբերյալ տրված պնդումներից որո՞նք են ճիշտ, որո՞նք՝ սխալ.

- 1) ՀՀ մեքենաշինության տեղաբաշխումը ամբողջությամբ համընկնում է գունավոր մետաղաձուլության տեղաբաշխման հետ:
- 2) ՀՀ էլեկտրաէներգիայի արտադրության կառուցվածքում Հայկական աէլի բաժինը կազմում է ավելի քան 2/5-ը:
- 3) Մեքենաշինության զարգացումը պայմանավորված է սև մետաղների առկայությամբ:
- 4) Վառելիքային հաշվեկշռում ամենամեծ բաժինն ունի բնական գազը:
- 5) Քիմիական արդյունաբերության խոշոր կենտրոններ են Հրազդան և Գյումրի քաղաքները:
- 6) Այլումինի արդյունաբերությունը բացառապես օգտագործում է տեղական հումք՝ Թեժ լեռան և Շվանիձորի (Մեղրու լեռնաշղթա):